

WWW.AKOEDU.IR

اولین و با کیفیت ترین

کلاسی های vip کنکور
آگادمی کنکور در ایران




جهت دریافت برنامه ی شخصی سازی شده یک **هفته ای**
رایگان کلیک کنید و یا به شماره ی ۰۹۰۲۵۶۴۶۲۳۴ **عدد ۱**
را ارسال کنید.

۲۰۰ تست جغرافیا دوازدهم - درس ۱

۱ کدام عبارت، درست است؟

- ۱) همه‌ی پایتخت‌ها در سطح جهان، مادرشهر هستند.
- ۲) مادرشهرها بیش از ۱۰ میلیون نفر جمعیت دارند.
- ۳) مادرشهرها در رأس هرم سلسله مراتب سکونت‌گاهی قرار دارند.
- ۴) مادرشهرها بزرگ‌ترین و پرجمعیت‌ترین شهر در یک ناحیه یا استان هستند.



۲ کدام عبارت، با تصویر ترسیم شده از «هسته‌ی اولیه و روند توسعه‌ی کالبدی

شهر رشت» در دوره‌های تاریخی مختلف مغایرت دارد؟

- ۱) حوزه نفوذ آن نسبت به سایر سکونت‌گاه‌ها، گسترده‌تر است.
- ۲) همانند سایر سکونت‌گاه‌های شهری و روستایی دارای مقر و موقعیت است.
- ۳) دسترسی به آب مهم‌ترین عامل طبیعی شکل‌گیری هسته اولیه‌ی آن سکونتگاه است.
- ۴) دسترسی به راه‌های ارتباطی سبب ارتقاء مرتبه آن در هرم سلسله مراتب سکونتگاهی شده است.

۳ کدام گزینه، دلیل مناسبی برای عبارت زیر است؟

«در سطح زمین، اشکال مختلفی از سکونت‌گاه‌ها به وجود آمده است.»

- ۱) چگونگی قرارگیری پدیده‌های طبیعی و انسانی
- ۲) نحوه توزیع شبکه خطوط حمل‌ونقل ریلی و جاده‌ای
- ۳) دسترسی به شرایط جغرافیایی (طبیعی، انسانی) مناسب
- ۴) نقش عوامل طبیعی و انسانی در شکل‌گیری شهر و روستا

۴ همه موارد از مهم‌ترین پدیده‌های مربوط به تغییرات الگوی شهرنشینی در جهان به شمار می‌آیند، به جز:

- ۱) افزایش شهرهای میلیونی
- ۲) تغییر الگوی مکانی شهرهای میلیونی
- ۳) تغییر ساختمان سنی جمعیت کلان شهرها
- ۴) اختلاف قابل توجه میان سطح شهرنشینی کشورهای جهان

۵ کدام عبارت دلیل مناسبی برای جمله زیر است؟

«امروزه نفوذ شهرها و شهرگرایی در روستاها، افزایش یافته است.»

- ۱) گسترش مظاهر شهری
- ۲) بروز تحولات صنعتی
- ۳) دسترسی به خطوط ریلی
- ۴) تغییر شیوه‌های زندگی



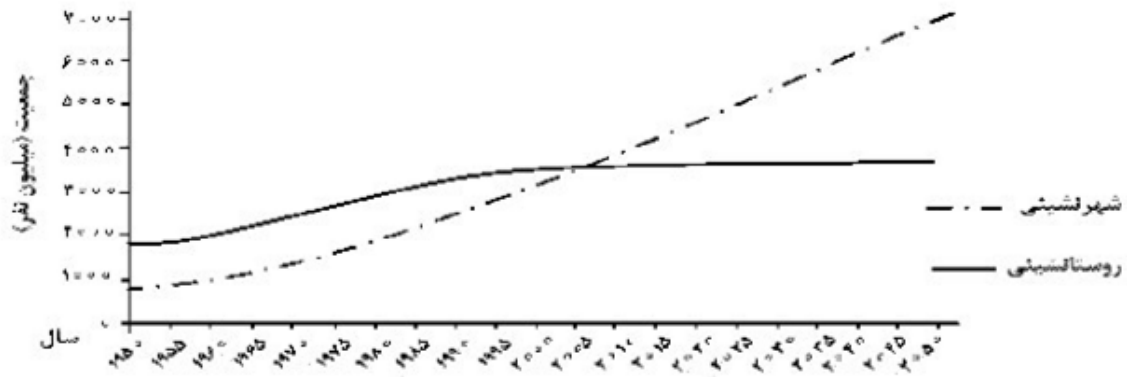
- ۶ دلیل اصلی مهاجرت از روستا به شهر در سده‌ی نوزدهم و اوایل قرن بیستم در آمریکا و اروپا چه موردی بوده است؟
- (۱) توسعه صنایع کارخانه ای
 (۲) انقلاب صنعتی و درخواست برای نیروی کار
 (۳) دستمزد بیشتر همراه با امکانات رفاهی بالاتر
 (۴) نفوذ شهرگرایی در روستاها و تغییر سریع سبک زندگی

- ۷ معنای صحیح شهرگرایی در کدام گزینه مطرح شده است؟
- (۱) روند اجتماعی شکل‌گیری روستاها به شهر را شهرگرایی می‌گویند.
 (۲) به تحولات صنعتی و نفوذ شهرها در سبک زندگی روستایی شهرگرایی می‌گویند.
 (۳) تغییرات فرهنگی در سبک زندگی روستایی و میل به شهری شدن را شهرگرایی می‌گویند.
 (۴) روند اقتصادی - اجتماعی است که طی آن شیوه‌های زندگی، رفتار و عملکردها، ارزش‌ها و مظاهر شهری در روستا اوج می‌یابد.

- ۸ درصد جمعیت شهرنشین در سال‌های ۱۹۵۰ و ۲۰۱۴ چه قدر است؟
- (۱) ۵۴ درصد - ۶۶ درصد
 (۲) ۳۰ درصد - ۵۴ درصد
 (۳) ۳۰ درصد - ۶۶ درصد
 (۴) ۲۵ درصد - ۷۹ درصد

- ۹ کدام گزینه به درستی بیان نشده است؟
- (۱) در شهرها نوگرایی بیش‌تر و تغییرات اجتماعی سریع‌تر است.
 (۲) در شهرها خدمات و تسهیلات بیش‌تر و گسترده‌تر است.
 (۳) در روستاها فضاهای باز و چشم‌اندازهای طبیعی بیش‌تر و گسترده‌تر است.
 (۴) به طور کلی شهرها از روستاها پرجمعیت‌ترند و تراکم جمعیت نیز در آنها کم‌تر است.

۱۰ با توجه به نمودار زیر، در کدام گزینه راهکار مناسب در «کنترل حرکت به سوی جهانی در حال شهری شدن» به درستی بیان شده است؟



- ۱) تدوین برنامه‌های عمومی و آمایش در مقیاس ملی
- ۲) اجرای سیاست‌های کلی اقتصادی و اجتماعی در مقیاس ملی
- ۳) طراحی برنامه‌ی توسعه روستایی به منظور دسترسی به خدمات اجتماعی
- ۴) برنامه‌ریزی و مدیریت شهر و روستا براساس همکاری و مشارکت مردم

۱۱ کدام گزینه، دلیل مناسبی برای جمله‌ی زیر است؟

«بین درآمد شهرنشینان و روستائینشان شکاف و نابرابری زیادی وجود دارد.»

- ۱) در بسیاری از نواحی روستایی جهان، میزان فقر بیش‌تر از نواحی شهری است.
- ۲) در بسیاری از کشورها، بیش‌ترین سرمایه‌گذاری‌ها به شهرها اختصاص دارد.
- ۳) ایجاد فرصت‌های شغلی در نواحی شهری از مناطق روستایی بیش‌تر است.
- ۴) زندگی روستائیان عمدتاً به درآمد حاصل از کشاورزی وابسته است.

۱۲ تمام عبارات، مفهوم نادرستی از «متروپل» را بیان می‌کنند؛ به‌جز:

- ۱) از نظر جریان کالا، خدمات و رفت و آمد افراد، با محدوده‌ی جغرافیایی پیرامون خود ارتباط دارد.
- ۲) براساس و رتبه‌بندی سکونت‌گاه‌ها، در ردیف‌های میانی هرم قرار دارد و خدمات متنوعی ارائه می‌کند.
- ۳) ساکنین آن مسافت زیادی را برای دریافت خدمات طی می‌کنند، به همین دلیل فاقد آستانه‌ی نفوذ است.
- ۴) بزرگ‌ترین و مهم‌ترین شهر در یک کشور است که پایتخت نامیده می‌شود و بر سایر سکونت‌گاه‌ها برتری دارد.

- ۱۳ کدام گزینه در تعریف «مگالاپلیس» به درستی بیان شده است؟
- ۱) با افزایش جمعیت مادرشهرها و گسترش حومه‌های آنها به تدریج این مناطق در شهرک‌های اقماری به وجود می‌آید.
 - ۲) شهرهایی که به سبب نقش آنها اقتصاد و تجارت جهانی، حوزه‌ی نفوذ بسیار وسیعی در سطح جهان دارند.
 - ۳) بزرگ‌ترین و مهم‌ترین شهر یک ناحیه که دارای بخش‌های پیرامونی زیاد در کنار خود است.
 - ۴) در آن، حومه‌ها و شهرک‌های اقماری یک مادرشهر به حومه‌ها و شهرک‌های مادرشهر دیگر پیوند می‌خورد.

- ۱۴ کدام گزینه از موارد تشکیل هسته‌ی اولیه در ایران محسوب نمی‌شوند؟
- ۱) قرار گرفتن در تقاطع راه‌ها
 - ۲) قلعه‌های دفاعی
 - ۳) بازارهای محلی
 - ۴) خاک حاصل‌خیز و جلگه‌ها

- ۱۵ به عبارات زیر توجه کنید و مشخص کنید که کدام مورد درباره مفهوم موقعیت است؟
- ۱) وجود زمین‌های وسیع و حاصل‌خیز در اروپا سبب تشکیل نظام اقتصادی فئودالی گردید.
 - ۲) تغییرات پیرامونی شهر اهواز و افزایش ریزگردها سبب مهاجرت‌های بسیار گردیده است.
 - ۳) قرارگیری بر سر راه‌های بزرگ سبب گسترش بازارهای محلی بسیار در ایران گردید.
 - ۴) دسترسی به آب فراوان از خواسته‌های اساسی بشر در شکل‌گیری سکونت‌گاه‌ها محسوب می‌شود.

- ۱۶ معنای صحیح شهرگرایی در کدام گزینه مطرح شده است؟
- ۱) به تحولات صنعتی و نفوذ شهرها در سبک زندگی روستایی شهرگرایی می‌گویند.
 - ۲) تغییرات فرهنگی در سبک زندگی روستایی و میل به شهری شدن را شهرگرایی می‌گویند.
 - ۳) روند اجتماعی شکل‌گیری روستاها به شهر را شهرگرایی می‌گویند.
 - ۴) روندی اقتصادی - اجتماعی است که طی آن شیوه‌های زندگی، رفتار و عمل‌کرده‌ها، ارزش‌ها و مظاهر شهری در روستا رواج می‌یابد.

- ۱۷ کدام گزینه در مورد شهرنشینی نادرست است؟
- ۱) عامل اصلی رشد شهرنشینی در آسیا و آفریقا مهاجرت است.
 - ۲) سرعت گسترش شهرنشینی در آسیا بیش از سایر نقاط جهان است.
 - ۳) در سال ۱۹۵۰ میلادی فقط ۳۰ درصد جمعیت جهان در شهر زندگی می‌کردند.
 - ۴) منظور از اصطلاح شهرنشینی نسبت جمعیت شهرهای یک کشور یا ناحیه به روستاهای آن است.

- ۱۸ کدام گزینه از ویژگی‌های مگالاپلیس محسوب نمی‌شود؟
- ۱) تمرکز صنایع دانش بنیان
 - ۲) تمرکز مؤسسات مالی و پولی
 - ۳) تمرکز و انبوهی جمعیت در حومه‌های شهری
 - ۴) فراوانی آمد و شد بین مادرشهرهای هم‌جوار با انواع وسایل نقلیه

- ۱۹ در روابط شهر و روستا محسوب می‌شوند.
- ۱) شهرها محل انتقال نیروی انسانی ماهر و متخصص به روستاها
 - ۲) روستاها محل انتقال صنایع دستی و کارخانه‌ای به شهرها
 - ۳) شهرها محل عرضه انواع خدمات فراغتی به روستاها
 - ۴) روستاها محل عرضه خدمات رفاهی به شهرها

۲۰

کدام عبارت با ویژگی‌های «مگالاپلیس توکیو - یوکوهاما» فاقد تناسب است؟

- (۱) برخی کلان‌شهرهای این منطقه به دلیل حوزه نفوذ بسیار وسیع در سطح جهان، نقش مهمی در تجارت جهانی دارد.
- (۲) حومه‌ها و شهرک‌های اقماری کلان‌شهر توکیو به حومه‌ها و شهرک‌های اقماری شهر یوکوهاما پیوند خورده است.
- (۳) تمرکز موسسات تجاری و صنایع دانش‌بنیان، از مهم‌ترین ویژگی‌های این منطقه ابرشهری محسوب می‌شود.
- (۴) در نتیجه گسترش فوق‌العاده زیاد یک یا دو مادرشهر در امتداد مسیرهای ارتباطی، پدید آمده‌اند.

۲۱

در ایران، طبق مصوبه شورای عالی معماری و شهرسازی به که بیش از میلیون نفر جمعیت دارند، یا اطلاق می‌شود.

- (۱) مادر شهرهایی - ۱۰ میلیون نفر جمعیت دارند، کلان‌شهر - متروپل
- (۲) مادر شهرهایی که - ۱ میلیون نفر جمعیت دارند، کلان‌شهر - مگاسیتی
- (۳) کلان‌شهرهایی که - ۱ - مادرشهر - مگاسیتی
- (۴) کلان‌شهرهایی که - ۱۰ - مادرشهر - متروپل

۲۲

در عبارت «سرعت گسترش شهرنشینی در آسیا و آفریقا، بیش‌تر از سایر نواحی جهان است و هم‌چنان ادامه دارد»، کدام موارد به ترتیب، «دلیل» و «پیامد» این پدیده را نشان می‌دهد؟

- الف) افزایش صنعتی شدن شهرها و توسعه کارخانه‌ها
 - ب) مهاجرت فزاینده جمعیت فعال روستایی به شهرها
 - ج) وقوع وارونگی دما و تشدید آلودگی هوای کلان‌شهرها
 - د) رشد بخش خدمات و ورود این کشورها به تجارت جهانی
- (۱) الف و ج - ب و د (۲) الف و د - ب و ج (۳) ب و ج - الف و د (۴) ب و د - الف و ج

۲۳

با بررسی یک نمونه هرم سلسله مراتب سکونت‌گاه‌ها در اروپا، می‌توان گفت
 (۱) قاعده هرم، مکان تصمیم‌گیری‌های سیاسی و ملاقات سران یک کشور است.
 (۲) راس هرم، به ترتیب از بیش‌ترین و کم‌ترین جمعیت و خدمات برخوردار است.
 (۳) شهر منطقه‌ای از نظر خدمات، بیش‌تر از شهر متوسط و کم‌تر از پایتخت است.
 (۴) روستاها از نظر میزان جمعیت، کم‌تر از هاملت و بیش‌تر از شهر کوچک است.

۲۴

در تفاوت‌های شهر و روستا، کدام عبارت با «متداول‌ترین ملاک تشخیص شهر و روستا» مطابقت دارد؟
 (۱) در کشورهای آسیایی و اروپایی، ملاک جمعیتی شهر و روستا، متفاوت است.
 (۲) در روستاها، درصد بیش‌تری از جمعیت فعال در بخش کشاورزی، فعالیت می‌کنند.
 (۳) در شهرها، چشم‌اندازهای اقتصادی صنعتی و خدماتی، از تراکم بیش‌تری برخوردار است.
 (۴) شیوه زندگی در نواحی شهری و روستایی از نظر نوگرایی و تغییرات اجتماعی، تفاوت دارند.

- ۲۵ با توجه به مفاهیم «مقر» و «موقعیت»، هر یک از عبارات‌های زیر به ترتیب مربوط به کدام مورد است؟
- الف) مکان اصلی و دقیق یک سکونتگاه است.
 ب) مردم برحسب نیاز، آن را برای زندگی انتخاب می‌کنند.
 ج) وضعیت یک سکونتگاه نسبت به پدیده‌های پیرامون خود است.
 د) در ادامه‌ی حیات و حتی نابودی آن سکونتگاه نقش مهمی دارد.
- ۱) مقر - مقر - موقعیت - موقعیت
 ۲) هسته‌ی اولیه (مقر) - مقر - جایگاه (مقر) - موقعیت
 ۳) مقر - موقعیت - موقعیت - مقر
 ۴) موقعیت - مقر - مقر - موقعیت

- ۲۶ کدام گزینه خصوصیات مهم جهان‌شهر را به درستی نشان داده است؟
- ۱) نقش آن در اقتصاد و تجارت جهانی - حوزه‌ی نفوذ بسیار وسیع
 ۲) امتداد آن در مسیرهای ارتباطی - حمل و نقل زنجیره‌ای
 ۳) مهاجرت روستاییان به شهرها - افزایش زاد و ولد
 ۴) افزایش جمعیت در شهرها - گسترش حومه‌ی شهرها
- ۲۷ کدام گزینه از موارد تشکیل هسته‌ی اولیه در ایران محسوب نمی‌شود؟
- ۱) قرار گرفتن در تقاطع راه‌ها
 ۲) قلعه‌های دفاعی
 ۳) بازارهای محلی
 ۴) خاک حاصل‌خیز و جلگه‌ها

- ۲۸ کدام گزینه از ویژگی‌های مگالاپلیس محسوب نمی‌شود؟
- ۱) تمرکز صنایع دانش بنیان
 ۲) تمرکز مؤسسات مالی و پولی
 ۳) تمرکز و انبوهی جمعیت در حومه‌های شهری
 ۴) فراوانی آمد و شد بین مادر شهرهای هم‌جوار با انواع وسایل نقلیه

- ۲۹ به عبارات زیر توجه کنید و مشخص کنید که کدام مورد درباره مفهوم موقعیت است؟
- ۱) وجود زمین‌های وسیع و حاصل‌خیز در اروپا سبب تشکیل نظام اقتصادی فنودالی گردید.
 ۲) تغییرات پیرامونی شهر اهواز و افزایش ریزگردها سبب مهاجرت‌های بسیار گردیده است.
 ۳) قرارگیری بر سر راه‌های بزرگ که سبب گسترش بازارهای محلی بسیار در ایران گردید.
 ۴) دسترسی به آب فراوان از خواسته‌های اساسی بشر در شکل‌گیری سکونتگاه‌ها محسوب می‌شود.

- ۳۰ متداول‌ترین ملاک تشخیص روستا از شهر کدام مورد است؟
- ۱) فعالیت اقتصادی
 ۲) میزان جمعیت
 ۳) دسترسی به خدمات و تسهیلات
 ۴) وسعت و فضا

- ۳۱ چرا اکثر مهاجران روستایی پس از ورود به شهر، در «بخش غیررسمی اقتصاد» به فعالیت می‌پردازند؟
- الف) افزایش رشد طبیعی جمعیت شهری
 ب) محدودیت فرصت‌های شغلی در شهر
 ج) نداشتن مهارت و تخصص
 د) رشد بخش غیررسمی اقتصاد
- ۱) الف و ب
 ۲) الف و د
 ۳) ج و د
 ۴) ب و ج

۳۲

- همه‌ی عبارت‌ها، مفهوم درستی از «منطقه‌ی مادرشهری» را بیان می‌کنند؛ به جز:
- (۱) به تدریج و با گسترش حمل‌ونقل و وسایل ارتباطی، به وجود آمده است.
 - (۲) با افزایش جمعیت مادرشهرها و گسترش حومه‌های پیرامونی، به وجود می‌آید.
 - (۳) با مهاجرت گسترده‌ی مردم از نقاط مختلف یک کشور به مادرشهر ملی، به وجود می‌آید.
 - (۴) از کنار هم قرار گرفتن چندین حومه، شهرک اقماری و حداقل یک مادرشهر، به وجود آمده است.

۳۳

- کدام‌یک از موارد، علل شکل‌گیری دوره‌ی شهرنشینی سریع را در کشور ما بیان می‌کند؟
- (الف) تبدیل شدن شهرها به محل انباشت سرمایه از طریق اقدامات دولت‌ها
 - (ب) تبدیل شدن تعداد زیادی روستا به بافت شهری با موافقت وزارت کشور
 - (ج) شدت گرفتن مهاجرت‌های روستا به شهر به دلیل تغییر سیاست جمعیتی
 - (د) ناموفق بودن تغییر قوانین مالکیت زمین و توزیع مجدد آن میان روستاها

(الف و ج) (۲) الف و د (۳) ب و ج (۴) ب و د

۳۴

با توجه به معادل مفهوم شهرها، کدام مورد نادرست است؟

- (۱) مادرشهر = متروپل
- (۲) جهان‌شهر = ابرشهر
- (۳) کلان‌شهر = مگاسیتی
- (۴) مگالاپلیس = زنجیره مادرشهر

۳۵

با توجه به حوزه‌ی نفوذ شهرها و روستاها، کدام عبارت نادرست است؟

- (۱) کلان‌شهر تهران در زمینه‌ی خدمات پیشرفته پزشکی و عرضه خودرو، حوزه نفوذ گسترده‌ای در سطح ایران دارد.
- (۲) شهر رودبار واقع در استان گیلان در زمینه خدمات رفاهی، حوزه نفوذ محدودتری در مقایسه با شهر رشت دارد.
- (۳) حوزه نفوذ روستاهای کشورهای اروپایی نسبت به شهرهای کوچک، محدوده گسترده‌تری از جریان کالاها دارد.
- (۴) کلان‌شهر توکیو در کشور ژاپن، حوزه نفوذ گسترده‌ای در زمینه‌ی ارائه فعالیت‌های نوع چهارم در سطح جهان دارد.

۳۶

در سلسله مراتب سکونت‌گاه‌های اروپایی، هرچه از پایتخت به سمت روستاها حرکت کنیم، کدام پدیده انتظار می‌رود؟

- (۱) دامنه نفوذ سکونت‌گاه‌ها با کاهش مسافت، روبه‌رو خواهد شد.
- (۲) برخی خدمات آموزشی، تنوع و تعداد کم‌تری پیدا خواهد کرد.
- (۳) عملکرد سکونت‌گاه‌ها از نظر تنوع خدماتی، کاهش خواهد یافت.
- (۴) به طور معمول، محدوده حوزه نفوذ سکونت‌گاه‌ها، بزرگ‌تر خواهد شد.

۳۷

در بررسی و مقایسه ویژگی شهر و روستا، کدام عبارت مفهوم نامناسبی را منتقل می‌کند؟

- (۱) در شهرها، تغییرات اجتماعی گسترده، تنوع کم‌تری از شیوه زندگی شهری را به وجود آورده است.
- (۲) در شهرها، گستردگی و تنوع فعالیت‌های نوع دوم و سوم بر فعالیت‌های نوع اول، غلبه بیش‌تری دارد.
- (۳) در روستاها، بین میزان جمعیت و وابستگی اجتماعی مردم آن‌ها، ارتباط غیرمستقیم به وجود می‌آید.
- (۴) در روستاها، حوزه نفوذ محدودتری از انواع خدمات رفاهی و تسهیلات آموزشی مشاهده می‌شود.

۳۸

کدام موارد با مفاهیم «مقر» یک سکونتگاه مطابقت دارد؟

- (الف) به دلیل عوامل مناسب دفاعی و ارتباطی در یک ناحیه، سکونتگاهی به نام روستا پدید آمد.
 (ب) نواحی صنعتی مجاور تهران، این شهر را به یکی از مهم‌ترین صنایع مصرفی کشور تبدیل نمود.
 (ج) دسترسی به راه‌های تجاری و منابع در پدید آمدن هسته اولیه یک سکونتگاه ویژه نقش دارد.
 (د) شهر بیشاپور در زمان ساسانیان تا قرن هفتم، از اهمیت ارتباطی مهمی در ایران برخوردار بود.
- (۱) الف و ج (۲) الف و د (۳) ب و ج (۴) ب و د

۳۹

معنای صحیح شهرگرایی در کدام گزینه مطرح شده است؟

- (۱) روند اجتماعی شکل‌گیری روستاها به شهر را شهرگرایی می‌گویند.
 (۲) به تحولات صنعتی و نفوذ شهرها در سبک زندگی روستایی، شهرگرایی می‌گویند.
 (۳) تغییرات فرهنگی در سبک زندگی روستایی و میل به شهری شدن را شهرگرایی می‌گویند.
 (۴) روندی اقتصادی - اجتماعی است که طی آن شیوه‌های زندگی، رفتار و عملکردها، ارزش‌ها و مظاهر شهری در روستا رواج می‌یابد.

۴۰

کدام عبارت از ویژگی‌های مگالاپلیس محسوب نمی‌شود؟

- (۱) تمرکز صنایع دانش بنیان
 (۲) تمرکز مؤسسات مالی و پولی
 (۳) تمرکز و انبوهی جمعیت در حومه‌های شهری
 (۴) فراوانی آمد و شد بین مادرشهرهای هم‌جوار با انواع وسایل نقلیه

۴۱

تغییرات شکل شهرها به واسطه چه امری شکل می‌گیرد؟

- (۱) اهمیت سیاسی و ارتباطی
 (۲) حوزه و دامنه نفوذ
 (۳) هسته اولیه شهر و کارکردهای آن در طول زمان
 (۴) چگونگی پیدایش و کارکردهای مختلف خود

۴۲

در کدام گزینه دلایل انهدام کشاورزی در نتیجه‌ی اصلاحات ارضی در ایران به درستی بیان شده است؟

- (۱) توجه به صنایع مونتاژ - واردات کالا از کشورهای خارجی - حمایت نکردن دولت از کشاورزان - تقسیم نادرست زمین
 (۲) سرمایه‌گذاری خارجی در کشاورزی - دریافت نکردن حق گمرکی از محصولات کشاورزی خارجی در کشور - کم شدن صادرات کشاورزی
 (۳) کم شدن آب در اثر خشکسالی در کشور - افزایش محصولات کشاورزی خارجی در کشور - زورگویی خان‌ها و ارباب‌ها
 (۴) حمایت کردن دولت از ارباب‌ها و خان‌ها - سرمایه‌گذاری خارجی در کشاورزی - توجه به صنایع مونتاژ - کم شدن آب در اثر خشکسالی در کشور

۴۳

در در کشورهای توسعه‌یافته و صنعتی اروپا و آمریکای شمالی، به دنبال توسعه‌ی صنایع کارخانه‌ای مهاجرت از روستاها به شهرها رخ داد.

- (۱) قرن نوزدهم و نیمه‌ی اول قرن بیستم
 (۲) اوایل قرن هجدهم و نوزدهم
 (۳) اواخر قرن هجدهم و هجدهم
 (۴) اواخر قرن بیستم و اوایل بیست‌ویکم

۴۴

به زنجیره‌ای از مادرشهرها یا کلان‌شهرها در امتداد مسیرهای ارتباطی و حمل و نقل می‌گویند.

- (۱) مگالاپلیس (۲) شهرک‌های اقماری (۳) متروپل (۴) جهان‌شهر

- ۴۵) تعریف دامنه‌ی نفوذ یک سکونتگاه در کدام گزینه به درستی بیان شده است؟
 (۱) محدوده‌ی جغرافیایی‌ای که در آن انتقال کالا و خدمات و مهاجرت زیاد انجام می‌شود.
 (۲) بیشترین مسافتی که مردم منطقه برای دریافت خدمات از آن سکونتگاه طی می‌کنند.
 (۳) بین آن محدوده و سکونتگاه، جریان کالا، خدمات رفت و آمد افراد وجود دارد.
 (۴) حداقل جمعیتی که تقاضای کالا، خدمات یا عملکردی از سکونتگاه دارد.

- ۴۶) کدام گزینه به ترتیب درصد شهرنشینی در جهان در سال‌های ۱۹۵۰، ۲۰۱۴ و ۲۰۵۰ را به درستی نشان می‌دهد؟
 (۱) ۲۰٪ - ۵۴٪ - ۷۵٪ (۲) ۳۰٪ - ۵۴٪ - ۶۶٪ (۳) ۳۰٪ - ۵۰٪ - ۶۶٪ (۴) ۲۰٪ - ۴۵٪ - ۷۰٪

- ۴۷) تعریف موقعیت یک شهر یا روستا در کدام گزینه به درستی بیان شده است؟
 (۱) به وضعیت آن سکونتگاه نسبت به پدیده‌های پیرامون خود می‌گویند.
 (۲) به مکان اصلی و دقیق یک سکونتگاه و محل استقرار آن روی زمین می‌گویند.
 (۳) مکانی است که مردم بر حسب نیاز، آن را برای زندگی انتخاب کرده و به اشغال درآورده‌اند.
 (۴) شهرها و روستاها در این مکان در اثر مرور زمان در حال گسترش یافتن هستند.

- ۴۸) کدام گزینه، نشان‌دهنده استان‌های کم جمعیت در کشور ایران است؟
 (۱) آذربایجان شرقی - فارس
 (۲) کرمان - سیستان و بلوچستان
 (۳) خراسان جنوبی - آذربایجان غربی
 (۴) ایلام - سمنان

- ۴۹) کدام گزینه به ترتیب تعداد شهرهای بالای ۱۰ میلیون نفر در جهان در سال «۱۹۹۰» را به درستی نشان می‌دهد؟
 (۱) ۲۸ - ۴۱ (۲) ۱۰ - ۲۸ (۳) ۱۵ - ۴۱ (۴) ۸ - ۳۸

- ۵۰) کدام گزینه در تعریف «ابره‌شهر» درست است؟
 (۱) برخی شهرها به سبب نقش آن‌ها در اقتصاد و تجارت جهانی، دارای حوزه نفوذ بسیار وسیعی در سطح جهان هستند.
 (۲) به بزرگ‌ترین و مهم‌ترین شهر یک ناحیه، استان یا یک کشور می‌گویند.
 (۳) با افزایش جمعیت کلان‌شهرها و گسترش حومه‌های آن‌ها، این منطقه به وجود می‌آید.
 (۴) حومه‌ها و شهرک‌های اقماری یک مادرشهر به حومه‌ها و مادرشهر دیگر پیوند می‌خورند.

- ۵۱) کدام گزینه جهت بیش‌ترین مگالاپلیس در ایالات متحده آمریکا را به درستی نشان می‌دهد؟
 (۱) شمال شرقی (۲) غرب (۳) جنوب شرقی (۴) شمال غربی

- ۵۲) کدام گزینه میزان رشد سالیانه شهرنشینی سال‌های اخیر در «آسیا و آفریقا» و «سایر نواحی جهان» را به درستی نشان می‌دهد؟ (به ترتیب)
 (۱) ۱/۵ درصد - ۰/۴ درصد (۲) ۰/۴ درصد - ۱/۵ درصد
 (۳) ۲/۵ درصد - ۴/۵ درصد (۴) ۰/۴ درصد - ۲/۵ درصد

- ۵۳) کدام گزینه به ترتیب شاخص‌های تعریف «آستانه جمعیتی نفوذ» و «دامنه نفوذ» را به درستی نشان می‌دهد؟
 (۱) کالا و خدمات - جمعیت و عملکرد
 (۲) بیش‌ترین مسافت - کالا و خدمات
 (۳) حداقل جمعیت - بیش‌ترین مسافت
 (۴) جمعیت و عملکرد - حداقل جمعیت

۵۴ کدام گزینه به ترتیب محدوده تعداد جمعیت در «هاملت» و «شهر کوچک» در سلسله مراتب سکونتگاه‌ها در اروپا را به درستی نشان می‌دهد؟

- (۱) (۱۰۰ - ۲۵۰,۰۰۰) - (۲۵۰۰ - ۲۵,۰۰۰)
 (۲) (۱۰۰ - ۲۵۰۰) - (۲۵,۰۰۰ - ۱۵۰,۰۰۰)
 (۳) (۱۰۰ - ۱۰) - (۱۰۰ - ۲۵۰۰)
 (۴) (۱۰۰ - ۲۵۰۰) - (۱۰۰ - ۲۵۰۰)

۵۵ مکانی که مردم بر حسب نیاز، آن را برای زندگی انتخاب کرده و به اشغال درآورده‌اند و بعدها روستا یا شهر از آن محل گسترش یافته است، چه نامیده می‌شود؟

- (۱) موقعیت (۲) هسته اولیه (۳) حوزه نفوذ (۴) ناحیه

۵۶ دلیل اصلی مهاجرت از روستا به شهر در سده‌ی نوزدهم و اوایل قرن بیستم در آمریکا و اروپا چه موردی بوده است؟

- (۱) دستمزد بیشتر همراه با امکانات رفاهی بالاتر
 (۲) توسعه صنایع کارخانه‌ای
 (۳) نفوذ شهرگرایی در روستاها و تغییر سریع سبک زندگی
 (۴) انقلاب صنعتی و درخواست برای نیروی کار

۵۷ کدام گزینه از ویژگی‌های مگالاپلیس محسوب نمی‌شود؟

- (۱) تمرکز و انبوهی جمعیت در حومه‌های شهری
 (۲) تمرکز مؤسسات مالی و پولی
 (۳) تمرکز صنایع دانش بنیان
 (۴) فراوانی آمد و شد بین مادر شهرهای همجوار با انواع وسایل نقلیه

۵۸ کدام گزینه در مورد شهرنشینی نادرست است؟

- (۱) عامل اصلی رشد شهرنشینی در آسیا و آفریقا مهاجرت است.
 (۲) سرعت گسترش شهرنشینی در آسیا بیش از سایر نقاط جهان است.
 (۳) در سال ۱۹۵۰ میلادی فقط ۳۰ درصد جمعیت جهان در شهر زندگی می‌کردند.
 (۴) منظور از اصطلاح شهرنشینی نسبت جمعیت شهرهای یک کشور یا ناحیه به روستاهای آن است.

۵۹ نوگرایی و سرعت تغییرات شهری ناشی از چیست؟

- (۱) فرهنگ و مناسبات اجتماعی
 (۲) روابط خویشاوندی در روستا
 (۳) وسعت و فضای سکونت
 (۴) نوع فعالیت

۶۰ متداول‌ترین ملاک تشخیص روستا از شهر کدام مورد است؟

- (۱) فعالیت اقتصادی
 (۲) میزان جمعیت
 (۳) دسترسی به خدمات و تسهیلات
 (۴) وسعت و فضا

۶۱ به عبارات زیر توجه کنید و مشخص کنید که کدام مورد درباره مفهوم موقعیت است؟

- (۱) وجود زمین‌های وسیع و حاصلخیز در اروپا سبب تشکیل نظام اقتصادی فنودالی گردید.
 (۲) تغییرات پیرامونی شهر اهواز و افزایش ریزگردها سبب مهاجرت‌های بسیار گردیده است.
 (۳) قرارگیری بر سر راه‌های بزرگ سبب گسترش بازارهای محلی بسیار در ایران گردید.
 (۴) دسترسی به آب فراوان از خواسته‌های اساسی بشر در شکل‌گیری سکونتگاه‌ها محسوب می‌شود.

- ۶۲ کدام گزینه از موارد تشکیل هسته اولیه در ایران محسوب نمی‌شوند؟
 (۱) قرار گرفتن در تقاطع راه‌ها
 (۲) قلعه‌های دفاعی
 (۳) بازارهای محلی
 (۴) خاک حاصلخیز و جلگه‌ها

- ۶۳ علت و نتیجه‌ی «انهدام کشاورزی پس از اصلاحات ارضی در ایران» کدام است؟
 (۱) حمایت دولت از کشاورزان - تغییر قوانین مالکیت زمین
 (۲) توجه نکردن به صنایع مونتاژ - شدت گرفتن مهاجرت روستاییان به شهرها
 (۳) واردات کالا از کشورهای خارجی - شدت گرفتن مهاجرت روستاییان به شهرها
 (۴) تقسیم نادرست زمین - تغییر قوانین مالکیت زمین

- ۶۴ در کدام گزینه طرق افزایش جمعیت شهری در ایران به درستی بیان شده است؟
 (۱) انتقال کارخانه‌ها به نواحی روستایی - سیاست‌های تشویقی مهاجرت - ادغام روستاها در بافت شهری
 (۲) رشد مولید - مهاجرت روستاییان به شهرها - تبدیل روستاها به نقاط شهری - ادغام روستاها در بافت شهری
 (۳) تشویق به افزایش تعداد شهرهای کوچک - افزایش غیرطبیعی جمعیت شهرها - سیاست‌های تشویقی مهاجرت
 (۴) افزایش غیرطبیعی جمعیت شهرها - تبدیل روستاها به نقاط شهری - تشویق به افزایش تعداد شهرهای کوچک - انتقال کارخانه‌ها به نواحی روستایی

- ۶۵ در کدام زمان و به دنبال کدام واقعه در کشورهای توسعه یافته و صنعتی اروپا و آمریکای شمالی، مهاجرت از روستاها به شهرها رخ داد؟
 (۱) سده‌ی نوزدهم و نیمه‌ی اول قرن بیستم - توسعه‌ی صنایع کارخانه‌ای
 (۲) سده‌ی بیستم و دهه‌ی اول قرن بیست و یکم - شهرگرایی
 (۳) سده‌ی نوزدهم و نیمه‌ی اول قرن بیستم - شهرگرایی
 (۴) سده‌ی بیستم و دهه‌ی اول قرن بیست و یکم - توسعه‌ی صنایع کارخانه‌ای

- ۶۶ چه عاملی سبب افزایش «شهرگرایی» در روستاها شد؟
 (۱) رواج شیوه‌های زندگی، رفتار و عملکردها، ارزش‌ها و مظاهر شهری در روستاها
 (۲) بروز تحولات صنعتی و ورود کشورها به عصر نوسازی
 (۳) ایجاد تغییرات قابل ملاحظه در چهره و کالبد روستاها نسبت به گذشته
 (۴) تعریف نقش صیادی، گردشگری و صنعتی برای روستاها

- ۶۷ در کدام گزینه انواع شهرها، از کوچک به بزرگ، به درستی آورده شده است؟
 (۱) متروپل - مگالاپلیس - مگاسیتی
 (۲) متروپل - مگالاپلیس - منطقه‌ی ابرشهری - کلان‌شهر
 (۳) مگاسیتی - کلان‌شهر - مادرشهر - متروپل
 (۴) مگاسیتی - منطقه‌ی مادرشهری - منطقه‌ی ابرشهری

- ۶۸ یکی از مهم‌ترین پدیده‌های مربوط به تغییرات الگوی شهرنشینی در جهان کدام است و در سال ۱۹۵۰ میلادی کدام دو شهر بیش‌تر از هشت میلیون نفر جمعیت داشتند؟
 (۱) افزایش شهرهای میلیونی - نیویورک و پاریس
 (۲) افزایش شهرهای میلیونی - لندن و نیویورک
 (۳) تغییر الگوی مکانی شهرها - پاریس و لندن
 (۴) تغییر الگوی مکانی شهرها - نیویورک و لندن

- ۶۹ الگوی مکانی شهرهای بالای ۵ و ۱۰ میلیون نفر در جهان تا چند دهه‌ی پیش چگونه بود؟
- (۱) قاره‌های آسیا، آمریکای لاتین و آفریقا با رشد چنین شهرهایی روبه‌رو بودند.
 - (۲) این شهرها فقط در نیمکره‌ی شمالی و در آمریکای شمالی، اروپا و ژاپن وجود داشتند.
 - (۳) مناطقی چون ژاپن، اروپا، استرالیا و آمریکای جنوبی دارای بالاترین تعداد این شهرها بودند.
 - (۴) در هر کدام از قاره‌های جهان در حال رشد و بروز و ظهور بودند.

- ۷۰ به ترتیب متداول‌ترین و مهم‌ترین تفاوت‌های شهر و روستا کدام‌اند؟
- (۱) میزان جمعیت - فعالیت اقتصادی
 - (۲) میزان جمعیت - فرهنگ و مناسبات اجتماعی
 - (۳) فعالیت اقتصادی - میزان جمعیت
 - (۴) فعالیت اقتصادی - فرهنگ و مناسبات اجتماعی

- ۷۱ «وضعیت یک سکونتگاه نسبت به پدیده‌های پیرامون خود»، «محل استقرار یک سکونتگاه روی زمین» و «محل گسترش یک شهر یا روستا» به ترتیب بیانگر تعریف کدام مفاهیم هستند؟
- (۱) موقعیت - مقر - هسته‌ی اولیه
 - (۲) مقر - موقعیت - موقعیت
 - (۳) مقر - مقر - موقعیت
 - (۴) موقعیت - موقعیت - هسته‌ی اولیه

- ۷۲ کدام یک از عبارات‌های زیر درباره‌ی «مقر» درست است؟
- (۱) از چهار هزار سال قبل، مقر اکثر روستاها و شهرهای پرجمعیت، کوهپایه‌ها و دشت‌ها بوده است.
 - (۲) مقر هر سکونتگاه، مکانی را که مردم برحسب نیاز، آنرا برای زندگی انتخاب کرده‌اند نیز شامل می‌شود.
 - (۳) سکونت‌گزینی ابتدایی انسان‌ها، بیش‌تر تحت تأثیر عوامل سیاسی و جغرافیایی بوده است.
 - (۴) مقر هر شهر یا روستا، مکان اصلی و جایگاه آن سکونتگاه در سطح ناحیه است.

- ۷۳ کدام گزینه مهم‌ترین علل افزایش شهرنشینی سریع بعد از سال ۱۳۳۵ در ایران را به درستی نشان می‌دهد؟
- (۱) مهاجرت از روستا به شهر - رشد مولید (تولد)
 - (۲) سرمایه‌گذاری دولت در شهرها با استفاده از درآمد نفتی - اصلاحات اراضی
 - (۳) ورشکستگی تولیدات داخلی - کم‌آبی و قحطی در روستاها
 - (۴) اصلاحات اراضی - مشکلات تولیدات داخلی

- ۷۴ در کدام گزینه به ترتیب «مهم‌ترین» و «متداول‌ترین» ملاک تفاوت شهر و روستا به درستی بیان شده است؟
- (۱) میزان جمعیت - وسعت و فضای سکونت و فعالیت
 - (۲) دسترسی به خدمات و تسهیلات - فرهنگ و مناسبات اجتماعی
 - (۳) فرهنگ و مناسبات اجتماعی - فعالیت‌های اقتصادی
 - (۴) فعالیت‌های اقتصادی - میزان جمعیت

- ۷۵ مهم‌ترین پدیده‌های مربوط به تغییرات الگوی شهرنشینی در جهان کدام است؟
- (۱) افزایش شهرهای چند میلیونی
 - (۲) مگالوپلیس
 - (۳) حومه نشینی
 - (۴) دامنه نفوذ

در تصویر زیر، کدام گزینه مقایسه درستی از سلسله مراتب سکونتگاه‌ها، ارائه می‌دهد؟



(۱) در رأس هرم، میزان جمعیت کمتر از قاعده هرم است.

(۲) در قاعده هرم، دسترسی به خدمات بیشتر از رأس هرم است.

(۳) در رأس هرم، تنوع خدمات بیشتر از قاعده هرم است.

(۴) در قاعده هرم، تعدد خدمات بیشتر از رأس هرم است.

کدام گزینه به ترتیب درست (ص) یا نادرست (غ) بودن عبارت‌های زیر را در ارتباط با «مقر و موقعیت» به درستی بیان می‌کند؟

الف) مقر یک شهر یا روستا در ادامه‌ی حیات یا گسترش آن سکونتگاه و یا حتی نابودی و زوال آن نقش مهمی ایفا می‌کند.

ب) مقر یک شهر یا روستا، وضعیت آن سکونتگاه نسبت به پدیده‌های پیرامون خود و همچنین جایگاه آن در سطح ناحیه است.

ج) موقعیت، مکان اصلی و دقیق یک سکونتگاه و محل استقرار آن روی زمین است.

د) منظور از هسته‌ی اولیه، مکانی است که مردم برحسب نیاز، آن را برای زندگی انتخاب کرده و به اشغال درآورده‌اند.

(۱) غ - غ - غ - ص (۲) ص - غ - ص - غ (۳) غ - ص - غ - ص (۴) ص - ص - غ - ص

کدام گزینه، دلایل مناسبی را برای «رشد شهرنشینی» در «قاره‌های در حال توسعه» بیان می‌کند؟

(۱) نیاز کارخانه‌ها به نیروی کار و توسعه صنعتی

(۲) رقم بالای مولید و افزایش نرخ رشد مطلق

(۳) شروع انقلاب صنعتی و افزایش نرخ رشد طبیعی

(۴) ورود به دوره‌ی صنعتی شدن و تغییر ساختمان سنی روستاها

همه‌ی جمله‌ها به بیان درستی از «مقر» اشاره می‌کنند، به جز:

(۱) شهر و روستا از آن نقطه گسترش می‌یابد.

(۲) در ادامه‌ی حیات سکونتگاه نقش دارد.

(۳) مکان واقعی سکونتگاه در آنجا بنا شده است.

(۴) معمولاً بیانگر بافت تاریخی و قدیمی سکونتگاه است.

کدام عبارت، با مفهوم «شهرگرایی» مطابقت بیش‌تری دارد؟

(۱) بروز تحولات صنعتی و ورود کشورها به عصر نوسازی

(۲) رواج شیوه‌های زندگی و رفتار و مظاهر شهری، در روستاها

(۳) تغییر نقش و عملکرد روستا و رونق صنایع کوچک تبدیلی

(۴) استفاده از ماشین‌آلات کشاورزی و عناصر و خدمات شهری

۸۱ کدام گزینه به ترتیب به اقدامات «بنیاد مسکن انقلاب اسلامی» و «جهاد سازندگی» در توسعه روستایی ایران اشاره می‌کند؟

- (۱) ایجاد شبکه‌های آب آشامیدنی و خودبستگی کشاورزی
- (۲) بهبود وضعیت اقتصادی و اجتماعی و ارائه خدمات بهداشتی
- (۳) ایجاد و توسعه راه‌های روستایی و لایروبی و نگهداری قنات‌ها
- (۴) اجرای طرح‌های هادی روستایی و ساماندهی کاربری‌های مسکونی

۸۲ کدام گزینه شهرهای جهان با جمعیت بالای ۸ میلیون نفر را در سال ۱۹۵۰ میلادی به درستی بیان می‌کند؟
(۱) پاریس - پکن (۲) توکیو - نیویورک (۳) پاریس - لندن (۴) لندن - نیویورک

۸۳ براساس آمار سال ۱۳۹۵ به ترتیب (از راست به چپ) تقریباً چند درصد جمعیت ایران در شهرها و چند درصد در روستاها زندگی می‌کرده‌اند؟

- (۱) ۲۵ - ۷۵ (۲) ۳۰ - ۷۰ (۳) ۲۰ - ۸۰ (۴) ۱۵ - ۸۵



۸۴ با توجه به نقشه‌ی زیر، در سده‌ی نوزدهم و نیمه‌ی اول قرن بیستم ابتدا در کدام قسمت‌های جهان مهاجرت از روستاها به شهرها رخ داده است؟

- (۱) «ج» - «د»
- (۲) «الف» - «د»
- (۳) «د» - «ب»
- (۴) «ج» - «و»

۸۵ کدام گزینه در تعریف «جهان‌شهر» به درستی بیان شده است؟

- (۱) با افزایش شهرنشینی، به تدریج حومه‌هایی در اطراف شهرها، به ویژه شهرهای بزرگ و پرجمعیت شکل گرفته‌اند.
- (۲) به سبب نقش مهم آن‌ها در اقتصاد و تجارت جهانی، حوزه‌ی نفوذ بسیار وسیعی در سطح جهان دارند.
- (۳) در پیرامون برخی از مادرشهرها، شهرها و شهرک‌های اقماری پدید آمده‌اند.
- (۴) به تدریج از مادرشهر و حومه‌شهرهای در کنار مادرشهرها، شهرهایی که دارای نفوذ بین‌المللی است، پدید می‌آید.

۸۶ درصد جمعیت شهرنشین جهان، در فاصله‌ی کدام سال‌ها حدوداً دو برابر خواهد شد؟

- (۱) ۲۰۱۴ م تا ۲۰۵۰ م (۲) ۱۹۵۰ م تا ۲۰۰۵ م (۳) ۱۹۵۰ م تا ۲۰۵۰ م (۴) ۲۰۰۵ م تا ۲۰۱۴ م

۸۷ تفاوت اساسی تعریف «آستانه‌ی نفوذ» و «دامنه‌ی نفوذ» یک سکونت‌گاه در کدام ویژگی‌های آن‌ها است؟

- (۱) نوع خدمات - تقاضای کالا
- (۲) جمعیت - نقش ارتباطی
- (۳) جمعیت - مسافت
- (۴) مسافت - تقاضای کالا

۸۸ به کدام دلیل معیارهای رتبه‌بندی شهرهای بزرگ و کوچک و روستا، از جایی به جای دیگر متفاوت است؟

- (۱) میزان جمعیت و اهداف محققان
- (۲) اهداف و نوع مطالعات محققان
- (۳) تنوع خدمات و نوع مطالعات محققان
- (۴) وجود عوامل طبیعی، انسانی و میزان جمعیت

۸۹ با توجه به سلسله مراتب سکونت‌گاه‌ها در اروپا، موارد بیان شده در کدام گزینه از نظر تعداد و تنوع خدمات، در پایین‌ترین رتبه قرار دارند؟

- (۱) روستا - شهر منطقه‌ای - شهر متوسط
(۲) شهر کوچک - شهر متوسط - شهر منطقه‌ای
(۳) هاملت - شهر متوسط - شهر کوچک
(۴) هاملت - روستا - شهر کوچک

۹۰ در کدام گزینه به‌ترتیب مهم‌ترین و متداول‌ترین ملاک تفاوت و تشخیص شهر و روستا بیان شده است؟

(۱) میزان جمعیت - فعالیت اقتصادی
(۲) میزان جمعیت - دسترسی به خدمات و تسهیلات
(۳) فعالیت اقتصادی - میزان جمعیت
(۴) وسعت و فضای سکونت و فعالیت - میزان جمعیت

۹۱ کدام گزینه به‌ترتیب درست (ص) یا نادرست (غ) بودن عبارتهای زیر را در رابطه با «مقر» و «موقعیت» یک سکونت‌گاه (روستایی و شهری) به درستی بیان می‌کند؟

(الف) مقر یک شهر یا روستا در ادامه‌ی حیات یا گسترش آن سکونت‌گاه و یا حتی نابودی آن نقش مهمی دارد.
(ب) در انتخاب مکان برای استقرار و سکونت جمعیت، عوامل انسانی بیش‌ترین نقش را داشته‌اند.
(ج) هسته‌ی اولیه مکان اصلی و دقیق یک سکونت‌گاه و محل استقرار آن بر روی زمین است.
(د) هسته‌ی اولیه روستای هولوکو در مجارستان، قلعه‌ای است که در اواسط قرن ۱۳ میلادی ساخته شده است.

(۱) غ - غ - ص (۲) غ - ص - غ (۳) ص - غ - ص (۴) ص - ص - غ

۹۲ کدام مطلب، مهم‌ترین علل روند شهرنشینی سریع در ایران را از سال ۱۳۳۵ به بعد، بیان می‌کند؟

(۱) کمبود خدمات رفاهی، آموزش و بهداشت در روستاها و عدم توجه به صنایع مونتاژ کالاها
(۲) افزایش نابرابری میان شهرها و روستاها و اجرایی نشدن اصلاحات ارضی در روستاها
(۳) تخریب کشاورزی به دلایل موفق نبودن اصلاحات ارضی و حمایت دولت از مالکیت مالکان بزرگ
(۴) توسعه کارخانجات و زیر ساخت‌ها در شهرها و انهدام کشاورزی به دلیل ناموفق بودن اصلاحات ارضی

۹۳ کدام گزینه عبارت زیر را به‌درستی کامل می‌کند؟

«موقعیت یک شهر یا روستا».

- (۱) موجب گسترش و آبادانی آن می‌شود.
(۲) حیات آن سکونتگاه را به خطر می‌اندازد.
(۳) سبب جذب نیروی کار و توسعه صنایع در سکونتگاه می‌شود.
(۴) در طول زمان ثابت نمی‌ماند و تغییر می‌کند.

۹۴ در کدام مورد می‌توان عوامل مؤثر در پدید آمدن یک شهر پایدار را ملاحظه نمود؟

- (۱) گسترش فضای سبز و مبلمان شهری - توسعه گردشگری - توسعه ICT
(۲) ایجاد غرفه‌های ارزان - کاهش مهاجرت روستا به شهر - بهبود روشنایی معابر
(۳) حمایت از کارآفرینان - بازسازی محله‌های فرسوده - مدیریت پسماند
(۴) برگزاری کارگاه‌های آموزش آسیب‌های اجتماعی - ایجاد شغل - تخریب مناطق زاغه‌نشین

۹۵ همه موارد می‌توانند در افزایش جمعیت شهری و شهرنشینی مؤثر باشند. به‌جز:

- (۱) بالا رفتن میزان مهاجرت روستاییان به شهرها
(۲) افزایش رشد موالید شهرها نسبت به مرگ و میر
(۳) گسترش پدیده شهرگرایی و شیوه زندگی شهری
(۴) تبدیل شدن نقاط روستایی به نقاط شهری

۹۶

چند نمونه از مطالب زیر با پدیده «شهرگرایی» همخوانی دارد؟

- در اثر تحولات صنعتی و ورود به عصر نوسازی در روستاها افزایش یافت.
- ارزش‌ها و مظاهر شهری در بین روستائینان کاهش می‌یابد.
- همانند شهرنشینی با افزایش جمعیت شهرهای یک کشور، افزایش می‌یابد.
- شیوه زندگی شهری به همراه عملکردها در روستاها رواج می‌یابد.

۴ (۴)

۳ (۳)

۲ (۲)

۱ (۱)

۹۷

کدام گزینه، معادل مناسبتری به ترتیب برای دو پدیده «مادرشهر» و «مگالاپلیس» ارائه می‌کند؟

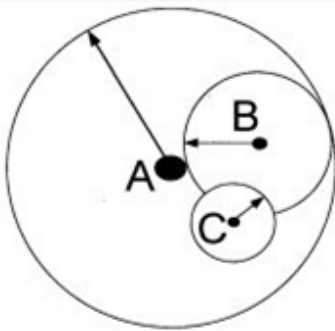
- (۱) متروپل و ابرشهری
 (۲) مگاسیتی و ابرشهری
 (۳) ابرشهری و متروپل
 (۴) متروپل و مگاسیتی

۹۸

کدام یک از حوزه‌های نفوذ در شکل مقابل به ترتیب «خدمات آموزشی به چند

روستای مجاور» و «خدمات دانشگاهی در سطح یک کشور» دارد؟

- (۱) حوزه نفوذ (A) و حوزه نفوذ (B)
 (۲) حوزه نفوذ (B) و حوزه نفوذ (C)
 (۳) حوزه نفوذ (A) و حوزه نفوذ (C)
 (۴) حوزه نفوذ (B) و حوزه نفوذ (A)



۹۹

با توجه به تصویر زیر، کدام عبارت با سلسله مراتب سکونتگاه‌های شهری

و روستایی مطابقت می‌کند؟

(۱) هر چه به رأس هرم نزدیک‌تر شویم، تعداد خدمات کمتر می‌شود.

(۲) هر چه به قاعده هرم نزدیک‌تر شویم، تنوع خدمات درمانی کمتر می‌شود.

(۳) هر چه به رأس هرم نزدیک‌تر شویم، میزان جمعیت کمتر می‌شود.

(۴) هر چه به قاعده هرم نزدیک‌تر شویم، میزان جمعیت بیشتر می‌شود.



۱۰۰

با توجه به تفاوت‌های شهر و روستا، کدام مورد ویژگی‌های کلی یک روستا را در مقایسه با شهرها به درستی مقایسه

می‌کند؟

- (۱) چشم‌انداز طبیعی گسترده‌تر - وابستگی اجتماعی کمتر - جمعیت متراکم‌تر - تسهیلات کمتر
 (۲) نوگرایی محدودتر - وابستگی اجتماعی بیشتر - تراکم جمعیت کمتر - چشم‌انداز طبیعی وسیع‌تر
 (۳) تغییرات اجتماعی سریع‌تر - تراکم جمعیت بیشتر - فضای صنعتی فشرده‌تر - دامداری بیشتر
 (۴) فعالیت صید و شکار بیشتر - تغییرات اجتماعی کندتر - خدمات محدودتر - فعالیت‌های صنعتی متنوع‌تر

۱۰۱) چند مورد از عبارتهای زیر در رابطه با سکونتگاهها و نقش آنها در ایران درست است؟
الف) شهر پیرانشهر دارای نقش نظامی در ایران می باشد.

ب) قدیمی ترین نوع سکونتگاه که در ایران شناخته شده، زندگی روستایی است.

ج) عوامل طبیعی سبب از بین رفتن شهر باستانی بیشاپور شده است.

د) امروزه اغلب سکونتگاهها چند نقش دارند و ممکن است در طول زمان تغییر کنند.

۱ (۱) ۲ (۲) ۳ (۳) ۴ (۴)

۱۰۲) به کدام دلیل برخی از شهرها از نظر چگونگی پیدایش و کارکردهای آن شکل ترکیبی دارند؟
۱) هم مرز بودن با کشورهای متعدد
۲) گستردگی در عرض جغرافیایی
۳) گسترش در دوره های مختلف
۴) گستردگی در طول جغرافیایی

۱۰۳) کدام یک از رویدادهای زیر پس از انقلاب اسلامی اتفاق افتاده است؟
۱) روند شهرنشینی در ایران سرعت گرفت و دوره ی شهرنشینی سریع آغاز شد.
۲) مهاجرت از روستاها به شهرها به کندی صورت گرفت
۳) رشد شهرهای بزرگ و کوچک در اطراف تهران آن را به یک کلان شهر بزرگ تبدیل کرد.
۴) اصلاحات ارضی موجب انهدام کشاورزی در کشور شد.

۱۰۴) کدام یک از گزینه های زیر به دوره ی شهرنشینی کند در ایران اشاره دارد؟
۱) افزایش طبیعی جمعیت
۲) مهاجرت از روستاها به شهر
۳) افزایش جمعیت روستاها
۴) رشد منفی جمعیت در شهرها

۱۰۵) کدام یک از موارد زیر از عوامل ضعف و انهدام کشاورزی در زمان اصلاحات ارضی در ایران نیست؟
الف) تقسیم نادرست زمین
ب) واردات کالا از کشورهای خارجی
پ) حمایت دولت از کشاورزان
ت) توجه به صنایع مونتاژ
۱) ب - الف
۲) ت
۳) پ
۴) ت - پ

۱۰۶) همه عوامل زیر باعث افزایش جمعیت شهری شده اند جز

۱) مهاجرت روستاییان به شهرها

۲) افزایش رشد طبیعی جمعیت شهرها

۳) افزایش جمعیت برخی روستاها و تبدیل آنها به نقاط شهری

۴) ادغام شهرها در روستاها

۱۰۷) سکونتگاهها را بر چه اساسی طبقه بندی می کنند و کدام سکونتگاهها خدمات محدودتری را به ساکنان خود ارائه می دهند؟

۱) میزان جمعیت و عملکرد - سکونتگاههای توسعه نیافته (۲) میزان جمعیت و عملکرد - سکونتگاههای کم جمعیت

۳) ناحیه جغرافیایی - سکونتگاههای توسعه نیافته (۴) ناحیه جغرافیایی - سکونتگاههای کم جمعیت

۱۰۸) کدام یک از عبارات زیر پیرامون مفهوم مادرشهر نادرست است؟
۱) مادرشهر بزرگترین و مهم ترین شهر یک ناحیه، استان یا کشور است.
۲) مادرشهر پایتخت یک ناحیه است که به عنوان مرکز حکومتی، مذهبی و تجاری در حال فعالیت است.
۳) معمولا به مادرشهر کلان شهر هم گفته می شود.
۴) به مادرشهرهایی که بالای یک میلیون نفر دارند متروپل گفته می شود.

- ۱۰۹ افزایش جمعیت مادرشهرها و گسترش حومه‌های آنها به تدریج چه منطقه‌ای را پیرامون این نواحی بوجود آورده است و چه نوع سکونتگاه‌هایی پیرامون برخی از مادرشهرها پدید آمده‌اند؟
- (۱) کلان‌شهری - شهرک‌های اقماری
(۲) کلان‌شهری - زاغه‌نشینی‌ها
(۳) مادرشهری - شهرک‌های اقماری
(۴) مادرشهری - زاغه‌نشینی‌ها

- ۱۱۰ کدام عامل باعث افزایش شهرگرایی در روستایان شد؟
- (۱) بروز تحولات صنعتی و ورود کشورها به عصر نوسازی
(۲) ایجاد تغییرات در چهره و کالبد روستاها
(۳) ورود خدمات شهری به روستاها
(۴) فراهم شدن امکانات و تجهیزاتی چون آب و برق

- ۱۱۱ بر اثر چه عواملی حومه‌ها شکل گرفتند؟
- (۱) مهاجرت روستایان به شهرها و افزایش مهاجرت معکوس
(۲) گسترش حمل و نقل و وسایل ارتباطی
(۳) با گسترش حمل و نقل و افزایش شهرنشینی
(۴) با افزایش شهرنشینی و پر شدن کلان‌شهرها

- ۱۱۲ مادرشهر از چه جنبه‌ای بر سایر سکونتگاه‌ها برتری دارد؟
- (۱) جمعیت زیاد
(۲) عملکرد حکومتی، مذهبی، تجاری
(۳) اوضاع بهتر اقتصادی
(۴) وسعت زیاد

- ۱۱۳ تا چند دهه پیش، تنها شهرهای کدام منطقه از جهان، جمعیت میلیونی داشتند؟
- (۱) آمریکای شمالی - اروپا - ژاپن
(۲) آمریکای شمالی - اروپا - آسیا
(۳) آسیا - آمریکای لاتین - آفریقا
(۴) نیم کره شمالی - آمریکای لاتین - اروپا

- ۱۱۴ اصطلاح شهرنشینی، ناظر به کدام یک از عبارات زیر است؟
- (۱) افزایش نسبت توسعه‌یافتگی شهرها به روستاها
(۲) افزایش نسبت جمعیت شهرها به روستاها
(۳) افزایش نسبت میزان خدمات شهرها به روستاها
(۴) افزایش نسبت تراکم ساختمان‌های شهرها به روستاها

- ۱۱۵ امروزه سرعت افزایش شهرنشینی در کدام یک از مناطق جهان بیشتر است و علت آن چیست؟
- (۱) آسیا و اروپا - مهاجرت فزاینده روستائیان به شهرها
(۲) آسیا و آفریقا - مهاجرت فزاینده روستائیان به شهرها
(۳) آسیا و اروپا - رشد تکنولوژی و امکانات
(۴) آسیا و آفریقا - رشد تکنولوژی و امکانات

- ۱۱۶ دامنه نفوذ
- (۱) حداقل جمعیتی که تقاضای کالا و خدمات یا عملکردی از سکونتگاه دارند.
(۲) حداکثر جمعیتی که تقاضای کالا و خدمات یا عملکردی از سکونتگاه دارند.
(۳) بیشترین مسافتی که مردم منطقه برای دریافت خدمات از آن سکونتگاه طی می‌کنند.
(۴) کم‌ترین مسافتی که مردم منطقه برای دریافت خدمات از آن سکونتگاه طی می‌کنند.

۱۱۷) در زمینه بررسی نفوذ عملکرد یک سکونتگاه به کدام جنبه توجه می‌شود؟
 (۱) میزان نفوذ و دامنه نفوذ (۲) میزان نفوذ و آستانه نفوذ (۳) آستانه نفوذ و دامنه نفوذ (۴) نمودار نفوذ و میزان نفوذ

۱۱۸) کدام یک از گزینه‌های زیر در ارتباط با تفاوت شهر و روستا نادرست است؟
 (۱) در روستاها به دلیل جمعیت کم‌تر بیشتر افراد یکدیگر را می‌شناسند.
 (۲) در روستاها به دلیل تغییرات اجتماعی سریع‌تر اتفاق می‌افتد.
 (۳) آداب و رسوم و شیوه زندگی در شهر و روستا متفاوت است.
 (۴) روابط خویشاوندی در جوامع روستایی بیشتر است.

۱۱۹) در کشور ایران مهم‌ترین عوامل شکل‌گیری هسته اولیه روستاها و شهرها چه بوده است؟
 (۱) دسترسی به آب - قلعه‌های دفاعی - بازارهای محلی - قرار گرفتن در تقاطع راهها
 (۲) دسترسی به آب - بازار محلی - تصمیمات حکومت‌ها - دسترسی به راه‌های دفاعی
 (۳) میزان بارندگی - بازارهای محلی - قلعه‌های دفاعی - قرار گرفتن در تقاطع راهها
 (۴) میزان بارندگی - قلعه‌های دفاعی - تصمیمات حکومت‌ها - دسترسی به راه‌های تجاری

۱۲۰) کدام یک از عوامل زیر در سکونت‌گزینی انسان‌ها در روستاها و شهرهای پرجمعیت و تمدن‌های اولیه در کنار رودهای دجله و فرات نقش مهمی داشته‌اند؟
 الف) آب فراوان ب) راه‌های ارتباطی پ) میزان ارتفاع ت) خاک حاصلخیز
 ث) آب و هوای ملایم
 (۱) ب - پ - ث (۲) الف - پ - ث (۳) الف - ت - ث (۴) ب - ت - ث

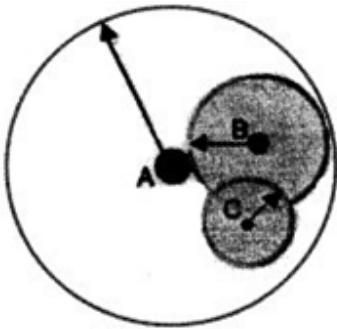
۱۲۱) مهم‌ترین ملاک تشخیص شهر و روستا است.
 (۱) فعالیت اقتصادی (۲) میزان جمعیت
 (۳) وسعت و مساحت (۴) دسترسی به خدمات و تسهیلات

۱۲۲) کدام یک از گزینه‌های زیر درباره‌ی مقر درست است؟
 (۱) مکان اصلی و دقیق یک سکونتگاه محل استقرار آن روی کره زمین است.
 (۲) مکانی است که مردم براساس نیاز آن را برای زندگی انتخاب کرده‌اند.
 (۳) وضعیت یک سکونتگاه نسبت به پدیده‌های پیرامون خود است.
 (۴) بخشی از هسته اولیه شهر یا روستا است که مردم در آن زندگی می‌کنند.

۱۲۳) کدام مورد با ویژگی‌های حومه‌ها و حومه‌نشینی مطابقت دارد؟
 (۱) حومه‌ها در اثر گسترش فوق‌العاده زیاد چند مادر شهر شکل می‌گیرند.
 (۲) با گسترش حمل و نقل، حومه‌های فقیرنشین به مرفه‌نشین تبدیل شدند.
 (۳) به دنبال افزایش حاشیه‌نشینی، انواع حومه‌ها گسترش یافتند.
 (۴) حومه‌ها از نظر خدمات و خرید کالا به شهرها وابسته هستند.

۱۲۴

- کدام مورد با سطح شهرنشینی در نواحی مختلف جهان مطابقت می‌کند؟
- بخش عمده رشد شهرنشینی در کشورهای جهان سوم ناشی از ورود این کشورها به تجارت جهانی است.
 - رشد شهرنشینی در بین نواحی توسعه یافته صنعتی آمریکای شمالی نسبت به اروپا اختلاف قابل توجهی وجود دارد.
 - میزان رشد سالیانه شهرنشینی در آفریقا $0/4$ درصد و نواحی صنعتی اروپا به $1/5$ درصد در سال می‌رسد.
 - به دنبال صنعتی شدن و توسعه کارخانه‌ها، سطوح شهرنشینی و افزایش آن در نواحی مختلف جهان یکنواخت است.



۱۲۵

در شکل مقابل، خدمات رسانی «تولید و عرضه خودرو» در سطح کشور و «خدمات درمانی به روستاهای پیرامون»، به ترتیب با کدام حوزه‌های نفوذ مطابقت می‌کند؟

- حوزه نفوذ (B) و حوزه نفوذ (C)
- حوزه نفوذ (A) و حوزه نفوذ (C)
- حوزه نفوذ (A) و حوزه نفوذ (B)
- حوزه نفوذ (B) و حوزه نفوذ (A)

۱۲۶

- با بررسی نمونه‌ای از سلسله مراتب سکونتگاه‌ها در اروپا، کدام مورد درست به نظر می‌رسد؟
- هر چه از پایتخت یک کشور به سمت یک شهر منطقه‌ای حرکت کنیم، تنوع خدمات کمتر می‌شود.
 - هر چه از یک روستا به سمت شهر کوچک یا متوسط حرکت کنیم، میزان جمعیت و خدمات کمتر می‌شود.
 - هر چه از یک شهر متوسط به سمت یک شهر منطقه‌ای حرکت کنیم، تعداد و تنوع خدمات بیشتر می‌شود.
 - هر چه از یک شهر کوچک و روستا به سمت یک هاملت حرکت کنیم، تنوع خدمات بیشتر می‌شود.

۱۲۷

- کدام مورد در ارتباط با ملاک‌های تفاوت شهر و روستا درست است؟
- امکانات آموزشی، خدمات بانکی و وابستگی اجتماعی در شهرها اغلب بیشتر از روستاها وجود دارد.
 - در شهرها برخلاف روستاها فعالیت‌های متنوع صنعتی در فضاهای گسترده‌ای انجام می‌شود.
 - ملاک جمعیتی تشخیص شهر و روستا در نواحی مختلف دنیا یکسان است و میزان معینی دارد.
 - دامداری و جنگل‌داری جمعیت فعال مناطق روستایی اغلب بیشتر از مناطق شهری مشاهده می‌شود.

۱۲۸

براساس گزارش سازمان ملل چنین برآورد شده است که: «۶۳ درصد فقر در جهان مربوط به نواحی روستایی است.»

کدام عبارت دلیل مناسبی برای تایید متن فوق است؟

- میان درآمد شهرنشینان و روستانشینان شکاف و نابرابری زیادی وجود دارد.
- وضعیت دسترسی فقیران روستایی به آموزش، بهداشت و درمان بدتر از فقرای شهری است.
- زندگی روستاییان عمدتاً به درآمد فصلی و ناکافی حاصل از کشاورزی وابسته است.
- همه شهرنشینان سطح زندگی بالایی دارند و همه روستاییان در فقر به سر می‌برند.

- ۱۲۹) کدام عبارت با مفهوم «متروپل» در کشور ایران مطابقت بیشتری دارد؟
- الف) معادل واژه مگاسیتی و به شهرهایی با بیش از ۱۰ میلیون نفر جمعیت اطلاع می‌شود.
 ب) بزرگ‌ترین و مهم‌ترین شهر یک ناحیه، استان یا یک کشور است.
 ج) شهر منطقه‌ای با عملکرد مشخص که در بدنه رتبه‌بندی سکونتگاه‌ها قرار می‌گیرد.
 د) به کلان شهرهایی گفته می‌شود که ممکن است پایتخت یا شهر اصلی یک ناحیه باشد.
- ۱) ب و ج ۲) ب و د ۳) الف و د ۴) الف و ج

- ۱۳۰) همه موارد از مهم‌ترین عوامل شکل‌گیری «هسته اولیه» روستاها و شهرها در کشور ایران است به جز:
- ۱) دسترسی به آب و بازارهای محلی ۲) قرار گرفتن در محل تلاقی و تقاطع راه‌ها
 ۳) دسترسی به آب و هوای ملایم و خاک حاصلخیز ۴) وجود قلعه‌های دفاعی و نظامی

- ۱۳۱) کدام عبارت انطباق میان مدل روابط شهر و روستا را با «نظریه مرکز - پیرامون» به درستی بیان می‌کند؟
- ۱) روستا ویژگی‌های پیرامون و شهر ویژگی‌های مرکز و نیمه پیرامون را دارد.
 ۲) شهر نقش مرکز را پیدا کرده است و روستا غالب شده است.
 ۳) روستاها ویژگی‌های پیرامون و نیمه پیرامون و شهر ویژگی‌های مرکز را دارد.
 ۴) روستا نقش پیرامون را یافته است و به شهر وابسته است.

- ۱۳۲) کدام عبارت براساس «رتبه‌بندی سکونتگاه» به درستی بیان شده است؟
- الف) وجود انواع فروشگاه‌ها، مراکز درمانی و آموزشی در یک سکونتگاه
 ب) نوگرایی بیشتر و تغییرات اجتماعی سریع‌تر و وجود فضاهای صنعتی فشرده‌تر
 ج) سکونتگاهی با دو هزار پانصد نفر جمعیت که از نظر ژئوتوریسم اهمیت دارد.
 د) سکونتگاهی با جمعیت بیش از دو میلیون نفر که پدیده شهرگزیزی در آن مشهود است.
- ۱) ب و د ۲) الف و ج ۳) ج و د ۴) الف و ب

- ۱۳۳) تمام عبارات در ارتباط با مفهوم «مقر» نادرست است به جز:
- الف) وضعیت سکونتگاه را نسبت به جایگاه و پدیده‌های پیرامون خود بیان می‌کند.
 ب) شهر و روستا در آنجا شکل گرفته و از آن محل گسترش یافته است.
 ج) عواملی چون آب فراوان، آب و هوای ملایم و خاک حاصلخیز، در انتخاب آن نقش مهمی دارد.
 د) ساکنین برحسب نیاز، آن را برای زندگی انتخاب می‌کنند و به اشغال در می‌آورند.
 ه) در انتخاب آن برای سکونت، عوامل انسانی مانند تصمیمات حکومتی و دسترسی به راه‌های تجاری بیشترین نقش را دارد.
- ۱) الف و ب ۲) الف و ه ۳) ج و ه ۴) ب و د

- ۱۳۴) معیارهای رتبه‌بندی سکونتگاه‌ها با توجه به کدام عامل از جایی به جای دیگر متفاوت است؟
- ۱) بزرگی شهر و میزان جمعیت ۲) نوعی عملکرد و جمعیت
 ۳) اهداف و نوع مطالعات محققان ۴) حوزه‌ی نفوذ و آستانه‌ی نفوذ سکونتگاه

- ۱۳۵) کدام گزینه سرآغاز مطالعه و شناخت یک سکونتگاه روستایی و شهری است؟
- ۱) طبیعت - اقتصاد ۲) مکان - موقعیت ۳) جایگاه - اقتصاد ۴) جایگاه - طبیعت

۱۳۶ کدام گزینه در تعریف «منطقه‌ی مادرشهری» درست است؟

- ۱) شهرهایی که به سبب نقش اقتصاد و تجارت جهانی مهم هستند.
- ۲) با افزایش جمعیت مادرشهرها و گسترش حومه‌های آنها به وجود آمده‌اند.
- ۳) به مادرشهر و کلان‌شهری که دارای سکونتگاه‌های برتر می‌باشند، گفته می‌شود.
- ۴) حومه‌ها و شهرک‌های اقماری یک مادرشهر به حومه‌ها و شهرهای مادرشهر دیگر پیوند می‌خورند.

۱۳۷ کدام عامل بازتاب فرهنگ و هویت شهروندان در یک شهر است؟

- ۱) معماری و طراحی شهر
- ۲) استفاده از خدمات عمومی و بالا بودن مطالعه
- ۳) مصرف کم انرژی و کاهش آلودگی
- ۴) تلاش برای حفظ محیط زیست

۱۳۸ کدام گزینه، تعریف درست «دامنه‌ی نفوذ یک سکونتگاه» را نشان می‌دهد؟

- ۱) حداقل جمعیتی که تقاضای کالا، خدمات یا عملکردی از سکونتگاه دارند.
- ۲) محدوده‌ی جغرافیایی که در یک سکونتگاه کالا و انواع خدمات دریافت می‌شوند.
- ۳) بیش‌ترین مسافتی که مردم منطقه برای دریافت خدمات از آن سکونتگاه طی می‌کنند.
- ۴) بیش‌ترین جمعیتی که از یک سکونتگاه کالا و انواع خدمات را خریداری و به سکونتگاه خود می‌برند.

۱۳۹ حدود کدام سال در ایران درصد جمعیت شهرنشین و روستانشین به طور مساوی (۵۰٪) بود؟

- ۱) ۱۳۵۵
- ۲) ۱۳۶۵
- ۳) ۱۳۶۰
- ۴) ۱۳۵۰

۱۴۰ حدود چه سالی جمعیت شهری و روستایی در ایران یکسان بودند؟

- ۱) ۱۳۶۰
- ۲) ۱۳۶۵
- ۳) ۱۳۵۵
- ۴) ۱۳۵۰

۱۴۱ کدام گزینه سبب انهدام کشاورزی ایران در زمان اصلاحات ارضی شد؟

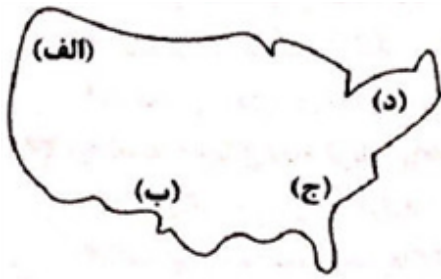
- ۱) حمایت کردن دولت از اربابان و زمین‌داران - توجه به صنایع مونتاژ
- ۲) سلب مالکیت زمین از ارباب‌ها - حمایت نکردن دولت از کشاورزان
- ۳) واردات کالا از کشورهای خارجی - تقسیم نادرست زمین
- ۴) مهاجرت از روستا به شهر - دادن زمین به دهقان‌ها و خرده‌پاها در نبود امکانات

۱۴۲ چه زمانی با توسعه صنایع کارخانه‌ای، مهاجرت از روستاها به شهرها رخ داد؟

- ۱) قرن نوزدهم و نیمه‌ی اول قرن بیستم
- ۲) اوایل قرن نوزدهم و نیمه‌ی دوم قرن بیستم
- ۳) قرن هجدهم و نیمه‌ی اول قرن نوزدهم
- ۴) اواخر قرن هجدهم و نیمه‌ی دوم قرن نوزدهم

۱۴۳ «شهرگرایی» در روستا چه نوع روندی را تشکیل می‌دهد؟

- ۱) اقتصادی - سیاسی
 - ۲) فرهنگی - اجتماعی
 - ۳) اجتماعی - اقتصادی
 - ۴) فرهنگی - سیاسی
- در کدام دوره‌ی زمانی در کشورهای توسعه‌یافته و صنعتی اروپا و آمریکای شمالی، به دنبال توسعه‌ی صنایع



۱۴۴ با توجه به نقشه، کدام قسمت ایالات متحده‌ی آمریکا دارای «مگالاپلیس»

است؟

(۱) الف

(۲) ب

(۳) ج

(۴) د

۱۴۵ کدام یک از گزینه‌های زیر تعریف «منطقه‌ی مادرشهری» است؟

(۱) بزرگ‌ترین و مهم‌ترین شهر یک ناحیه یا استان یا کشور است.

(۲) با افزایش جمعیت مادرشهرها و گسترش حومه‌های آنها به تدریج به وجود می‌آیند.

(۳) با گسترش حمل و نقل و وسایل ارتباطی به تدریج حومه‌ها در اطراف شهرها، شکل گرفتند.

(۴) شهرهایی که به سبب نقش مهم آنها در تجارت، حوزه‌ی نفوذ وسیعی در سطح جهان دارند.

۱۴۶ کدام دو شهر زیر در سال ۱۹۵۰ میلادی بیش‌تر از ۸ میلیون نفر جمعیت داشتند؟

(۱) توکیو - پکن (۲) لندن - توکیو (۳) نیویورک - پکن (۴) لندن - نیویورک

۱۴۷ در کدام گزینه تعریف درستی از حوزه‌ی نفوذ یک سکونتگاه ارائه شده است؟

(۱) حداقل جمعیتی که تقاضای کالا، خدمات یا عملکردی از سکونتگاه دارند.

(۲) محدوده‌ی جغرافیایی که از یک سکونتگاه کالا و انواع خدمات دریافت می‌کند.

(۳) بیش‌ترین مسافتی که مردم منطقه برای دریافت خدمات از یک سکونتگاه طی می‌کنند.

(۴) شهرهای کوچکی که به چند روستای پیرامون خود خدمات بدهند و از آنها نیز محصولات کشاورزی دریافت کنند.

۱۴۸ در کدام قاره‌ی جهان، شهرهایی با جمعیت ۵۰۰ هزار تا ۱ میلیون نفر وجود ندارد؟

(۱) استرالیا (۲) آفریقا (۳) آمریکای شمالی (۴) اروپا

۱۴۹ صحیح یا غلط بودن هریک از عبارتهای زیر، به ترتیب در کدام گزینه به درستی مشخص شده است؟

الف) در کشور ایران کلان‌شهرها به مادرشهرهای بیش از ۱ میلیون نفر اطلاق می‌شود.

ب) در برخی از کشورهای دیگر دنیا به شهرهای با جمعیت بیش از ۱۰ میلیون نفر، کلان‌شهر گفته می‌شود.

ج) به مادرشهر و حومه‌شهر با مادرشهر و حومه‌ی شهر دیگر در کنار هم، متروپل گفته می‌شود.

د) به مادرشهر، گاهی کلان‌شهر، متروپل و مگاسیتی نیز گفته می‌شود.

(۱) ص - ص - غ - ص (۲) غ - ص - ص - ص (۳) ص - غ - غ - ص (۴) غ - غ - ص - ص

۱۵۰ اهمیت کدام یک از نقش‌های برخی شهرها، آنها را به «جهان‌شهر» تبدیل کرده است؟

(۱) سیاسی - دینی (۲) فرهنگی - تجارتي (۳) تجارتي - اقتصادی (۴) سیاسی - اقتصادی

- ۱۵۱) در قرن نوزدهم میلادی پدیده‌ی «زارعان نیمه‌وقت» به چه معنی بود و در کدام کشور به وقوع پیوست؟
- (۱) در کشور ایتالیا، روستاییان برای دریافت مزد بیشتر در دو نوبت هم در زمین خود و هم در زمین دیگران کار می‌کنند.
- (۲) در برخی کشورها مانند آلمان، روستاییان برای دریافت مزد بیشتر به طور نیمه‌وقت در شهرها کار می‌کردند و بخشی از وقت خود را به کار در مزارع اختصاص می‌دادند.
- (۳) در کشور ایتالیا، روستاییان برای دریافت مزد بیشتر زمین‌های خود را با چند زمین دیگر تبدیل به کشت تجاری می‌کردند.
- (۴) در برخی کشورها مانند آلمان، روستاییان برای دریافت مزد بیشتر زمین‌های خود را تبدیل به کشت تجاری می‌کردند و بعد از کار در شهر در آنجا مشغول می‌شدند.

- ۱۵۲) منظور از «شهرگرایی» در کشورهای جهان، چه نوع روندی است؟
- (۱) سیاسی - فرهنگی (۲) اجتماعی - فرهنگی (۳) سیاسی - اقتصادی (۴) اقتصادی - اجتماعی

- ۱۵۳) مهم‌ترین علل شهرنشینی سریع در ایران پس از سال ۱۳۳۵ کدام است؟
- (۱) احداث کارخانه‌های مونتاژ در شهرها - افزایش واردات کالا
- (۲) سرمایه‌گذاری بیشتر در شهرها با استفاده از درآمد نفتی - شکست اصلاحات ارضی در کشور
- (۳) تبدیل سریع روستاها به شهر - سرمایه‌گذاری بیشتر در شهرها با استفاده از درآمد نفتی
- (۴) شکست اصلاحات ارضی در کشور - بالابردن خدمات آموزشی درمانی در شهرها

- ۱۵۴) کدام گزینه بیانگر دو مورد از ویژگی‌های مگالاپلیس است؟
- (۱) آب و هوای ملایم - قلعه‌های دفاعی
- (۲) موقعیت دفاعی مناسب - فراوانی آمد و شد بین مادرشهرهای هم‌جوار
- (۳) تمرکز و انبوهی جمعیت شهری - تمرکز مؤسسات مالی و پولی
- (۴) تمرکز صنایع دانش‌بنیان - دسترسی به آب

- ۱۵۵) بیش‌تر مگالاپلیس‌ها معمولاً در کدام مناطق به وجود می‌آیند؟
- (۱) در امتداد راه‌های ارتباطی
- (۲) کنار رودها و رودخانه‌ها
- (۳) زیرکوهپایه‌ها
- (۴) نواحی پرباران و معتدل

- ۱۵۶) کدام شکل در رابطه با سلسله مراتب سکونتگاه‌ها درست است؟
- (۱) افزایش جمعیت، افزایش تعداد و تنوع خدمات، روستا، پایتخت
- (۲) افزایش جمعیت، کاهش تعداد و تنوع خدمات، پایتخت، روستا
- (۳) افزایش جمعیت، افزایش تعداد و تنوع خدمات، روستا، پایتخت
- (۴) کاهش جمعیت، کاهش تعداد و تنوع خدمات، پایتخت، روستا

- ۱۵۷) چند مورد از عبارتهای زیر در رابطه با «مقر» درست است؟
- الف) سرآغاز مطالعه‌ی شناخت یک سکونتگاه روستایی و شهری، مقر و موقعیت آن است.
 ب) محل دقیق و اصلی یک سکونتگاه و محل استقرار آن بر روی زمین است.
 ج) در چهارهزار سال قبل، مقر اکثر روستاهای ایران کوهپایه‌ها و دشت‌ها بوده است.
 د) مقر هر روستا یا شهر، هسته‌ی اولیه آن را شامل می‌شود که روستا و شهر از آن محل گسترش یافته است.
 ه) مهم‌ترین عامل در شکل‌گیری هسته‌ی اولیه روستاها و شهرهای ایران، عامل سیاسی و تصمیمات حکومتی بوده است.

۱ (۱) ۲ (۲) ۳ (۳) ۴ (۴)

- ۱۵۸) کدام گزینه در رابطه با علل رشد شهرنشینی در آسیا و آفریقا در سال‌های اخیر درست است؟

- ۱) گسترش و رواج کشت تخصصی پلانتیشن در روستاها
 ۲) سرمایه‌گذاری و خرید زمین‌های کشاورزی توسط شهرنشینان
 ۳) رشد بخش خدمات و ورود این کشورها به تجارت جهانی
 ۴) گسترش شهرها و اتصال آن‌ها به روستاهای اطراف

- ۱۵۹) متداول‌ترین ملاک تشخیص شهر و روستا کدام است؟

- ۱) اقتصادی ۲) جمعیت
 ۳) دسترسی به خدمات و تسهیلات ۴) فرهنگ و مناسبات اجتماعی

- ۱۶۰) کدام یک از علل موفق نبودن اصلاحات ارضی در ایران نمی‌باشد؟

- ۱) کمبود منابع آب
 ۲) تقسیم نادرست زمین
 ۳) حمایت نکردن دولت از کشاورزان
 ۴) توجه به صنایع مونتاژ و واردات کالا از کشورهای خارجی

- ۱۶۱) مهم‌ترین علل شهرنشینی سریع در ایران چه بوده است؟

- ۱) جنگ
 ۲) تصمیمات حکومت‌ها
 ۳) نبودن خدمات در روستاها
 ۴) اختصاص دادن درآمدهای نفتی به شهرها و موفق نبودن اصلاحات ارضی

- ۱۶۲) چند درصد از جمعیت ایران در شهرها زندگی می‌کنند؟

۱) ۶۵ درصد ۲) ۷۵ درصد ۳) ۸۵ درصد ۴) ۵۵ درصد

- ۱۶۳) کدام یک از کارکردهای شهر نمی‌باشد؟

۱) مواد اولیه ۲) انباشت سرمایه ۳) کالاهای تولیدشده ۴) تمرکز اقتصادی

- ۱۶۴) با فراهم شدن امکاناتی مثل آب و برق، استفاده از ماشین‌آلات کشاورزی و عناصر و خدمات شهری چه تغییری در روستاها پدید آمد؟

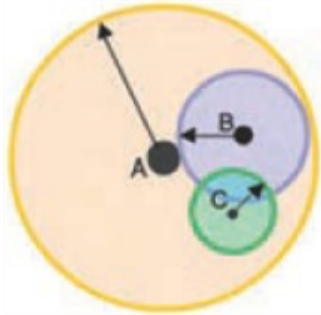
- ۱) تغییر در کاربری زمین ۲) تغییر در آداب و رسوم
 ۳) تغییر در خدمات روستایی ۴) تغییر در چهره و کالبد روستاها

- ۱۶۵ منظور از روندی اقتصادی اجتماعی است که طی آن شیوه‌های زندگی، رفتار، عملکرد، ارزش‌ها و مظاهر شهری در روستاها و بین روستانشینان رواج می‌یابد.
- (۱) شهرگرایی (۲) شهرگرایی (۳) جهان‌شهر (۴) کلانشهر
- ۱۶۶ در کدام سده و به چه علت در اروپا مهاجرت از روستاها به شهرها رخ داد؟
- (۱) در سده نوزدهم به دنبال توسعه‌ی صنایع کارخانه‌ای (۲) در سده بیستم به دلیل جنگ‌های متعدد (۳) در سده هجدهم به دلیل انقلاب فرانسه (۴) در سده بیستم به دلیل جنگ‌های جهانی اول و دوم
- ۱۶۷ کدام مورد از عوامل دافعه در مهاجرت نمی‌باشد؟
- (۱) خشکسالی (۲) فرسایش خاک (۳) کمبود خدمات رفاهی (۴) جنگ
- ۱۶۸ چند نفر از جمعیت جهان در روستاها زندگی می‌کنند؟
- (۱) ۳/۴ میلیارد نفر (۲) ۴/۳ میلیارد نفر (۳) ۵/۴ میلیارد نفر (۴) ۴/۵ میلیارد نفر
- ۱۶۹ مگالاپلیس‌ها معمولاً چه شکلی پیدا کرده‌اند؟
- (۱) خطی و شعاعی (۲) دایره‌ای و متمرکز (۳) خطی و کریدری (۴) خطی و پراکنده
- ۱۷۰ برخی از شهرها به سبب نقش مهم آن‌ها در اقتصاد و تجارت جهانی حوزه نفوذ بسیار وسیعی در سطح جهان دارند و به آن‌ها گفته می‌شود.
- (۱) جهان‌شهر (۲) مادرشهر (۳) مگاسیتی (۴) مگالاپلیس
- ۱۷۱ در میان کلان‌شهرهای جهان کدام یک رتبه اول را دارد؟
- (۱) نیویورک (۲) شانگهای (۳) توکیو (۴) دهلی
- ۱۷۲ به شهرهایی که بیش از ۱۰ میلیون نفر جمعیت داشته باشد می‌گویند.
- (۱) مادرشهر (۲) مگالاپلیس (۳) مگاسیتی (۴) کلان‌شهر
- ۱۷۳ کدام یک از کلان‌شهرهای ایران نمی‌باشد؟
- (۱) تهران (۲) مشهد (۳) اصفهان (۴) کرمانشاه
- ۱۷۴ شهرهای بیش از ۸ میلیون نفر جمعیت در جهان در سال ۱۹۵۰ میلادی کدام است؟
- (۱) لندن و نیویورک (۲) پاریس و توکیو (۳) پکن و پاریس (۴) لندن و پاریس
- ۱۷۵ کم‌ترین جمعیت شهرنشین جهان در کدام ناحیه از جهان می‌باشد؟
- (۱) آسیا (۲) اروپا (۳) آمریکای لاتین (۴) آفریقا
- ۱۷۶ درصد شهرنیشینی در کدام ناحیه از جهان بیش‌تر است؟
- (۱) آمریکای شمالی (۲) اروپا (۳) آسیا (۴) آفریقا
- ۱۷۷ تا سال ۲۰۵۰ میلادی جمعیت شهرنشین جهان چه قدر می‌شود؟
- (۱) ۴۶ درصد (۲) ۵۶ درصد (۳) ۶۶ درصد (۴) ۷۶ درصد

- ۱۷۸ در سال ۱۹۵۰ میلادی جمعیت شهرنشین جهان چند درصد بوده است؟
 (۱) ۳۰ درصد (۲) ۳۵ درصد (۳) ۴۰ درصد (۴) ۴۵ درصد

- ۱۷۹ یعنی بیشترین مسافتی که مردم منطقه برای دریافت خدمات از آن سکونتگاه طی می‌کنند.
 (۱) دامنه نفوذ (۲) آستانه نفوذ (۳) حوزه نفوذ (۴) محدوده نفوذ

- ۱۸۰ حوزه نفوذ کدام شهر ایران در سطح کشور است؟
 (۱) کرج (۲) تبریز (۳) تهران (۴) اصفهان



- ۱۸۱ حوزه نفوذ کدام شهر بیش‌تر است؟

(۱) شهر A

(۲) شهر B

(۳) شهر C

(۴) شهر B و C

- ۱۸۲ کدام مورد رتبه‌بندی یا سلسله مراتب سکونتگاه‌ها را در اروپا به درستی نشان می‌دهد؟

(۱) هاملت، روستا، شهر کوچک، شهر متوسط، شهر منطقه‌ای، پایتخت

(۲) روستا، هاملت، شهر کوچک، شهر متوسط، شهر منطقه‌ای، پایتخت

(۳) هاملت، روستا، شهر متوسط، شهر کوچک، پایتخت، شهر منطقه‌ای

(۴) پایتخت، شهر منطقه‌ای، هاملت، شهر متوسط، شهر کوچک، روستا

- ۱۸۳ سکونتگاه‌ها را براساس چه ملاک‌هایی رتبه‌بندی می‌کنند؟

(۱) میزان جمعیت و کاربری

(۲) میزان جمعیت و عملکرد

(۳) عملکرد و آداب و رسوم

(۴) میزان سواد و کارکرد

- ۱۸۴ در روستاها و بیش‌تر و گسترده‌ترند.

(۱) فضاهای بسته و چشم‌اندازهای انسانی

(۲) فضاهای باز و چشم‌اندازهای فرهنگی

(۳) فضاهای خدماتی و چشم‌اندازهای طبیعی

(۴) فضاهای باز و چشم‌اندازهای طبیعی

- ۱۸۵ در شهرها بیش‌تر و تغییرات سریع‌تر است.

(۱) نوگرایی و اجتماعی (۲) مدگرایی و فرهنگی

(۳) غرب‌گرایی و اقتصادی (۴) تنوع‌طلبی و خدماتی

- ۱۸۶ متداول‌ترین ملاک تشخیص شهر از روستا است.

(۱) وسعت و فضای سکونت و فعالیت

(۲) فرهنگ و مناسبات اجتماعی

(۳) ملاک جمعیتی

(۴) کاربری زمین

- ۱۸۷ در برخی کشورهای اروپایی کدام ملاک تشخیص شهر از روستا می‌باشد؟

(۱) بیش از ۲۰۰۰ نفر (۲) بیش از ۳۰۰۰ نفر (۳) بیش از ۴۰۰۰ نفر (۴) بیش از ۵۰۰۰ نفر

۱۸۸ مهم‌ترین ملاک تفاوت شهر از روستا کدام است؟

- (۱) وسعت و فضای سکونت و فعالیت
(۲) فرهنگ و مناسبات اجتماعی
(۳) کاربری زمین
(۴) فعالیت اقتصادی

۱۸۹ کدام عامل از اعتبار یک سکونتگاه می‌کاهد؟

- (۱) آب و هوای ملایم و ناهمواری‌ها
(۲) گسل‌های فعال و تغییرات آب و هوایی
(۳) رویدادهای سیاسی و راه‌های ارتباطی
(۴) جنگ و دسترسی به دریا

۱۹۰ کدام عوامل در ادامه حیات و گسترش یک سکونتگاه نقش دارد؟

- (۱) دسترسی به دریا، خط آهن، منابع معدنی
(۲) حریم رودخانه، عرض جغرافیایی، آب و هوا
(۳) عوامل انسانی، راه‌های ارتباطی، ناهمواری‌ها
(۴) عوامل سیاسی، عامل دفاعی، دسترسی به انرژی

۱۹۱ کدام مورد تعریف موقعیت یک شهر یا روستا می‌باشد؟

- (۱) منظور از موقعیت یک شهر یا روستا، وضعیت آن سکونتگاه نسبت به پدیده‌های پیرامون خود و همچنین جایگاه آن در سطح منطقه است.
(۲) منظور از موقعیت یک شهر یا روستا، وضعیت آن سکونتگاه در سطح استان است.
(۳) منظور از موقعیت یک شهر یا روستا، وضعیت آن سکونتگاه نسبت به پدیده‌های پیرامون خود و همچنین جایگاه آن در سطح ناحیه است.
(۴) منظور از موقعیت یک شهر یا روستا، وضعیت آن سکونتگاه نسبت به منطقه است.

۱۹۲ کدام گزینه در پیدایش هسته اولیه روستاها و شهرهای ایران نقش داشته است؟

- (۱) دسترسی به آب، قلعه‌های دفاعی، بازارهای محلی و قرار گرفتن در تقاطع راه‌ها
(۲) عوامل انسانی، دسترسی به آب، بازارهای محلی و تقاطع راه‌ها
(۳) آب و هوای ملایم، خاک حاصلخیز، آب فراوان، عامل دفاعی
(۴) آب فراوان، بازارهای محلی، تقاطع راه‌ها، خاک حاصلخیز

۱۹۳ در پیدایش تمدن‌های اولیه کدام عامل نقش نداشته است؟

- (۱) آب فراوان
(۲) عرض جغرافیایی
(۳) آب و هوای ملایم
(۴) خاک حاصلخیز

۱۹۴ در انتخاب مکان برای استقرار و سکونت جمعیت کدام عامل بیش‌ترین نقش را دارد؟

- (۱) عوامل طبیعی
(۲) عوامل انسانی
(۳) عوامل تاریخی
(۴) عوامل دفاعی

۱۹۵ سرآغاز مطالعه و شناخت یک سکونتگاه روستایی و شهری کدام است؟

- (۱) مقرر
(۲) موقعیت
(۳) هسته اولیه
(۴) مقرر و موقعیت

- ۱ گزینه ۱ پاسخ صحیح است. مادرشهرها (متروپلها) در رأس هرم سلسله مراتب سکونت‌گاهی قرار دارند.
- ۲ گزینه ۳ پاسخ صحیح است. در کشور ایران دسترسی به آب، قلعه‌های دفاعی، بازارهای محلی و قرار گرفتن در تقاطع راه‌ها از مهم‌ترین عوامل شکل‌گیری هسته‌ی اولیه روستاها و شهرها بوده است. در این شهر بازار و مکان تجارت محصولات کشاورزی و ابریشم، هسته‌ی اولیه‌ی شهر را تشکیل داده و عامل آب به دلیل فراوانی آن در این شهر در رتبه‌ی بعدی اهمیت قرار دارد.
- ۳ گزینه ۱ پاسخ صحیح است. چگونگی قرارگیری پدیده‌های طبیعی و انسانی در سکونت‌گاه‌ها، شکل‌های مختلفی از سکونت‌گاه‌ها را به وجود آورده است.
- ۴ گزینه ۳ پاسخ صحیح است. (ص ۱۱)
- ۵ گزینه ۲ پاسخ صحیح است. (ص ۱۷)
- ۶ گزینه ۱ پاسخ صحیح است.
درس ۱ صفحه ۱۷
- در سده ۱۹ و نیمه اول قرن بیستم در کشورهای توسعه یافته و صنعتی اروپا و آمریکای شمالی، به دنبال توسعه صنایع کارخانه‌ای مهاجرت از روستاها به شهرها رخ داد. البته این مهاجرت تدریجی و طولانی مدت بوده و طی ده‌ها سال و همگام با تحولات صنعتی شدن صورت گرفته است.
- ۷ گزینه ۴ پاسخ صحیح است.
درس ۱ صفحه ۱۷
- با بروز تحولات صنعتی و ورود کشورها به عصر نوسازی (مدرنیزاسیون)، نفوذ شهرها و «شهرگرایی» در روستاها افزایش یافت. منظور از شهرگرایی، روندی اقتصادی - اجتماعی است که طی آن شیوه‌های زندگی، رفتار و عملکردها، ارزش‌ها و مظاهر شهری در روستاها و بین روستائینان رواج می‌یابد.
- ۸ گزینه ۲ پاسخ صحیح است. در سال ۱۹۵۰ میلادی فقط ۳۰ درصد جمعیت جهان در شهرها زندگی می‌کردند؛ اما در سال ۲۰۱۴ میلادی ۵۴ درصد جمعیت جهان ساکن شهرها بوده‌اند.
- ۹ گزینه ۴ پاسخ صحیح است. متداول‌ترین ملاک تشخیص شهر و روستا ملاک جمعیتی است و اگر جمعیت سکونت‌گاه به میزان معینی برسد، آن را شهر تلقی می‌کنند، اما این ملاک در نواحی مختلف دنیا متفاوت است. در برخی کشورهای اروپایی سکونت‌گاه‌هایی با بیش‌تر از ۲۰۰۰ نفر جمعیت، شهر محسوب می‌شوند اما در برخی کشورهای پرجمعیت آسیا، مانند چین و هند، روستایی با بیش از ۳۰۰۰۰ نفر جمعیت وجود دارند. به طور کلی شهرها از روستاها پرجمعیت‌ترند و تراکم جمعیت نیز در آنها بیش‌تر است.

- ۱۰ گزینه ۱ پاسخ صحیح است. آمایش سرزمین عبارت است از سامان دادن و نظم بخشیدن به فضاهای جغرافیایی و توزیع متوازن، متعادل و منطقی جمعیت، فعالیت‌ها و تجهیزات و امکانات در سطح زمین.
- یکی از ویژگی‌های برنامه‌ی آمایش سرزمین، توجه به توزیع متوازن جمعیت است؛ به گونه‌ای که از تمرکز و انبوهی جمعیت در یک یا چند مادرشهر و مهاجرت بی‌رویه از روستاها و شهرهای کوچک به شهرهای بزرگ پیشگیری شود.
- ۱۱ گزینه ۴ پاسخ صحیح است. ایجاد فرصت‌های شغلی و تمایل به سرمایه‌گذاری در نواحی شهری بیش از مناطق روستایی است؛ از همین رو، بین درآمد شهرنشینان و روستانشینان شکاف و نابرابری زیادی وجود دارد.
- ۱۲ گزینه ۱ پاسخ صحیح است. مادرشهر (متروپل) بزرگ‌ترین و مهم‌ترین شهر یک ناحیه، استان یا یک کشور است. این شهر ممکن است پایتخت یا شهر اصلی یک ناحیه باشد.
- به محدوده‌ی جغرافیایی که از یک سکونت‌گاه کالا و انواع خدمات دریافت می‌کند و بین آن محدوده و سکونت‌گاه، جریان کالا، خدمات و رفت و آمد افراد وجود دارد، حوزه‌ی نفوذ آن سکونت‌گاه می‌گویند. همان‌طور که مشخص است، متروپل حوزه‌ی نفوذ بسیار گسترده‌ای دارد و در بالای هرم رتبه‌بندی سکونت‌گاه‌ها قرار می‌گیرد.
- هم‌چنین، دامنه‌ی نفوذ عبارت است از بیش‌ترین مسافتی که مردم منطقه برای دریافت کالا یا خدمات از آن سکونت‌گاه طی می‌کنند.
- ۱۳ گزینه ۴ پاسخ صحیح است. در مگالاپلیس، حومه‌ها و شهرک‌های اقماری یک مادرشهر به حومه‌ها و شهرک‌های مادرشهر دیگر پیوند می‌خورد.
- ۱۴ گزینه ۴ پاسخ صحیح است. در کشور ایران دسترسی به آب، قلعه‌های دفاعی، بازارهای محلی و قرار گرفتن در تقاطع راه‌ها از مهم‌ترین عوامل شکل‌گیری هسته اولیه روستاها و شهرها بوده است.
- ۱۵ گزینه ۲ پاسخ صحیح است. منظور از موقعیت یک شهر یا روستا، وضعیت آن سکونت‌گاه نسبت به پدیده‌های پیرامون خود و هم‌چنین جایگاه آن در سطح ناحیه است. این پدیده‌ها و جایگاه ممکن است عوامل انسانی و طبیعی مانند روستاها و شهرهای اطراف آن، نقش سیاسی و اداری آن، آب و هوا، راه‌های ارتباطی دسترسی به مواد معدنی و انرژی و ناهمواری‌ها می‌باشد.
- ۱۶ گزینه ۴ پاسخ صحیح است. با بروز تحولات صنعتی و ورود کشورها به عصر نوسازی (مدرنیزاسیون)، نفوذ شهرها و «شهرگرایی» در روستاها افزایش یافت. منظور از شهرگرایی، روندی اقتصادی - اجتماعی است که طی آن شیوه‌های زندگی، رفتار و عمل‌کردها، ارزش‌ها و مظاهر شهری در روستاها و بین روستانشینان رواج می‌یابد.
- ۱۷ گزینه ۴ پاسخ صحیح است. منظور از شهرنشینی افزایش نسبت جمعیت شهرهای یک کشور یا یک ناحیه به روستاهای آن است.
- ۱۸ گزینه ۳ پاسخ صحیح است. مهم‌ترین ویژگی‌های مگالاپلیس عبارت‌اند از: تمرکز و انبوهی جمعیت شهری، تمرکز مؤسسات مالی و پولی، تمرکز صنایع دانش‌بنیان و فراوانی آمد و شد بین مادرشهرهای هم‌جوار با انواع وسایل حمل‌ونقل زمینی و هوایی.

گزینه ۱ پاسخ صحیح است. تصویر زیر مربوط به روابط شهر و روستا را به دقت تفسیر کنید:



گزینه ۴ پاسخ صحیح است. در برخی از بخش‌های جهان مانند ژاپن، در نتیجه گسترش فوق‌العاده زیاد دو یا چند مادرشهر (حتماً باید بیش از دو مادرشهر وجود داشته باشد) در امتداد مسیرهای ارتباطی و حمل‌ونقل، زنجیره‌ای از مادرشهرها یا کلان‌شهرها پدید آمده‌اند که به آن‌ها مگالاپلیس گفته می‌شود. در مگالاپلیس، حومه‌ها و شهرک‌های اقماری یک مادرشهر (جهان‌شهر توکیو) به حومه‌ها و شهرک‌های مادرشهر دیگر (یوکوهاما) پیوند می‌خورد. برخی، مگالاپلیس را منطقه ابرشهری نامیده‌اند. مهم‌ترین ویژگی‌های مگالاپلیس عبارت‌اند از: تمرکز و انبوهی جمعیت شهری، تمرکز مؤسسات مالی و پولی، تمرکز صنایع دانش بنیان و فراوانی آمد و شد بین مادرشهرهای هم‌جوار با انواع وسایل حمل‌ونقل زمینی و هوایی.

گزینه ۲ پاسخ صحیح است. برخی کارشناسان معتقدند کلان‌شهر ترجمه و معادل واژه مگاسیتی است. در کشور ایران طبق مصوبه شورای عالی معماری و شهرسازی، به مادرشهرهایی که بیش از ۱ میلیون نفر جمعیت داشته باشند، کلان‌شهر گفته می‌شود؛ مانند تهران، مشهد، اصفهان، کرج، قم و ... بنابراین هر مادر شهری در کشور ما نمی‌تواند کلان‌شهر محسوب شود اما همه کلان‌شهرها، یک مادرشهر نیز محسوب می‌شوند.

گزینه ۲ پاسخ صحیح است. هر چند میان سطح شهرنشینی در آسیا و آفریقا با نواحی توسعه‌یافته صنعتی آمریکای شمالی و اروپا و استرالیا اختلاف قابل توجهی وجود دارد، باید توجه کرد که سرعت گسترش شهرنشینی در آسیا و آفریقا بیش‌تر از سایر نواحی جهان است و هم‌چنان ادامه دارد. در حالی که میزان رشد سالیانه شهرنشینی در سایر نواحی جهان ۰/۴ درصد است. در آسیا و آفریقا این رشد به ۰/۱ درصد در سال می‌رسد. در کشورهای این نواحی، بخش عمده‌ای از رشد شهرنشینی به علت صنعتی شدن و توسعه کارخانه‌ها و یا رشد بخش خدمات و ورود این کشورها به تجارت جهانی (دلیل) و به دنبال آن مهاجرت فزاینده روستاییان به شهرها به منظور اشتغال و دستمزد بیش‌تر و هم‌چنین آلودگی هوای کلان‌شهرها (پیامد) بوده است.

گزینه ۳ پاسخ صحیح است. با بررسی تصویر رتبه‌بندی سلسله مراتب سکونت‌گاه‌ها در اروپا می‌توان گفت که سکونتگاه‌ها از نظر میزان جمعیت، تعداد و تنوع خدمات در یک ترتیب مشخصی قرار دارند. بیش‌ترین جمعیت و خدمات در راس این هرم، پایتخت (به عنوان شهری که تصمیم‌گیری‌های سیاسی در آن انجام می‌شود) قرار دارد و بعد از آن شهر منطقه‌ای، متوسط، کوچک، روستا و در قاعده هرم هاملت یا دهی که کلیسا ندارد، قرار گرفته است.

۲۴ گزینه ۱ پاسخ صحیح است. متداولترین ملاک تشخیص شهر و روستا ملاک جمعیتی است (مهمترین ملاک، فعالیت‌های اقتصادی است) و اگر جمعیت سکونتگاه به میزان معینی برسد، آن را شهر تلقی می‌کنند، اما این ملاک در نواحی مختلف دنیا متفاوت است. به عنوان مثال در برخی کشورهای اروپایی، سکونتگاه‌هایی با بیش‌تر از ۲۰۰۰ نفر جمعیت شهر محسوب می‌شوند اما در برخی کشورهای پرجمعیت آسیا، مانند چین و هند، روستاهایی با بیش‌تر از ۳۰۰۰۰ نفر جمعیت وجود دارند. به طور کلی شهرها از روستاها پرجمعیت‌ترند و تراکم جمعیت نیز در آنها بیش‌تر است.

۲۵ گزینه ۱ پاسخ صحیح است.
الف) مکان اصلی و دقیق یک سکونتگاه است مقرر
ب) مردم برحسب نیاز، آن را برای زندگی انتخاب می‌کنند ← مقرر
ج) وضعیت یک سکونتگاه نسبت به پدیده‌های پیرامون خود است ← موقعیت
د) در ادامه‌ی حیات و حتی نابودی آن سکونتگاه نقشی مهمی دارد ← موقعیت

۲۶ گزینه ۱ پاسخ صحیح است. برخی از شهرها به سبب نقش مهم آنها در اقتصاد و تجارت جهانی، حوزه‌ی نفوذ بسیار وسیعی در سطح جهان دارند و به آنها جهان‌شهر گفته می‌شود.

۲۷ گزینه ۴ پاسخ صحیح است.
درس ۱ صفحه ۲
در کشور ایران دسترسی به آب، قلعه‌های دفاعی بازارهای محلی و قرار گرفتن در تقاطع راه‌ها، از مهم‌ترین عوامل شکل‌گیری هسته اولیه روستاها و شهرها بوده است.

۲۸ گزینه ۳ پاسخ صحیح است.
درس ۱ صفحه ۱۴
مهم‌ترین ویژگی‌های مگالاپلیس عبارت است از: تمرکز و انبوهی جمعیت شهری، تمرکز مؤسسات مالی و پولی، تمرکز صنایع دانش بنیان و فراوانی آمد و شد بین مادر شهرهای هم‌جوار با انواع وسایل حمل و نقل زمینی و هوایی.

۲۹ گزینه ۲ پاسخ صحیح است.
درس ۱ صفحه ۳
منظور از موقعیت یک شهر یا روستا، وضعیت آن سکونتگاه نسبت به پدیده‌های پیرامون خود و همچنین جایگاه آن در سطح ناحیه است. این پدیده‌ها و جایگاه ممکن است عوامل انسانی و طبیعی مانند روستاها و شهرهای اطراف آن، نقش سیاسی و اداری آن، آب و هوا، راه‌های ارتباطی، دسترسی به منابع معدنی و انرژی و ناهمواری‌ها باشند. موقعیت یک شهر یا روستا در ادامه حیات یا گسترش آن سکونتگاه و یا حتی زوال و نابودی آن نقش مهمی ایفا می‌کند.

۳۰ گزینه ۲ پاسخ صحیح است.
درس ۱ صفحه ۶
متداولترین ملاک تشخیص شهر و روستا ملاک جمعیتی است و اگر جمعیت سکونتگاه به میزان معینی برسد، آن را شهر تلقی می‌کنند، اما این ملاک در نواحی مختلف دنیا متفاوت است.

۳۱ گزینه ۱ پاسخ صحیح است. مهاجرانی که از روستاها و شهرهای کوچک به شهرهای بزرگ مهاجرت می‌کنند، عمدتاً کارگر ساده و فاقد مهارت و تخصص‌اند. از سوی دیگر، فرصت‌های شغلی در شهر محدود است؛ به همین سبب، این مهاجرات وارد بخش غیررسمی اقتصاد می‌شوند.

۳۲ گزینه ۴ پاسخ صحیح است. با افزایش جمعیت مادرشهرها و گسترش حومه‌های آنها، به تدریج منطقه‌ی مادرشهری به وجود می‌آید. در پیرامون برخی از مادرشهرها، شهرها و شهرک‌های اقماری پدید آمده‌اند. گسترش حمل‌ونقل یکی از دلایل گسترش حومه‌ها است.

۳۳ گزینه ۲ پاسخ صحیح است. از سال ۱۳۳۵ روند شهرنشینی در ایران سرعت گرفت و دوره شهرنشینی سریع آغاز شد. مهم‌ترین علل شهرنشینی سریع عبارت بودند از: الف) از آن‌جا که بودجه کشور ما متکی به درآمد حاصل از فروش نفت است و این درآمد در دست دولت ذخیره می‌شود، دولت‌ها با استفاده از درآمد نفتی، بیش‌ترین سرمایه‌گذاری‌ها، توسعه کارخانه‌ها و تجهیزات و زیرساخت‌ها را به شهرها اختصاص دادند. ب) از سال ۱۳۴۱ اصلاحات ارضی در روستاها انجام گرفت. اصلاحات ارضی یعنی تغییر قوانین مالکیت زمین و توزیع مجدد آن به نفع کشاورزان. در ایران، اصلاحات ارضی در سه مرحله با سلب مالکیت مالکان بزرگ و واگذاری زمین به دهقانان خرده پا انجام گرفت؛ اما به سبب تقسیم نادرست زمین، حمایت نکردن دولت از کشاورزان، توجه به صنایع مونتاژ و واردات کالا از کشورهای خارجی نه تنها وضع روستاییان بهتر نشد بلکه شرایط انهدام کشاورزی نیز فراهم آمد. در نتیجه، مهاجرت روستاییان به شهرها شدت گرفت.

۳۴ گزینه ۲ پاسخ صحیح است. جهان‌شهر، کلان‌شهری است که حوزه نفوذ اقتصادی در سطح جهان دارد. بنابراین ابرشهر معادل مگالاپلیس یا زنجیره مادرشهر است.

۳۵ گزینه ۳ پاسخ صحیح است. سکونت‌گاه‌ها را براساس میزان جمعیت و عمل‌کرد خدماتی که ارائه می‌دهند، طبقه‌بندی می‌کنند. سکونت‌گاه‌های کوچک یا کم جمعیت معمولاً خدمات محدودی به ساکنان ارائه می‌دهند اما در سکونت‌گاه‌های بزرگ‌تر، تعداد و تنوع خدمات بسیار زیاد است؛ برای مثال، یک ده کوچک ممکن است چند مغازه و یک صندوق پست و یک مدرسه و یک مرکز بهداشت نیمه وقت داشته باشد اما در یک شهر بزرگ، انواع فروشگاه‌ها، مراکز درمانی و بیمارستان‌ها، رستوران‌ها، تئاتر و سینما، بانک‌ها، فرودگاه، استادیوم ورزشی و ... وجود دارد و شهر می‌تواند خدمات زیادی و متنوعی به ساکنان خود و حتی روستاها و شهرهای هم‌جوارش بدهد. برخی کلان‌شهرها نیز جهان‌شهر هستند و در بعضی فعالیت‌ها و تولید کالا، حوزه نفوذی در سطح جهان دارند.

۳۶ گزینه ۲ پاسخ صحیح است. سکونت‌گاه‌های کوچک مانند روستاها که در قاعده سلسله مراتب سکونت‌گاه‌ها قرار دارند معمولاً خدمات محدودی به ساکنان ارائه می‌دهند اما در سکونت‌گاه‌های بزرگ‌تر به ویژه پایتخت‌ها در راس هرم، تعداد و تنوع خدمات بسیار زیاد است؛ برای مثال، یک ده کوچک ممکن است چند مغازه و یک صندوق پست و یک مدرسه و یک مرکز بهداشت نیمه‌وقت داشته باشد اما در یک شهر بزرگ، انواع فروشگاه‌ها، مراکز درمانی و بیمارستان‌ها، تئاتر و سینما، استادیوم ورزشی و ... وجود دارد و شهر می‌تواند خدمات زیاد و متنوعی به ساکنان خود و روستاها و شهرهای هم‌جوارش بدهد.

۳۷ گزینه ۱ پاسخ صحیح است. در روستاها چون جمعیت کم‌تر است، بیش‌تر افراد یک‌دیگر را می‌شناسند و روابط خویشاوندی، وابستگی اجتماعی و همکاری میان آن‌ها بیش‌تر است. آداب و رسوم و شیوه زندگی در شهر و روستا متفاوت است. در شهرها نوگرایی بیش‌تر و تغییرات اجتماعی سریع‌تر است.

۳۸ گزینه ۱ پاسخ صحیح است. مقر هسته اولیه، مکان اصلی و دقیق یک سکونت‌گاه و محل استقرار آن بر روی زمین است. بنابراین مقر هر روستا یا شهر، هسته اولیه آنرا شامل می‌شود. منظور از هسته اولیه مکانی است که مرد برحسب نیاز، آنرا برای زندگی انتخاب کرده و به اشغال درآورده‌اند و بعدها روستا یا شهر از آن محل گسترش یافته است.

- ۳۹ گزینه ۴ پاسخ صحیح است. با بروز تحولات صنعتی و ورود کشورها به عصر نوسازی (مدرنیزاسیون)، نفوذ شهرها و «شهرگرایی» در روستاها افزایش یافت. منظور از شهرگرایی، روندی اقتصادی - اجتماعی است که طی آن شیوه‌های زندگی، رفتار و عملکردها، ارزش‌ها و مظاهر شهری در روستاها و بین روستائیان رواج می‌یابد.
- ۴۰ گزینه ۳ پاسخ صحیح است. مهم‌ترین ویژگی‌های مگالاپلیس عبارت‌اند از: تمرکز و انبوهی جمعیت شهری، تمرکز مؤسسات مالی و پولی، تمرکز صنایع دانش‌بنیان و فراوانی آمد و شد بین مادرشهرهای هم‌جوار با انواع وسایل حمل و نقل زمینی و هوایی.
- ۴۱ گزینه ۴ پاسخ صحیح است. درس ۹ صفحه ۸۱ سکونتگاه‌های شهری هم شکل‌های گوناگون دارد. شهرها با توجه به چگونگی پیدایش و کارکردهای مختلف خود، شکل‌های متفاوت دارد. برخی از شهرها شکل ترکیبی دارند. این شهرها در دوره‌های مختلف گسترش پیدا کرده است. به همین دلیل شکل این شهرها از نوع ترکیبی است.
- ۴۲ گزینه ۱ پاسخ صحیح است. از دلایل انهدام کشاورزی در نتیجه‌ی اصلاحات ارضی: توجه به صنایع مونتاژ واردات کالا از کشورهای خارجی حمایت نکردن دولت از کشاورزان تقسیم نادرست زمین
- ۴۳ گزینه ۱ پاسخ صحیح است. در سده‌ی نوزدهم و نیمه‌ی اول قرن بیستم در کشورهای توسعه‌یافته و صنعتی اروپا و آمریکای شمالی، به دنبال توسعه‌ی صنایع کارخانه‌ای مهاجرت از روستاها به شهرها رخ داد.
- ۴۴ گزینه ۱ پاسخ صحیح است. به زنجیره‌ای از مادرشهرها یا کلان‌شهرها در امتداد مسیرهای ارتباطی و حمل و نقل، مگالاپلیس می‌گویند.
- ۴۵ گزینه ۲ پاسخ صحیح است. دامنه‌ی نفوذ یک سکونتگاه یعنی بیشترین مسافتی که مردم منطقه برای دریافت خدمات از آن سکونتگاه طی می‌کنند.
- ۴۶ گزینه ۲ پاسخ صحیح است. $۱۹۵۰ \leftarrow ۳۰\% / ۲۰۱۴ \leftarrow ۵۴\% / ۲۰۵۰ \leftarrow ۶۶\%$
- ۴۷ گزینه ۱ پاسخ صحیح است. منظور از موقعیت یک شهر یا روستا، وضعیت آن سکونتگاه نسبت به پدیده‌های پیرامون خود و همچنین جایگاه آن در سطح ناحیه است.
- ۴۸ گزینه ۴ پاسخ صحیح است. با توجه به نقشه پراکنندگی جمعیت در ایران، استان‌های ایلام، سمنان و یزد از استان‌های کم‌جمعیت در ایران هستند.
- ۴۹ گزینه ۲ پاسخ صحیح است. در سال ۱۹۹۰، ۱۰ شهر با بیش از ۱۰ میلیون نفر در جهان وجود داشت و امروزه تعداد این شهرها به ۲۸ شهر رسیده است.
- ۵۰ گزینه ۴ پاسخ صحیح است. در ابرشهر یا مگالاپلیس، حومه‌ها و شهرک‌های اقماری یک مادرشهر به حومه‌ها و شهرک‌های مادرشهر دیگر پیوند می‌خورند.
- ۵۱ گزینه ۱ پاسخ صحیح است. بیش‌ترین مگالاپلیس در ایالات متحده آمریکا در شمال شرقی از بوستن تا واشنگتن گسترده شده است.
- ۵۲ گزینه ۱ پاسخ صحیح است. آسیا و آفریقا ۱/۵ درصد سایر نواحی جهان ۴/۵ درصد

- ۵۳ گزینه ۳ پاسخ صحیح است. آستانه جمعیتی نفوذ، یعنی حداقل جمعیتی که تقاضای کالا، خدمات یا عملکردی از سکونتگاه دارند.
- دامنه نفوذ، یعنی بیشترین مسافتی که مردم منطقه برای دریافت خدمات از آن سکونتگاه طی می‌کنند.
- ۵۴ گزینه ۱ پاسخ صحیح است. هاملت ← (۱۰۰ - ۱۰) شهر کوچک ← (۲۵,۰۰۰ - ۲۵۰۰)
- ۵۵ گزینه ۲ پاسخ صحیح است. منظور از هسته اولیه، مکانی است که مردم برحسب نیاز، آن را برای زندگی انتخاب کرده و به اشغال درآورده‌اند و بعدها روستا یا شهر از آن محل گسترش یافته است.
- ۵۶ گزینه ۲ پاسخ صحیح است. در سده نوزدهم و نیمه اول قرن بیستم در کشورهای توسعه‌یافته و صنعتی اروپا و آمریکای شمالی، به دنبال توسعه صنایع کارخانه‌ای مهاجرت از روستاها به شهرها رخ داد. البته این مهاجرت تدریجی و طولانی مدت بوده و طی دهه‌ها سال و همگام با تحولات صنعتی شدن صورت گرفته است. در برخی از روستاها شهرنشینان به سرمایه‌گذاری و خرید زمین‌های کشاورزی به منظور ایجاد کشت تجاری اقدام کردند و در نتیجه آن روستانشینی کاهش یافت.
- ۵۷ گزینه ۱ پاسخ صحیح است. مهم‌ترین ویژگی‌های مگالاپلیس عبارت‌اند از: تمرکز و انبوهی جمعیت شهری، تمرکز مؤسسات مالی و پولی، تمرکز صنایع دانش بنیان و فراوانی آمد و شد بین ما در شهرهای هم جوار با انواع وسایل حمل و نقل زمینی و هوایی.
- ۵۸ گزینه ۴ پاسخ صحیح است. یکی از مهم‌ترین تغییرات فضای جغرافیایی در قرن بیستم و بیست و یکم، افزایش شهر شهرنشینی در جهان است. منظور از اصطلاح شهرنشینی افزایش نسبت جمعیت شهرهای یک کشور یا ناحیه به روستاهای آن است.
- ۵۹ گزینه ۱ پاسخ صحیح است. در روستاها چون جمعیت کمتر است، بیشتر افراد یکدیگر را می‌شناسند و روابط خویشاوندی، وابستگی اجتماعی و همکاری میان آنها بیشتر است. آداب و رسوم و شیوه زندگی در شهر و روستا متفاوت است. در شهرها نوگرایی بیشتر و تغییرات اجتماعی سریع‌تر است.
- ۶۰ گزینه ۲ پاسخ صحیح است. متداول‌ترین ملاک تشخیص شهر و روستا ملاک جمعیتی است و اگر جمعیت سکونتگاه به میزان معینی برسد، آن را شهر تلقی می‌کنند، اما این املاک در نواحی مختلف دنیا متفاوت است.
- ۶۱ گزینه ۲ پاسخ صحیح است. منظور از موقعیت یک شهر یا روستا، وضعیت آن سکونتگاه نسبت به پدیده‌های پیرامون خود و همچنین جایگاه آن در سطح ناحیه است. این پدیده‌ها و جایگاه ممکن است عوامل انسانی و طبیعی مانند روستاها و شهرهای اطراف آن، نقش سیاسی و اداری آن، آب و هوا، راه‌های ارتباطی، دسترسی به منابع معدنی و انرژی و ناهمواری‌ها باشند. موقعیت یک شهر یا روستا در ادامه حیات یا گسترش آن سکونتگاه و یا حتی زوال و نابودی آن نقش مهمی ایفا می‌کند.
- ۶۲ گزینه ۴ پاسخ صحیح است. در کشور ایران دسترسی به آب، قلعه‌های دفاعی، بازارهای محلی و قرار گرفتن در تقاطع راه‌ها از مهم‌ترین عوامل شکل‌گیری هسته اولیه روستاها و شهرها بوده است.
- ۶۳ گزینه ۳ پاسخ صحیح است. با اصلاحات ارضی در ایران، به سبب تقسیم نادرست زمین، حمایت نکردن دولت از کشاورزان، توجه به صنایع مونتاژ و واردات کالا از کشورهای خارجی، نه تنها وضع بهتر نشد بلکه شرایط انهدام کشاورزی در ایران فراهم آمد. در نتیجه، مهاجرت روستاییان به شهرها شدت گرفت.

- ۶۴ گزینه ۲ پاسخ صحیح است. به طور کلی، افزایش جمعیت شهری از سه طریق صورت گرفته است:
 ۱- افزایش طبیعی جمعیت شهرها یعنی رشد مولید (تولدها) نسبت به مرگ و میر
 ۲- مهاجرت روستاییان به شهرها
 ۳- افزایش جمعیت برخی روستاها و تبدیل شدن آنها به نقاط شهری یا ادغام روستاها در بافت شهری.
- ۶۵ گزینه ۱ پاسخ صحیح است. در سده‌ی نوزدهم و نیمه‌ی اول قرن بیستم در کشورهای توسعه‌یافته و صنعتی اروپا و آمریکای شمالی، به دنبال توسعه‌ی صنایع کارخانه‌ای مهاجرت از روستاها به شهرها رخ داد.
- ۶۶ گزینه ۲ پاسخ صحیح است. با بروز تحولات صنعتی و ورود کشورها به عصر نوسازی (مدرنیزاسیون)، نفوذ شهرها و شهرگرایی در روستاها افزایش یافت.
- ۶۷ گزینه ۴ پاسخ صحیح است. معمولاً به مادرشهر (متروپل)، کلان‌شهر نیز گفته می‌شود. برخی نیز معتقدند کلان‌شهر ترجمه و معادل واژه‌ی مگاسیتی است. با افزایش جمعیت مادرشهرها و گسترش حومه‌های آنها، به تدریج منطقه‌هایی با عنوان منطقه‌ی مادرشهری به وجود آمدند. در نتیجه‌ی گسترش فوق‌العاده زیاد دو یا چند مادرشهر، زنجیره‌ای از مادرشهرها پدید می‌آید که به آنها مگالاپلیس (منطقه‌ی ابرشهری) می‌گویند.
- ۶۸ گزینه ۲ پاسخ صحیح است. یکی از مهم‌ترین پدیده‌های مربوط به تغییرات الگوی شهرنشینی در جهان، افزایش شهرهای میلیونی است. در سال ۱۹۵۰ میلادی، دو شهر لندن و نیویورک بیش‌تر از ۸ میلیون نفر جمعیت داشتند.
- ۶۹ گزینه ۲ پاسخ صحیح است. تا چند دهه‌ی پیش، شهرهای با بیش از ۵ و ۱۰ میلیون نفر در جهان، فقط در نیم‌کره‌ی شمالی و در آمریکای شمالی، اروپا و ژاپن وجود داشتند؛ اما امروزه آسیا، آمریکای لاتین و آفریقا با رشد شهرهای میلیونی و پرجمعیت روبه‌رو شده‌اند.
- ۷۰ گزینه ۱ پاسخ صحیح است. متداول‌ترین ملاک تشخیص شهر و روستا «ملاک جمعیتی» است و مهم‌ترین ملاک تفاوت شهر و روستا، «فعالیت‌های اقتصادی» آنهاست.
- ۷۱ گزینه ۱ پاسخ صحیح است. منظور از مقر، مکان اصلی و دقیق یک سکونتگاه و محل استقرار آن روی زمین است. منظور از موقعیت یک شهر یا روستا، وضعیت آن سکونتگاه نسبت به پدیده‌های پیرامون خود و همچنین جایگاه آن در سطح ناحیه است.
 منظور از هسته‌ی اولیه مکانی است که مردم برحسب نیاز، آنرا برای زندگی انتخاب کرده و به اشغال درآورده‌اند و بعدها روستا یا شهر از آن محل گسترش یافته است.
- ۷۲ گزینه ۲ پاسخ صحیح است. مقر هر روستا یا شهر، هسته‌ی اولیه آنرا شامل می‌شود. منظور از هسته‌ی اولیه مکانی است که مردم برحسب نیاز، آنرا برای زندگی انتخاب کرده و به اشغال درآورده‌اند و بعدها روستا یا شهر از آن محل گسترش یافته است. تشریح سایر گزینه‌ها:
 گزینه‌ی ۱: از چهار هزار سال قبل، نخستین روستاهای پرجمعیت و همچنین تمدن‌های اولیه در کنار رودهای دجله و فرات، نیل، کارون، سند و ... پدید آمدند.
 گزینه‌ی ۳: در سکونت‌گزینی انسان‌ها در کنار رودها، عواملی چون آب فراوان، آب و هوای ملایم و خاک حاصلخیز جلگه‌ها نقش مهمی داشته است.
 گزینه‌ی ۴: جایگاه سکونتگاه در سطح ناحیه، در ذیل تعریف «موقعیت» بیان می‌شود.
- ۷۳ گزینه ۲ پاسخ صحیح است. مهم‌ترین علل شهرنشینی سریع بعد از سال ۱۳۳۵ در ایران سرمایه‌گذاری دولت در شهرها با استفاده از درآمدهای نفتی و اصلاحات ارضی بود.

- ۷۴ گزینه ۴ پاسخ صحیح است. مهم‌ترین ملاک تفاوت شهر و روستا میزان جمعیت است. شهر و روستا ملاک تفاوت
- ۷۵ گزینه ۱ پاسخ صحیح است. افزایش شهرهای چند میلیونی (ص ۱۱)
- ۷۶ گزینه ۳ پاسخ صحیح است.
با دقت بر هرم مشخص شده می‌توان نتایج زیر را مشخص کرد:
در رأس هرم تنوع خدمات و میزان جمعیت بیشتر از قاعده هرم است. به عبارت دیگر هرچه از رأس هرم به سمت قاعده هرم حرکت کنیم (یعنی از پایتخت به سمت هاملت) خدمات و جمعیت کاهش می‌یابد و عکس آن نیز درست است.
- ۷۷ گزینه ۱ پاسخ صحیح است. بررسی عبارتهای نادرست:
الف) موقعیت یک شهر یا روستا در ادامه‌ی حیات یا گسترش آن سکونتگاه و یا حتی نابودی و زوال آن نقش مهمی ایفا می‌کند.
ب) موقعیت یک شهر یا روستا، وضعیت آن سکونتگاه نسبت به پدیده‌های پیرامون خود و همچنین جایگاه آن در سطح ناحیه است.
ج) مقر، مکان اصلی و دقیق یک سکونتگاه و محل استقرار آن روی زمین است.
- ۷۸ گزینه ۱ پاسخ صحیح است. علت اصلی رشد سریع شهرنشینی در کشورهای در حال توسعه، علاوه بر رشد طبیعی جمعیت شهری، عامل مهاجرت زیاد از روستا به شهرها بوده است. به این ترتیب که با توسعه‌ی صنعتی، کارخانه‌ها به نیروی کار نیاز پیدا کردند و در نتیجه، روستاییان برای دریافت دستمزد بیشتر و خدمات و تسهیلات بهتر، به نواحی شهری مهاجرت نمودند.
- ۷۹ گزینه ۲ پاسخ صحیح است. مقر یا مکان محلی است که مکان واقعی و هسته‌ی اولیه‌ی شهر یا روستا ابتدا در آنجا شکل می‌گیرد؛ یعنی ساکنان یک ناحیه، شهر یا روستا را در آنجا بنا می‌کنند و سپس شهر یا روستا از آن نقطه توسعه می‌یابد.
- ۸۰ گزینه ۲ پاسخ صحیح است. منظور از شهرگرایی، روندی اقتصادی اجتماعی است که طی آن شیوه‌های زندگی، رفتار و عملکردها، ارزش‌ها و مظاهر شهری در روستاها و بین روستانشینان رواج می‌یابد.
- ۸۱ گزینه ۲ پاسخ صحیح است. شناسایی کاربری‌هایی اراضی روستا، ساماندهی کاربری‌های مسکونی، کشاورزی، خدماتی، بهبود وضعیت اقتصادی و اجتماعی روستاها و ... و ایجاد شبکه‌های آب آشامیدنی، برق، خدمات بهداشتی، آموزش مهارت‌های فنی حرفه‌ای، ایجاد دو توسعه راه‌های روستایی و ... به ترتیب از اقدامات انجام شده توسط بنیاد مسکن انقلاب اسلامی و جهاد سازندگی از سال ۱۳۵۸ تاکنون در کشورمان بوده است. (ص ۳۵ کتاب دوازدهم)
- ۸۲ گزینه ۴ پاسخ صحیح است. در سال ۱۹۵۰ دو شهر لندن و نیویورک بیش از ۸ میلیون نفر جمعیت داشتند.
- ۸۳ گزینه ۱ پاسخ صحیح است. در سال ۱۳۹۵، ۷۵٪ جمعیت در شهرها زندگی می‌کرده‌اند. در سال ۱۳۹۵، ۲۵٪ جمعیت در روستاها زندگی می‌کرده‌اند.
- ۸۴ گزینه ۲ پاسخ صحیح است. در سده‌ی نوزدهم و نیمه‌ی اول قرن بیستم در کشورهای توسعه‌یافته و صنعتی اروپا و آمریکای شمالی، به دنبال توسعه‌ی صنایع کارخانه‌ای مهاجرت از روستاها به شهرها رخ داد.
- ۸۵ گزینه ۲ پاسخ صحیح است. برخی از این شهرها به سبب نقش مهم آن‌ها در اقتصاد و تجارت جهانی، حوزه‌ی نفوذ بسیار وسیعی در سطح جهان دارند و به آن‌ها جهان‌شهر گفته می‌شود.

- ۸۶ گزینه ۳ پاسخ صحیح است. در سال ۱۹۵۰ میلادی فقط ۳۰٪ جمعیت جهان در شهرها زندگی می‌کردند. پیش‌بینی می‌شود که تا سال ۲۰۵۰ میلادی این نسبت به حدود ۶۶٪ برسد.
- ۸۷ گزینه ۳ پاسخ صحیح است. آستانه‌ی نفوذ، یعنی حداقل جمعیتی که تقاضای کالا، خدمات یا عملکردی از سکونت‌گاه دارند. دامنه‌ی نفوذ، یعنی بیش‌ترین مسافتی که مردم منطقه برای دریافت خدمات از آن سکونت‌گاه طی می‌کنند.
- ۸۸ گزینه ۲ پاسخ صحیح است. معیارهای رتبه‌بندی با توجه به اهداف و نوع مطالعات محققان، از جایی به جای متفاوت است.
- ۸۹ گزینه ۴ پاسخ صحیح است. هاملت، روستا و شهر کوچک نسبت به شهر متوسط، شهر منطقه‌ای و پایتخت دارای کاهش بسیار زیاد تعداد و تنوع خدمات می‌باشند.
- ۹۰ گزینه ۳ پاسخ صحیح است. مهم‌ترین ملاک تفاوت تشخیص شهر و روستا ← فعالیت‌های اقتصادی متداول‌ترین ملاک تشخیص شهر و روستا ← میزان جمعیت
- ۹۱ گزینه ۱ پاسخ صحیح است. بررسی عبارات نادرست:
الف) موقعیت یک شهر یا روستا در ادامه‌ی حیات یا گسترش آن سکونت‌گاه و یا حتی نابودی آن نقش مهمی دارد.
ب) در انتخاب مکان برای استقرار و سکونت جمعیت، عوامل طبیعی بیش‌ترین نقش را داشته‌اند.
ج) هسته‌ی اولیه مکانی است که مردم برحسب نیاز، آنرا برای زندگی انتخاب کرده‌اند.
- ۹۲ گزینه ۴ پاسخ صحیح است. از سال ۱۳۳۵ به بعد روند شهرنشینی در ایران سرعت گرفت و دوره شهرنشینی سریع آغاز شد. ۲ عامل اصلی در این روند عبارتند از: الف) اختصاص بیشتر بودجه به توسعه کارخانجات و زیر ساخت‌ها در شهرها و ب) عمرکرد اصلاحات ارضی که منجر به انهدام کشاورزی در روستاها و متعاقب آن مهاجرت بیشتر روستائیان به شهرها شد.
- ۹۳ گزینه ۴ پاسخ صحیح است. امکان تغییر موقعیت سکونتگاه در طول زمان وجود دارد.
- ۹۴ گزینه ۳ پاسخ صحیح است. شهر پایدار شهری است که در آن نیازهای اجتماعی، فرهنگی و اقتصادی ساکنان به‌طور عادلانه برطرف می‌شود و کمترین تأثیر نامطلوب بر محیط زیست وارد می‌شود. موارد حمایت از کارآفرینان، بازسازی محله‌های فرسوده، ایجاد غرفه‌های ارزان قیمت، توسعه گردشگری، برگزاری کارگاه‌های آموزشی و ... از جمله اقدامات دستیابی به شهر پایدار محسوب می‌شود.
- ۹۵ گزینه ۳ پاسخ صحیح است. به‌طور کلی زمانی که نقاط روستایی به میزان جمعیت معینی برسد می‌تواند به‌عنوان شهر نامگذاری شود و در آن شهرداری تأسیس می‌شود. این عامل به همراه افزایش نرخ مولد و مهاجرت‌های روستا به شهر در افزایش جمعیت شهری و شهرنشینی مؤثر هستند.
- ۹۶ گزینه ۲ پاسخ صحیح است. پدیده شهرگرایی در اثر تحولات صنعتی و نوسازی در روستاها گسترش یافت. در این پدیده مظاهر به همراه شیوه زندگی شهری در روستاها افزایش می‌یابد. همچنین این پدیده همانند شهرنشینی ارتباطی با افزایش جمعیت ندارد.
- ۹۷ گزینه ۱ پاسخ صحیح است. هر پدیده شهری در کتاب درسی به‌طور معمول یک معادل دارد: مادرشهر ← متروپل، کلان‌شهر ← مگاسیتی و ابرشهر ← مگالاپلیس؛
- ۹۸ گزینه ۴ پاسخ صحیح است. حوزه نفوذ C به‌عنوان محدودتر تنها به محدوده یک یا چند روستا نفوذ و خدمات دارد. حوزه نفوذ B مربوط به شهر کوچک می‌تواند خدماتی را به چند روستا ارائه دهد. و حوزه نفوذ A در سطح کلان‌تری می‌تواند خدمات در سطح کشوری و نفوذ با وسعت بسیار زیادی را به شهرها و روستاهای تحت نفوذ خود ارائه دهد.

۹۹ گزینه ۲ پاسخ صحیح است. در این هرم هر چه از پایتخت به سمت هاملت حرکت کنیم خدمات و تسهیلات و نیز میزان جمعیت کاهش می‌یابد. بنابراین از رأس هرم به سمت قاعده روند کاهشی در زمینه خدمات و میزان جمعیت داریم.

۱۰۰ گزینه ۲ پاسخ صحیح است. یک روستا در مقایسه با شهر به‌طور کلی دارای ویژگی‌های زیر است: نوگرایی محدودتر، وابستگی اجتماعی بیشتر، تراکم جمعیت کمتر، فعالیت نوع اول (دامداری، زراعت، شکار و ...) بیشتر، چشم‌انداز طبیعی وسیع‌تر، فضای صنعتی محدودتر، خدمات محدودتر و ...

۱۰۱ گزینه ۲ پاسخ صحیح است.

بررسی موارد نادرست:

ب) قدیمی‌ترین نوع سکونتگاه که در ایران شناخته‌شده، زندگی عشایری است.

ج) عوامل انسانی مانند جنگ و بیماری سبب از بین رفتن شهر بیشاپور شده است.

۱۰۲ گزینه ۳ پاسخ صحیح است. برخی از شهرها شکل ترکیبی دارند. این شهرها در دوره‌های مختلف گسترش پیدا کرده است. به همین دلیل شکل این شهرها از نوع ترکیبی است.

۱۰۳ گزینه ۳ پاسخ صحیح است.

۱۰۴ گزینه ۲ پاسخ صحیح است.

۱۰۵ گزینه ۳ پاسخ صحیح است.

۱۰۶ گزینه ۴ پاسخ صحیح است.

۱۰۷ گزینه ۲ پاسخ صحیح است.

۱۰۸ گزینه ۲ پاسخ صحیح است.

۱۰۹ گزینه ۳ پاسخ صحیح است.

۱۱۰ گزینه ۱ پاسخ صحیح است.

۱۱۱ گزینه ۳ پاسخ صحیح است.

۱۱۲ گزینه ۲ پاسخ صحیح است.

۱۱۳ گزینه ۱ پاسخ صحیح است.

۱۱۴ گزینه ۲ پاسخ صحیح است.

۱۱۵ گزینه ۲ پاسخ صحیح است.

۱۱۶ گزینه ۳ پاسخ صحیح است.

۱۱۷ گزینه ۳ پاسخ صحیح است.

۱۱۸ گزینه ۲ پاسخ صحیح است.

۱۱۹ گزینه ۱ پاسخ صحیح است.

۱۲۰ گزینه ۳ پاسخ صحیح است.

۱۲۱ گزینه ۱ پاسخ صحیح است.

- ۱۲۲) گزینه ۱ پاسخ صحیح است.
- ۱۲۳) گزینه ۴ پاسخ صحیح است. حومه‌ها در اثر افزایش شهرنشینی و گسترش حمل و نقل در اطراف شهرهای بزرگ شکل گرفتند. حومه‌نشینان برای خرید و استفاده از خدمات به شهرها وابسته هستند.
- ۱۲۴) گزینه ۱ پاسخ صحیح است. رشد شهرنشینی در کشورهای جهان سوم ناشی از ورود این کشورها به تجارت جهانی و رشد بخش خدمات است. این فرایند در مقایسه کشورهای صنعتی با آسیا و آفریقا دارای اختلاف قابل توجهی است و متفاوت است.
- ۱۲۵) گزینه ۳ پاسخ صحیح است. حوزه نفوذ (A) نشانگر سطح نفوذ و تأثیرگذاری در سطح کشوری است. مانند تولید و عرضه خوراک. حوزه نفوذ (B) محدودتر و مربوط به شهرهای کوچکی است که خدمات درمانی، آموزشی و ... به روستاهای مجاور خود ارائه می‌دهد.
- ۱۲۶) گزینه ۳ پاسخ صحیح است. با بررسی یک نمونه رتبه‌بندی یا سلسله مراتب سکونتگاه‌ها در اروپا می‌توان گفت هر چه از پایتخت به سمت هاملت (دهی که کلیسا ندارد) حرکت کنیم میزان جمعیت و تعداد تنوع خدمات کاهش می‌یابد.
- ۱۲۷) گزینه ۴ پاسخ صحیح است. در اغلب سکونتگاه‌های روستایی، درصد بیشتری از مردم در بخش کشاورزی یعنی دامداری، جنگل‌داری، صید و شکار و ... مشغول هستند. از طرفی ملاک جمعیتی تشخیص شهر و روستا با هم متفاوت است. همچنین در شهرها فعالیت‌های متنوع صنعتی در فضای محدودی انجام می‌شود. امکانات و خدمات شهرها بیشتر است اما وابستگی اجتماعی در روستاها غلبه دارد.
- ۱۲۸) گزینه ۳ پاسخ صحیح است. وابستگی زندگی روستاییان به درآمد فصلی و ناکافی حاصل از کشاورزی سبب شده است تا اکثر روستاییان درآمد کافی نداشته باشند.
- ۱۲۹) گزینه ۲ پاسخ صحیح است. موارد ب و ج با مفهوم متروپل مطابقت بیشتری دارد.
- ۱۳۰) گزینه ۳ پاسخ صحیح است. دسترسی به آب، وجود قلعه‌های دفاعی و نظامی، بازارهای محلی و قرار گرفتن در محل تلاقی راه‌ها از مهم‌ترین عوامل شکل‌گیری هسته اولیه روستاها و شهرها در کشور ایران می‌باشند.
- ۱۳۱) گزینه ۳ پاسخ صحیح است. روستاها با ویژگی‌های پیرامون و نیمه پیرامون و شهر با ویژگی‌های مرکز تطابق دارد.
- ۱۳۲) گزینه ۲ پاسخ صحیح است. موارد الف و ج در رتبه‌بندی سکونتگاه نقش دارد.
- ۱۳۳) گزینه ۴ پاسخ صحیح است. موارد ب و د مفهوم درستی از مقر را بیان می‌کنند.
- ۱۳۴) گزینه ۳ پاسخ صحیح است. معیارهای رتبه‌بندی سکونتگاه با توجه به اهداف و نوع مطالعات محققان و از جایی به جای دیگر متفاوت است.
- ۱۳۵) گزینه ۲ پاسخ صحیح است. سرآغاز مطالعه و شناخت یک سکونتگاه روستایی و شهری، مقر (مکان، جایگاه) و موقعیت آن است.
- ۱۳۶) گزینه ۲ پاسخ صحیح است. با افزایش جمعیت مادرشهرها و گسترش حومه‌های آنها به تدریج منطقه‌هایی با عنوان منطقه‌ی مادرشهری به وجود آمدند.
- ۱۳۷) گزینه ۱ پاسخ صحیح است. معماری و طراحی شهر، بازتاب فرهنگ و هویت شهروندان در یک شهر است.
- ۱۳۸) گزینه ۳ پاسخ صحیح است. دامنه‌ی نفوذ یک سکونتگاه، یعنی بیش‌ترین مسافتی که مردم منطقه برای دریافت خدمات از آن سکونتگاه طی می‌کنند.

- ۱۳۹) گزینه ۳ پاسخ صحیح است. حدود سال ۱۳۶۰ در جمعیت شهری و روستایی ایران حدود ۵۰٪ به طور مساوی بوده است.
- ۱۴۰) گزینه ۱ پاسخ صحیح است. حدود سال ۱۳۶۰ جمعیت شهری و روستایی در این حدود ۵۰٪ بود.
- ۱۴۱) گزینه ۳ پاسخ صحیح است. به سبب تقسیم نادرست زمین، حمایت نکردن دولت از کشاورزان، توجه به صنایع مونتاژ و واردات کالا از کشورهای خارجی نه تنها وضع روستائیان بهتر نشد، بلکه شرایط انهدام کشاورزی در ایران فراهم آمد.
- ۱۴۲) گزینه ۱ پاسخ صحیح است. در قرن نوزدهم و نیمه اول قرن بیستم، در کشورهای توسعه یافته و صنعتی اروپا و آمریکای شمالی، به دنبال توسعه صنایع کارخانه‌ای مهاجرت از روستاها به شهرها رخ داد.
- ۱۴۳) گزینه ۳ پاسخ صحیح است. منظور از شهرگرایی، روند اقتصادی - اجتماعی است که طی آن شیوه‌های زندگی، رفتار و عملکردها، ارزش‌ها و مظاهر شهری که روستاها و بین روستانشینان رواج می‌یابد.
- ۱۴۴) گزینه ۴ پاسخ صحیح است.
(د) شمال شرقی ایالات متحده آمریکا، دارای مگالاپلیس (بوستن - واشنگتن) می‌باشد.
- ۱۴۵) گزینه ۲ پاسخ صحیح است. با افزایش جمعیت مادرشهرها و گسترش حومه‌های آنها به تدریج منطقه‌هایی با عنوان منطقه‌ی مادرشهری به وجود آمدند.
- ۱۴۶) گزینه ۴ پاسخ صحیح است. لندن و نیویورک در سال ۱۹۵۰ میلادی بیش‌تر از ۸ میلیون نفر جمعیت داشته‌اند.
- ۱۴۷) گزینه ۲ پاسخ صحیح است. به محدوده‌ی جغرافیایی که از یک سکونتگاه کالا و انواع خدمات دریافت می‌کند، حوزه‌ی نفوذ آن سکونتگاه می‌گویند.
- ۱۴۸) گزینه ۱ پاسخ صحیح است. در قاره‌ی استرالیا شهرهایی با جمعیت ۵۰۰ هزار تا ۱ میلیون نفر وجود ندارد.
- ۱۴۹) گزینه ۱ پاسخ صحیح است. بررسی عبارت نادرست:
(ج) مادرشهر (متروپل) بزرگ‌ترین و مهم‌ترین شهر یک ناحیه، استان یا کشور است.
- ۱۵۰) گزینه ۳ پاسخ صحیح است. برخی از شهرها به سبب نقش مهم آنها در اقتصاد و تجارت جهانی، حوزه‌ی نفوذ بسیار وسیعی در سطح جهان دارند و به آنها جهان‌شهر گفته می‌شود.
- ۱۵۱) گزینه ۲ پاسخ صحیح است. در قرن نوزدهم و در ابتدای قرن بیستم، در برخی کشورها مانند آلمان، روستائیان برای دریافت مزد بیش‌تر به طور نیمه‌وقت در شهرها کار می‌کردند و بخشی از وقت خود را به کار در مزارع اختصاص می‌دادند.
- ۱۵۲) گزینه ۴ پاسخ صحیح است. شهرگرایی روندی اقتصادی - اجتماعی است که طی آن شیوه‌های زندگی، رفتار و عملکردها، ارزش‌ها و مظاهر شهری در روستاها و بین روستانشینان رواج می‌یابد.
- ۱۵۳) گزینه ۲ پاسخ صحیح است. مهم‌ترین علل شهرنشینی سریع در ایران از سال ۱۳۳۵: سرمایه‌گذاری بیش‌تر در شهرها با استفاده از درآمد نفتی و شکست اصلاحات ارضی در کشور
- ۱۵۴) گزینه ۳ پاسخ صحیح است. مهم‌ترین ویژگی‌های مگالاپلیس‌ها عبارت‌اند از: تمرکز و انبوهی جمعیت شهری، تمرکز مؤسسات مالی و پولی، تمرکز صنایع دانش‌بنیان و فراوانی آمد و شد بین مادرشهرهای هم‌جوار با انواع وسایل حمل و نقل زمینی و هوایی.
- ۱۵۵) گزینه ۱ پاسخ صحیح است. بیش‌تر مگالاپلیس‌ها معمولاً در امتداد راه‌های ارتباطی به وجود می‌آیند.

- ۱۵۶) گزینه ۲ پاسخ صحیح است.
- ۱۵۷) گزینه ۳ پاسخ صحیح است. بررسی موارد نادرست:
 ج) در چهارهزار سال قبل، نخستین روستاها و شهرهای پرجمعیت و همچنین تمدن‌های اولیه در کنار رودهای دجله و فرات، نیل، کارون، سند و ... پدید آمدند.
 ه) در کشور ایران دسترسی به آب، قلعه‌های دفاعی، بازارهای محلی و قرار گرفتن در تقاطع راه‌ها از مهم‌ترین عوامل شکل‌گیری هسته‌ی اولیه روستاها و شهرها بوده است.
- ۱۵۸) گزینه ۳ پاسخ صحیح است. در کشورهای نواحی آسیا و آفریقا بخش عمده‌ای از رشد شهرنشینی به علل زیر بوده است: ۱) مهاجرت فراینده‌ی روستاییان به شهرها به‌منظور اشتغال و دستمزد بیشتر ۲) صنعتی شدن و توسعه‌ی کارخانه‌ها و یا رشد بخش خدمات و ورود این کشورها به تجارت جهانی
- ۱۵۹) گزینه ۲ پاسخ صحیح است.
 متداول‌ترین ملاک تشخیص شهر و روستا ← جمعیت
 مهم‌ترین ملاک تفاوت شهر و روستا ← فعالیت‌های اقتصادی آنها
- ۱۶۰) گزینه ۱ پاسخ صحیح است.
- ۱۶۱) گزینه ۴ پاسخ صحیح است.
- ۱۶۲) گزینه ۲ پاسخ صحیح است.
- ۱۶۳) گزینه ۱ پاسخ صحیح است.
- ۱۶۴) گزینه ۴ پاسخ صحیح است.
- ۱۶۵) گزینه ۲ پاسخ صحیح است.
- ۱۶۶) گزینه ۱ پاسخ صحیح است.
- ۱۶۷) گزینه ۴ پاسخ صحیح است.
- ۱۶۸) گزینه ۱ پاسخ صحیح است.
- ۱۶۹) گزینه ۳ پاسخ صحیح است.
- ۱۷۰) گزینه ۱ پاسخ صحیح است.
- ۱۷۱) گزینه ۳ پاسخ صحیح است.
- ۱۷۲) گزینه ۳ پاسخ صحیح است.
- ۱۷۳) گزینه ۴ پاسخ صحیح است.
- ۱۷۴) گزینه ۱ پاسخ صحیح است.
- ۱۷۵) گزینه ۴ پاسخ صحیح است.
- ۱۷۶) گزینه ۱ پاسخ صحیح است.
- ۱۷۷) گزینه ۳ پاسخ صحیح است.
- ۱۷۸) گزینه ۱ پاسخ صحیح است.

- ۱۷۹ گزینه ۱ پاسخ صحیح است.
- ۱۸۰ گزینه ۳ پاسخ صحیح است.
- ۱۸۱ گزینه ۱ پاسخ صحیح است.
- ۱۸۲ گزینه ۱ پاسخ صحیح است.
- ۱۸۳ گزینه ۲ پاسخ صحیح است.
- ۱۸۴ گزینه ۴ پاسخ صحیح است.
- ۱۸۵ گزینه ۱ پاسخ صحیح است.
- ۱۸۶ گزینه ۳ پاسخ صحیح است.
- ۱۸۷ گزینه ۱ پاسخ صحیح است.
- ۱۸۸ گزینه ۴ پاسخ صحیح است.
- ۱۸۹ گزینه ۲ پاسخ صحیح است.
- ۱۹۰ گزینه ۱ پاسخ صحیح است.
- ۱۹۱ گزینه ۳ پاسخ صحیح است.
- ۱۹۲ گزینه ۱ پاسخ صحیح است.
- ۱۹۳ گزینه ۲ پاسخ صحیح است.
- ۱۹۴ گزینه ۱ پاسخ صحیح است.
- ۱۹۵ گزینه ۴ پاسخ صحیح است.

www.akoedu.ir

۱	۱	۲	۳	۴	۳۳	۱	۲	۳	۴	۶۵	۱	۲	۳	۴	۹۷	۱	۲	۳	۴
۲	۱	۲	۳	۴	۳۴	۱	۲	۳	۴	۶۶	۱	۲	۳	۴	۹۸	۱	۲	۳	۴
۳	۱	۲	۳	۴	۳۵	۱	۲	۳	۴	۶۷	۱	۲	۳	۴	۹۹	۱	۲	۳	۴
۴	۱	۲	۳	۴	۳۶	۱	۲	۳	۴	۶۸	۱	۲	۳	۴	۱۰۰	۱	۲	۳	۴
۵	۱	۲	۳	۴	۳۷	۱	۲	۳	۴	۶۹	۱	۲	۳	۴	۱۰۱	۱	۲	۳	۴
۶	۱	۲	۳	۴	۳۸	۱	۲	۳	۴	۷۰	۱	۲	۳	۴	۱۰۲	۱	۲	۳	۴
۷	۱	۲	۳	۴	۳۹	۱	۲	۳	۴	۷۱	۱	۲	۳	۴	۱۰۳	۱	۲	۳	۴
۸	۱	۲	۳	۴	۴۰	۱	۲	۳	۴	۷۲	۱	۲	۳	۴	۱۰۴	۱	۲	۳	۴
۹	۱	۲	۳	۴	۴۱	۱	۲	۳	۴	۷۳	۱	۲	۳	۴	۱۰۵	۱	۲	۳	۴
۱۰	۱	۲	۳	۴	۴۲	۱	۲	۳	۴	۷۴	۱	۲	۳	۴	۱۰۶	۱	۲	۳	۴
۱۱	۱	۲	۳	۴	۴۳	۱	۲	۳	۴	۷۵	۱	۲	۳	۴	۱۰۷	۱	۲	۳	۴
۱۲	۱	۲	۳	۴	۴۴	۱	۲	۳	۴	۷۶	۱	۲	۳	۴	۱۰۸	۱	۲	۳	۴
۱۳	۱	۲	۳	۴	۴۵	۱	۲	۳	۴	۷۷	۱	۲	۳	۴	۱۰۹	۱	۲	۳	۴
۱۴	۱	۲	۳	۴	۴۶	۱	۲	۳	۴	۷۸	۱	۲	۳	۴	۱۱۰	۱	۲	۳	۴
۱۵	۱	۲	۳	۴	۴۷	۱	۲	۳	۴	۷۹	۱	۲	۳	۴	۱۱۱	۱	۲	۳	۴
۱۶	۱	۲	۳	۴	۴۸	۱	۲	۳	۴	۸۰	۱	۲	۳	۴	۱۱۲	۱	۲	۳	۴
۱۷	۱	۲	۳	۴	۴۹	۱	۲	۳	۴	۸۱	۱	۲	۳	۴	۱۱۳	۱	۲	۳	۴
۱۸	۱	۲	۳	۴	۵۰	۱	۲	۳	۴	۸۲	۱	۲	۳	۴	۱۱۴	۱	۲	۳	۴
۱۹	۱	۲	۳	۴	۵۱	۱	۲	۳	۴	۸۳	۱	۲	۳	۴	۱۱۵	۱	۲	۳	۴
۲۰	۱	۲	۳	۴	۵۲	۱	۲	۳	۴	۸۴	۱	۲	۳	۴	۱۱۶	۱	۲	۳	۴
۲۱	۱	۲	۳	۴	۵۳	۱	۲	۳	۴	۸۵	۱	۲	۳	۴	۱۱۷	۱	۲	۳	۴
۲۲	۱	۲	۳	۴	۵۴	۱	۲	۳	۴	۸۶	۱	۲	۳	۴	۱۱۸	۱	۲	۳	۴
۲۳	۱	۲	۳	۴	۵۵	۱	۲	۳	۴	۸۷	۱	۲	۳	۴	۱۱۹	۱	۲	۳	۴
۲۴	۱	۲	۳	۴	۵۶	۱	۲	۳	۴	۸۸	۱	۲	۳	۴	۱۲۰	۱	۲	۳	۴
۲۵	۱	۲	۳	۴	۵۷	۱	۲	۳	۴	۸۹	۱	۲	۳	۴	۱۲۱	۱	۲	۳	۴
۲۶	۱	۲	۳	۴	۵۸	۱	۲	۳	۴	۹۰	۱	۲	۳	۴	۱۲۲	۱	۲	۳	۴
۲۷	۱	۲	۳	۴	۵۹	۱	۲	۳	۴	۹۱	۱	۲	۳	۴	۱۲۳	۱	۲	۳	۴
۲۸	۱	۲	۳	۴	۶۰	۱	۲	۳	۴	۹۲	۱	۲	۳	۴	۱۲۴	۱	۲	۳	۴
۲۹	۱	۲	۳	۴	۶۱	۱	۲	۳	۴	۹۳	۱	۲	۳	۴	۱۲۵	۱	۲	۳	۴
۳۰	۱	۲	۳	۴	۶۲	۱	۲	۳	۴	۹۴	۱	۲	۳	۴	۱۲۶	۱	۲	۳	۴
۳۱	۱	۲	۳	۴	۶۳	۱	۲	۳	۴	۹۵	۱	۲	۳	۴	۱۲۷	۱	۲	۳	۴
۳۲	۱	۲	۳	۴	۶۴	۱	۲	۳	۴	۹۶	۱	۲	۳	۴	۱۲۸	۱	۲	۳	۴

۱۲۹	۱	۲	۳	۴
۱۳۰	۱	۲	۳	۴
۱۳۱	۱	۲	۳	۴
۱۳۲	۱	۲	۳	۴
۱۳۳	۱	۲	۳	۴
۱۳۴	۱	۲	۳	۴
۱۳۵	۱	۲	۳	۴
۱۳۶	۱	۲	۳	۴
۱۳۷	۱	۲	۳	۴
۱۳۸	۱	۲	۳	۴
۱۳۹	۱	۲	۳	۴
۱۴۰	۱	۲	۳	۴
۱۴۱	۱	۲	۳	۴
۱۴۲	۱	۲	۳	۴
۱۴۳	۱	۲	۳	۴
۱۴۴	۱	۲	۳	۴
۱۴۵	۱	۲	۳	۴
۱۴۶	۱	۲	۳	۴
۱۴۷	۱	۲	۳	۴
۱۴۸	۱	۲	۳	۴
۱۴۹	۱	۲	۳	۴
۱۵۰	۱	۲	۳	۴
۱۵۱	۱	۲	۳	۴
۱۵۲	۱	۲	۳	۴
۱۵۳	۱	۲	۳	۴
۱۵۴	۱	۲	۳	۴
۱۵۵	۱	۲	۳	۴
۱۵۶	۱	۲	۳	۴
۱۵۷	۱	۲	۳	۴
۱۵۸	۱	۲	۳	۴
۱۵۹	۱	۲	۳	۴
۱۶۰	۱	۲	۳	۴

۱۶۱	۱	۲	۳	۴
۱۶۲	۱	۲	۳	۴
۱۶۳	۱	۲	۳	۴
۱۶۴	۱	۲	۳	۴
۱۶۵	۱	۲	۳	۴
۱۶۶	۱	۲	۳	۴
۱۶۷	۱	۲	۳	۴
۱۶۸	۱	۲	۳	۴
۱۶۹	۱	۲	۳	۴
۱۷۰	۱	۲	۳	۴
۱۷۱	۱	۲	۳	۴
۱۷۲	۱	۲	۳	۴
۱۷۳	۱	۲	۳	۴
۱۷۴	۱	۲	۳	۴
۱۷۵	۱	۲	۳	۴
۱۷۶	۱	۲	۳	۴
۱۷۷	۱	۲	۳	۴
۱۷۸	۱	۲	۳	۴
۱۷۹	۱	۲	۳	۴
۱۸۰	۱	۲	۳	۴
۱۸۱	۱	۲	۳	۴
۱۸۲	۱	۲	۳	۴
۱۸۳	۱	۲	۳	۴
۱۸۴	۱	۲	۳	۴
۱۸۵	۱	۲	۳	۴
۱۸۶	۱	۲	۳	۴
۱۸۷	۱	۲	۳	۴
۱۸۸	۱	۲	۳	۴
۱۸۹	۱	۲	۳	۴
۱۹۰	۱	۲	۳	۴
۱۹۱	۱	۲	۳	۴
۱۹۲	۱	۲	۳	۴

۱۹۳	۱	۲	۳	۴
۱۹۴	۱	۲	۳	۴
۱۹۵	۱	۲	۳	۴