




آزمون ۱۰ از ۵



شرکت تعاونی خدمات آموزشی کارکنان
سازمان سنجش آموزش کشور

اثر دانشگاه اصلاح شود، مملکت اصلاح می‌شود.
امام خمینی (ره)

نام:

نام خانوادگی:

شماره داوطلبی:

صبح جمعه
۱۴۰۲/۱۰/۲۲

آزمون آزمایشی سنجش دهم
مرحله پنجم

آزمون اختصاصی ادبیات و علوم انسانی (دهم)

مدت پاسخگویی: ۱۰۰ دقیقه

تعداد سؤال: ۱۰۵

عنوان مواد امتحانی، تعداد، شماره سؤالات و مدت پاسخگویی

ردیف	مواد امتحانی	تعداد سؤال	از شماره	تا شماره	مدت پاسخگویی
۱	ریاضی و آمار (۱)	۱۵	۱	۱۵	۲۱ دقیقه
۲	اقتصاد	۱۵	۱۶	۳۰	۱۳ دقیقه
۳	علوم و فنون ادبی (۱)	۲۵	۳۱	۵۵	۲۵ دقیقه
۴	علوم اجتماعی (۱)	۱۵	۵۶	۷۰	۱۲ دقیقه
۵	تاریخ (۱)	۱۰	۷۱	۸۰	۸ دقیقه
۶	جغرافیای ایران	۱۰	۸۱	۹۰	۸ دقیقه
۷	مسطق	۱۵	۹۱	۱۰۵	۱۳ دقیقه

وبسایت: www.azmoonha.com

۱- نصف جذر عددی برابر ۲ است. مجموع معکوس این عدد با خود این عدد، کدام است؟

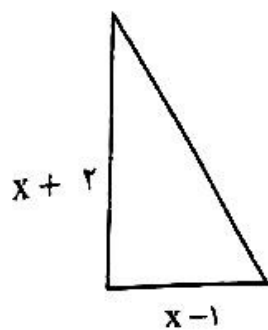
$\frac{257}{16}$ (۴)

۳۱ (۳)

$\frac{1}{16}$ (۲)

۱۶ (۱)

۲- اگر مساحت شکل روبه‌رو ۵ باشد، مقدار x کدام است؟



۱ (۱)

۵ (۲)

۳ (۳)

۴ (۴)

۳- در معادله $x^2 - 14x + 48 = 0$ ، تفاضل ریشه‌ها کدام است؟

۳ (۴)

۵ (۳)

۲ (۲)

-۳ (۱)

۴- به‌ازای کدام مقدار m ، معادله $x^2 + 4x + 2(m-1) = 0$ ریشه ندارد؟

صفر (۴)

۱ (۳)

۲ (۲)

۳ (۱)

۵- کدام‌یک از گزینه‌های زیر، می‌تواند یک جواب معادله $x + \frac{2}{x} = 3$ باشد؟

۳ (۴)

۲ (۳)

-۲ (۲)

-۱ (۱)

۶- اگر رابطه $f = \{(1, 2), (2, x), (x-y, 5), (1, y), (2, 5)\}$ تابع باشد، حاصل $2x^2 + 2y^2$ کدام است؟

۵۸ (۴)

۳ (۳)

۴۵ (۲)

۲ (۱)

۷- اگر a و b اعدادی طبیعی باشند و $(a+b, 2b^2) = (2a, 2)$ باشد، در این صورت $(a^2 - 2, b^2 + 1)$ کدام است؟

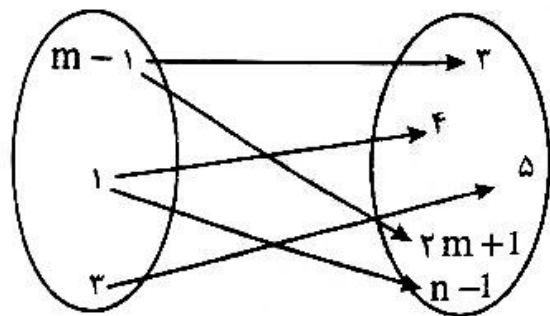
$(-1, -2)$ (۴)

$(1, -1)$ (۳)

$(2, -2)$ (۲)

$(-2, 2)$ (۱)

۸- اگر شکل زیر، نمودار تابع باشد، مقدار $n-m$ کدام است؟



-۴ (۱)

۴ (۲)

۳ (۳)

۷ (۴)

۹- اگر رابطه $f = \{(2, 2), (2, 5), (4, 2), (2, 7), (-2, 1), (0, 2)\}$ تابع باشد، در این صورت مقدار

کدام است $\frac{f(4) - f(2)}{f(2) + f(-2) \times f(0)}$ ؟

$-\frac{2}{5}$ (۴)

$\frac{5}{3}$ (۳)

$-\frac{8}{15}$ (۲)

۱۲ (۱)

۱۰- اگر $f: A \rightarrow B$ و $A = \{-1, 1, 0, 3\}$ باشد، مجموعه B چند عضو دارد؟

۱ (۴)

۳ (۳)

۴ (۲)

۲ (۱)

۱۱- اگر رابطه $f = \{(-1, 3), (0, 2), (1, 4), (-1, 2m+1)\}$ یک تابع باشد، مقدار $f(m)$ کدام است؟

- ۴ (۱) ۵ (۲) ۳ (۳) ۷ (۴)

۱۲- اگر $f(x) = |x-1| + |2x-2|$ باشد، مقدار $f(3) - f(2)$ کدام است؟

- ۴ (۱) ۳ (۲) ۶ (۳) -۳ (۴)

۱۳- اگر $f(x)$ تابعی خطی باشد که در آن $f(2) = 3$ و $f(4) = 6$ است، کدام گزینه بیانگر $f(-1)$ است؟

- $\frac{3}{2}$ (۱) ۵ (۲) $-\frac{3}{2}$ (۳) -۱ (۴)

۱۴- اگر مقادیر تابع خطی $f(x)$ مطابق جدول زیر باشد، ضابطه $f(x)$ به چه صورت است؟

$$f(x) = x - 2 \quad (۱)$$

$$f(x) = 3x + 1 \quad (۲)$$

$$f(x) = 2x + 3 \quad (۳)$$

$$f(x) = x + 3 \quad (۴)$$

x	۲	۵	۱۲
f(x)	۷	۱۶	۳۷

۱۵- مساحت مثلثی که خط $y = -x + 3$ با محور مثبت x و y می‌سازد، کدام است؟

- $\frac{9}{2}$ (۱) $\frac{15}{2}$ (۲) ۹ (۳) ۱۵ (۴)

اقتصاد

۱۶- در رابطه با تعاریف زیر کدام گزینه به ترتیب به درستی بیان شده است؟

الف: سود ظالمانه و بیش از حد عرفی در انجام معاملات.

ب: شی با ارزشی که برای انجام کار غیرقانونی به کسی دهند.

پ: انبار کردن و نگاه داشتن کالا به قصد گرون فروختن.

ت: از طریق آشنایان بانفوذ، انحصارات خاصی را به دست آوردن.

ث: برای انجام معامله، دروغ گفتن.

(۱) رانت - رشوه - فریب مشتری - ربا - احتکار

(۲) رانت - فریب مشتری - احتکار - ربا - رشوه

(۳) ربا - فریب مشتری - رانت - رشوه - احتکار

(۴) ربا - رشوه - احتکار - رانت - فریب مشتری

۱۷- اگر در یک مجموعه تولیدی میزان سود، دو برابر هزینه‌ها باشد و درآمد این مجموعه ۴۵,۰۰۰,۰۰۰ تومان باشد و برخی

از هزینه‌ها به شرح زیر باشد، هزینه اجاره ملک تولیدی و میزان سود این تولیدی، به ترتیب در کدام گزینه آمده است؟

هزینه مواد اولیه: ۸ میلیون تومان

حقوق کارکنان: ۵ میلیون تومان

هزینه اجاره: ؟

(۱) ۱۵,۰۰۰,۰۰۰ , ۳۵,۰۰۰,۰۰۰

(۲) ۲,۰۰۰,۰۰۰ , ۳۵,۰۰۰,۰۰۰

(۳) ۱۵,۰۰۰,۰۰۰ , ۳۵,۰۰۰,۰۰۰

(۴) ۲,۰۰۰,۰۰۰ , ۱۵,۰۰۰,۰۰۰

۱۸- مهم‌ترین تفاوت شرکت تعاونی با شرکت سهامی در کدام گزینه به درستی آمده است؟

- (۱) روش عضوگیری (۲) نحوه کسب سود (۳) نحوه اداره شرکت (۴) روش محاسبه سود

- ۱۹- کدام گزینه به درستی نشان دهنده درست یا نادرست بودن عبارتهای زیر است؟
 الف: دلیل سخت بودن مراقبت از کسب و کار، این است که ابتکار عمل در ایجاد کسب و کار امری دشوار است.
 ب: در شرکت های سهامی همواره هیئت مدیره خارج از سهام داران انتخاب می شود.
 پ: یک کار آفرین موفق باید خوش بین باشد؛ یعنی از قدم اول برداشتن نترسد.
 ت: علی رغم آنکه تولید کننده می داند در آینده در آمد مناسبی دارد، ولی باید نسبت به پس انداز توجه داشته باشد.
 ث: تفاوت بین «ثروت و دارایی» این است که ثروت در فرآیند تولید و مولد بودن و سبک عایدی است اما دارایی راکد است.
 (۱) ن - د - د - ن - ن
 (۲) د - د - ن - د - ن
 (۳) د - ن - ن - د - د
 (۴) ن - ن - ن - ن - د
- ۲۰- سه نفر با هم شرکتی راه اندازی می کنند و میزان سهام را ۲۴۰,۰۰۰ سهم قرار می دهند. در صورتی که نفر «الف» ۱۵ درصد، نفر «ب» ۴۰ درصد و نفر «پ» مابقی سهام را در اختیار داشته باشد.
 الف) سهم نفر «ب» چه مقدار است؟
 ب) در صورتی که نفر «ت» به سهامداران اضافه شود و بیست درصد سهم نفر «پ» را خریداری کند، دارای چه مقدار سهم خواهد بود؟
 (۱) الف) ۹۶,۰۰۰ ب) ۴۸,۰۰۰
 (۲) الف) ۱۰۸,۰۰۰ ب) ۴۸,۰۰۰
 (۳) الف) ۹۶,۰۰۰ ب) ۲۱,۶۰۰
 (۴) الف) ۱۰۸,۰۰۰ ب) ۲۱,۶۰۰
- ۲۱- در رابطه با کمیابی منابع و هزینه ها، کدام گزینه کاملاً درست است؟
 (۱) هزینه هدررفته باید در انتخاب و تصمیم شما تأثیر داشته باشد.
 (۲) به دلیل کمیابی منابع و امکانات، برخی اوقات باید بین گزینه های انتخاب «بده - بستان» کرد.
 (۳) همه عوامل، یا منابع تولید در اقتصاد کمیاب اند.
 (۴) آن بخش از هزینه هدررفته که تأثیری بر روند رفتار اقتصادی شما ندارد، مهم نیست.
- ۲۲- در صورتی که شما هشت میلیون تومان در بانک پس انداز داشته باشید، کدام پیشنهاد از پیشنهادهای زیر را قبول می کنید؟
 و هزینه فرصت این پیشنهاد چه رقمی است؟
 پیشنهاد اول: به کمک پدر خود در بورس اوراق بهادار سرمایه گذاری کنید و به سود ماهانه دویست هزار تومان برسید.
 پیشنهاد دوم: حساب سپرده بلندمدت در بانک باز کنید و سالانه به سود ۲۵ درصد برسید.
 پیشنهاد سوم: با خرید اوراق مشارکت مطمئن به تعداد ۲,۰۰۰ برگ به سود ۱,۵۰۰ تومان در هر برگ در طی سال برسید.
 (۱) پیشنهاد اول - دو میلیون و چهارصد هزار تومان
 (۲) پیشنهاد اول - ششصد هزار تومان
 (۳) پیشنهاد سوم - دو میلیون و چهارصد هزار تومان
 (۴) پیشنهاد سوم - ششصد هزار تومان
- ۲۳- مرز امکانات تولید، مرزی است.....
 (۱) بین آنچه یک کسب و کار با استفاده از منابع در دسترسش باید بتواند تولید کند.
 (۲) بین آنچه یک کسب و کار با استفاده از منابع در دسترسش باید بتواند به بیشترین سود برساند.
 (۳) بین آنچه یک کسب و کار با استفاده از منابع موجود و در دسترسش می تواند تولید کند، نه آنچه نمی تواند تولید کند.
 (۴) بین آنچه یک کسب و کار با استفاده از منابع موجود و در دسترسش می تواند تولید کند، و آنچه نمی تواند.
- ۲۴- در بین گزاره های زیر چند گزینه نادرست است؟
 الف: منحنی PPF نشان می دهد که یک واحد اقتصادی با استفاده حداقلی از منابع موجود به بیشترین امکانات تولید دست می یابد.
 ب: منحنی عرضه برای یک کالای عادی، از چپ به راست مساوی است.
 پ: الگوی مرز امکانات تولید، الگوی اقتصادی است که اجازه می دهد درک بهتری از «بده - بستان» های یک کشور در استفاده از منابع کمیاب پیدا کنید.
 ت: اگر در بازار قیمت کالایی در حال افزایش باشد، به دلیل مزاد عرضه، قیمت به سمت «قیمت تعادلی» پیش می رود.
 ث: شیب منحنی عرضه نمایانگر درجه حساسیت مصرف کننده نسبت به قیمت کالا است.
 (۱) یک
 (۲) دو
 (۳) سه
 (۴) چهار

۲۵- در شرایطی که سطح قیمت کالا از سطح قیمت تعادلی باشد، مقدار تقاضا از مقدار تقاضای تعادلی و مقدار عرضه از مقدار عرضه تعادلی خواهد بود. در این حالت گروهی از مصرف کنندگان موفق به خرید کالای مورد نظر خود نمی شوند.

- (۱) بالاتر - کمتر - بیشتر
 (۲) پایین تر - کمتر - بیشتر
 (۳) پایین تر - بیشتر - کمتر
 (۴) بالاتر - بیشتر - کمتر

۲۶- کدام گزینه به پرسش های زیر پاسخ درستی داده است؟

الف: هر چه شیب منحنی تقاضا بیشتر باشد، بر مصرف کننده تاثیر می گذارد.
 ب: کشش قیمتی کالای تجمعی چگونه است؟

پ: در منحنی تقاضا شیب منحنی نشان از تاثیر دارد.

ت: شیب منحنی عرضه چه رابطه ای با قیمت آن دارد؟

ث: اقتصاددانان معتقدند با وجود هزینه های مبادله، شیوه توزیع حقوق مالکیت بر اثر می گذارد.

- (۱) بیشتر - کم - قیمت - مستقیم - تخصیص منابع
 (۲) کمتر - کم - میزان تولید - غیرمستقیم - سازوکار بازار
 (۳) بیشتر - زیاد - میزان تولید - غیرمستقیم - سازوکار بازار
 (۴) کمتر - زیاد - قیمت - مستقیم - تخصیص منابع

۲۷- درست یا نادرست بودن هریک از عبارات زیر به ترتیب چگونه است؟

الف: زنجیره خلق ارزش به تمامی مراحل ایجاد ارزش افزوده اطلاق می شود.

ب: به واسطه مالیات بر ارزش افزوده، شفافیت مالیاتی کاهش و انگیزه و فرار مالیاتی افزایش می یابد.

پ: کشورهای اروپایی با تشکیل اتحادیه اقتصادی و حتی انتخاب پول واحد، بازرگانی کل اروپا را به صورت بازرگانی داخلی درآوردند.

ت: بهترین راه تحریک تقاضای کل جامعه که در مواقع رکود بتواند رونق را به بازار برگرداند، عبارت است از افزایش در مخارج جاری یا عمرانی دولت و کاهش نرخ های مالیاتی یا پایه های مالیاتی.

- (۱) ن - د - ن - د - ن
 (۲) د - ن - د - ن - د
 (۳) د - ن - د - ن - د
 (۴) ن - د - د - ن - ن

۲۸- آقای محمدی یک بنگاه تولیدی دارد. با توجه به درآمد و هزینه های ایشان که در جدول زیر آمده است، میزان مالیات پرداختی وی با نرخ ۱۰ درصد در طی یکسال چقدر خواهد بود؟

هزینه های جاری ماهانه	۲۰,۰۰۰,۰۰۰ تومان	هزینه سالانه مواد اولیه	۱,۲۰۰,۰۰۰,۰۰۰ تومان
هزینه استهلاک سالانه	۲۰۰,۰۰۰,۰۰۰ تومان	هزینه ماهانه اجاره کارگاه	۵۰,۰۰۰,۰۰۰ تومان
هزینه حقوق ماهانه کارکنان به ارزش هریک نفر (مجموعاً ۲۵ نفر) ۱۰,۰۰۰,۰۰۰ تومان		درآمد کل سال	
هزینه سالانه آب و برق و گاز و ...		۸,۵۰۰,۰۰۰,۰۰۰	
۱۱۰,۰۰۰,۰۰۰ تومان			

- (۱) ۳۵۱,۰۰۰,۰۰۰ تومان
 (۲) ۶۹۹,۰۰۰,۰۰۰ تومان
 (۳) ۳۱۵,۰۰۰,۰۰۰ تومان
 (۴) ۸۵۰,۰۰۰,۰۰۰ تومان

۲۹- منابع حاصل از تجارت بین الملل چه کمکی به کشورها می کند؟

- (۱) در استفاده از منابع یکدیگر سهیم می شوند.
 (۲) کار و پیشه برای نیروهای شاغل در کشور فراهم می شود.
 (۳) سطح استاندارد و زندگی مردم خود را ارتقا می دهند.
 (۴) تولیدکنندگان به صادرات کالاها و کسب سود مناسب تشویق می شوند.

۳۰- کدام گزینه پاسخ درست سوالات زیر است؟

الف: براساس اصل هر منطقه یا کشور باید کالاهایی را تولید کند که آن‌ها نسبت به هزینه تولید کالاهای مشابه در مقایسه با سایر نقاط کمتر باشد.

ب: با توجه به مفهوم کشورها بهتر است تخصص و تمرکز خود را بر روی آن محصول قرار بدهند.

پ: اگر یک کشوری در تولید یک محصول مزیت مطلق ندارد، باید به توجه کند.

- | | | |
|----------------------------------|---------------|---------------|
| (۱) الف) مزیت نسبی - هزینه فرصت | (ب) مزیت نسبی | (پ) واردات |
| (۲) الف) مزیت مطلق - هزینه فرصت | (ب) مزیت مطلق | (پ) مزیت نسبی |
| (۳) الف) مزیت مطلق - هزینه تولید | (ب) مزیت نسبی | (پ) واردات |
| (۴) الف) مزیت نسبی - هزینه تولید | (ب) مزیت مطلق | (پ) مزیت نسبی |

علوم و فنون ادبی (۱)

۳۱- با توجه به مبانی تحلیل متن، کدام گزینه نادرست است؟

(۱) در یک نگاه کلی، متون یا آثار مکتوب ادبی را به دو بخش تقسیم می‌کنیم.

(۲) لحن شعر الهی‌نامه عطار، روایی - داستانی است.

(۳) نگاهی کلی به متن از آغاز تا انجام برای کشف لحن و آهنگ، ضروری است.

(۴) چشم‌خوانی، نخستین گام مؤثر در رویارویی با متون است.

۳۲- همه عبارات زیر در حیطه شناسایی و استخراج نکات زبانی متن باب برزویه طبیب قرار می‌گیرند؛ به جز:

(۱) به‌کارگیری «شهد» در معنی «عسل»

(۲) بهره‌گیری از تمثیل برای بیان مفهوم غفلت انسان

(۳) کاربرد کلمه «قاتل» در معنی کشنده برای غیرانسان

(۴) ترکیب «زنبورخانه» به معنی «لانه زنبور» جالب توجه است.

۳۳- در متن زیر، درباره «زبان پهلوی» چند خطا به چشم می‌خورد؟

«آثاری که به زبان پهلوی تألیف شده، بیشتر آثار دینی زردشتی است. حتی رساله‌های کوچکی که معمولاً آن‌ها را در زمره

آثار غیردینی به‌شمار می‌آورند مانند «درخت آسوریک» نیز رنگ دینی دارند. آثار ادبی منثور و منظوم این زبان از میان

رفته است ولی ترجمه عربی و فارسی بعضی از آن‌ها در دست است.»

- | | | | |
|--------|--------|--------|----------|
| (۱) یک | (۲) دو | (۳) سه | (۴) چهار |
|--------|--------|--------|----------|

۳۴- همه عبارات زیر درباره «فارسی نو» مصداق دارد؛ به جز:

(۱) زبان درباری سامانیان، زبان محاوره و مکاتبه مقامات دولتی بوده است.

(۲) دری نخستین صورت زبان ادبی فارسی نو در برابر نفوذ عناصر زبان عربی بود.

(۳) آثار ادبی آن به سبب اهمیتی که سنت شفاهی در ایران پیش از اسلام داشته، غالباً به کتابت در نیامده بود.

(۴) به مفهوم واقعی خود تقریباً همزمان با نخستین دولت اسلامی ایران پدید آمد.

۳۵- زبان فارسی دری اولین بار در زمان کدام دولت ایرانی، به‌عنوان زبان رسمی اعلام شد؟

- | | | | |
|-----------|-----------|------------|-------------|
| (۱) ظاهری | (۲) صفاری | (۳) سامانی | (۴) آل‌بویه |
|-----------|-----------|------------|-------------|

- ۳۶- در میان عبارات زیر، کدام جملات از دیدگاه تاریخ ادبیات قرن چهارم و نیمه اول قرن پنجم درست است؟
 الف) امرای سامانی با تأکید بر ضرورت تألیف به زبان پهلوی و گردآوری تاریخ و روایات گذشته ایرانی به هویتی مستقل دست پیدا می‌کنند.
 ب) پایه حماسه‌های ملی به زبان فارسی در قرن چهارم گذاشته شد که زبان فارسی را با ادبیات غنی آن به اوج رساند.
 پ) در آغاز این دوره هنوز بیشتر دانشمندان ایرانی به ضرورت آثار خود را به فارسی دری می‌نویسند تا بتوانند خوانندگان بیشتری پیدا کنند.
 ت) دوره ترقی در همه زمینه‌های علمی بود و مردان مشهوری از آغاز تا پایان این دوره در فلسفه، طب و علوم دینی، سرگرم تألیف بودند.
 ث) آغاز این دوره که از نظر تاریخی با اوج حاکمیت سامانیان هم زمان است، عصر اندیشه استقلال ملی ایران به شمار می‌رود.

(۱) الف - ب - پ (۲) ب - پ - ث (۳) ث - ت - پ (۴) ت - پ - الف

- ۳۷- کدام گزینه درباره شعر فارسی در قرن چهارم و نیمه اول قرن پنجم، درست است؟
 (۱) کسی که قصیده تمام و کمال در موعظه و نصیحت در شعر فارسی سرود، کسانی مروزی بود.
 (۲) رایج‌ترین انواع شعر فارسی در این دوره، حماسی، مدحی و تعلیمی بود.
 (۳) شعر حکمی و اندرزی هم در این دوره به وجود آمد ولی در دوره سامانیان به پختگی رسید.
 (۴) شعر مدحی یا مدیحه‌سرایی نیز که از آغاز ادب فارسی به پیروی از شعر عربی معمول گشت با دو شاعر مشهور، رودکی و شهید بلخی قوت و استحکام یافت.

- ۳۸- کدام عبارت، در بخشی از مقدمه ترجمه تفسیر طبری نیامده است؟
 (۱) امیر سید ابوالمظفر ابوصالح منصور، علمای ماوراءالنهر را گرد کرد و از ایشان فتوای کرد که روا باشد که ما این کتاب را به زبان پارسی گردانیم.
 (۲) این کتاب را بیاوردند از بغداد، نیشته به زبان تازی، پس دشخوار آمد خواندن این کتاب.
 (۳) گفتند: روا باشد خواندن و نیشتن تفسیر قرآن به پارسی، مر آن را که او تازی نداند.
 (۴) این کتاب تفسیر بزرگ است از روایت محمد بن جریر طبری - رحمة الله علیه - به دستور امیر ابومنصور عبدالرزاق ترجمه کرده به زبان پارسی دری.

۳۹- کدام گزینه دارای مجاز و واژه آرای و فاقد استعاره است؟

- (۱) تو یوسفی که فدای تو باد جان عزیز
 (۲) یار اختیار ماست ز گیتی، ولی چه سود
 (۳) چو چشم مست تو را عین فتنه می‌بینم
 (۴) باد را بر سر کوی تو مجال است و مرا نیست

۴۰- بیشترین آرایه جان‌بخشی در کدام بیت به چشم می‌خورد؟

- (۱) دلبرا سنبل هندوی تو در تباب چراست
 (۲) چشم جادوی تو کز باده سحرست خراب
 (۳) وه که از دست سر زلف سیاهت چه کشیده‌ست
 (۴) نرگس مست تو چون فتنه از او بیدارست

۴۱- کدام گزینه دارای ایهام است؟

- (۱) لب شیرین تو هر دم شکرانگیزتر است
 (۲) اگر زاهد برود بوی از نسیم رحمت لطفت
 (۳) دور از آن روی بوسه‌تان افروز
 (۴) تا هوای گل رخسار تو دارد خواجو

- زین صفت، نرگس سیراب تو بیخواب چراست
 روز و شب معتکف گوشه محراب چراست
 آن که دزدیده در آن دیده خونخوار تو دیده‌ست
 همچو بخت من دل سوخته در خواب چراست
 زلف دلیند تو هر لحظه دلاویزتر است
 چو گل بر هم دزد صد تو، لباس زهد و تقوا را
 لاله را دل ز بوسه‌تان بگرفت
 هر شب از بلبل دل سوخته شب خیزتر است

۴۲- ابیات کدام گزینه، در داشتن هر دو آرایه «تشبیه و اغراق» مشترک‌اند؟

- | | | | |
|---|---|------------------------------------|--|
| الف) آب رو ریخته‌ایم از پی یک جرعه شراب | ب) برون ز نرگس پر خواب و روی چون خور دوست | پ) گر چراغ دل ما از نفس سرد بمرد | ت) گر زان که مشک ناب ز چین می‌شود پدید |
| گرفته کوثر نمی از جرعه پیمانۀ ماست | گمان مبر که مرا آرزوی خواب و خور است | شمع این طارم نه پنجره، پروانه ماست | صد چین در آن دو سلسله مشک قام اوست |
| (۱) ب - پ | (۲) الف - ب | (۳) ت - الف | (۴) پ - ت |

۴۳- در چند عبارت، همه انواع سجع دیده می‌شود؟

- اگر خَمَل و ثور گردون دور و تاریک است گل و نور هامون پیدا و نزدیک است.
 - طبع از این خانه بیگانه است و عقل در این آشیانه دیوانه.
 - خاک بساتین پر نقش آزری بود و فرش زمین پردیبه رومی.
 - شما را که قدم در آب نیست از غرق چه خبر و شما را که فرق در آفتاب نیست از حرق چه اثر.
- (۱) یک (۲) دو (۳) سه (۴) چهار

۴۴- آرایه‌های روبه‌روی کدام بیت تماماً درست است؟

- | | | | |
|--|----------------------------------|-------------------------------------|--|
| ۱) آشناییم به بی‌خویشی و بیگانه ز خویش | ۲) از دل تنگ شکر شور بر آمد روزی | ۳) طاق پیروزه که خلوتگه قطب فلک است | ۴) هر که مجنون نیست از احوال لیلی غافل است |
| وان که بیگانه نگشت از همه بیگانه ماست | که برآمد ز لب چشمه نوش تو نبات | کمترین زاویه‌ای بسر در کاشانه ماست | وان که مجنون را به چشم عقل بیند عاقل است |
| (تناقض - واژمآرایی) | (استعاره - ایهام) | (اغراق - تضاد) | (جتلل همسان - تلمیح) |

۴۵- ارزش موسیقایی سجع‌های کدام گزینه بیشتر است؟

- ۱) دانستم که مکان آسایش بسیار است و آرایش و نمایش بی‌شمار.
- ۲) عنان قالب در طلب و کشش آمد و زمام قلب در طرب و جنبش.
- ۳) بند پای افزار کُربت بگشادم و عصا و انبان غربت بنهادم.
- ۴) نسیم صبا عطار گشته‌ست و عرصه بستان قندهار شده.

۴۶- واژه‌های قافیه در کدام بیت دارای سجع و فاقد جناس هستند؟

- | | | | |
|-----------------------------|------------------------------------|--|---------------------------------|
| ۱) میندار چون سرکه خود خورم | ۲) این چنین صورت گر از آب و گل است | ۳) ای که از دفتر حسنت مه تابان بایی‌ست | ۴) ای من ز دو چشم نیم مستت مست |
| کسه جور خنلوند حلوا برم | چون به معنی بنگری جان و دل است | آتش روی تو در عین لطافت آبی‌ست | وز دست تو رفته عقل و دین از دست |

۴۷- حسن و حال حاکم بر فضای کدام بیت متفاوت است؟

- | | | | |
|------------------------------|---------------------------------|--------------------------|-----------------------------|
| ۱) هر که دل شیفته دارد چو من | ۲) این همه دل‌بندی و خوبی تو را | ۳) با تو برآمیختم آرزوست | ۴) فراق افتد میان دوستداران |
| بس که بگویند سخن دل‌پذیر | موضع ناز است و غرور ای صنم | وز همه کس وحشت و بیگانگی | زیبان و سود باشد در تجارت |

۴۸- در همه ابیات، تناسب همسویی وزن و عاطفه بر قدرت اثرگذاری سروده افزوده است؛ به جز:

- | | | | |
|------------------------------------|---|---------------------------------------|-------------------------------------|
| ۱) جسم مرا خاک کنی خاک مرا پاک کنی | ۲) محمل بدار ای ساربان تندی مکن با کاروان | ۳) پای تویی دست تویی هستی هر هست تویی | ۴) تابش خورشید ازل پرورش جان و جهان |
| باز مرا نقش کنی ماه عذاری صنما | کز عشق آن سرو روان گویی روانم می‌رود | بلبل سرمست تویی جانب گلزار بیا | بر صفت گل به شکر بخت و پیرورد مرا |

۴۹ - کدام بیت فاقد لحن روایی - داستانی است؟

- (۱) شب تاریک و بیم موج و گردابی چنین هایل
 (۲) اگر صد نوبتش چون قرص خورشید
 (۳) ای ساریان آهسته ران کارام جانم می رود
 (۴) به دام افتاد روباهی سحرگاه
- کجا داند حال ما سبکباران ساحل‌ها
 بیینم آب در چشم من آید
 وان دل که با خود داشتیم با دلستانم می رود
 به روبه بازی اندیشید در راه

۵۰ - در کدام گزینه به ترتیب («ی ای» صامت) («ه / ه» مصوت) به چشم می خورد؟

- (الف) عاقبت در سر کار تو کنم جان عزیز
 (ب) عجب از قافله دارم که به در می نشود
 (پ) هر دم از آن عنبرین کمند دلاویز
 (ت) صید را قید چه حاجت که گرفتار غمت
 (ث) چون ز عشقت، کمر گوه گرفتم.

- (۱) ت - الف - ب (۲) ب - پ - ت (۳) پ - الف - ت (۴) الف - پ - ت

۵۱ - تعداد هجاهای کوتاه در کدام گزینه متفاوت است؟

- (۱) فکر بسی گشت و نشانش ندید
 (۲) تو گویی دو گوشم بر آواز اوست
 (۳) دو تا می شدند بر تخت اوی
 (۴) خرد دست گیرد به هر دو سرای

۵۲ - علامت هجاهای کدام بیت، چهار بار (- U -) تکرار شده است؟

- (۱) هر نفس خورشید رویی را بُود با من قیران
 (۲) هر که می ورزد درختی در سراستان معنی
 (۳) از خستگان دل می برد لیکن نمی دارد نگه
 (۴) آن گل رخسار نگر نام گلستان چه بری
- لاجرم هر ساعتی در احتراق است اخترم
 بیخس اندر دل نشاند تخمش اندر جان بکارد
 سهل است دل بردن ولی باید که دلداری کند
 وان قد و رفتار نگر سرو خراسان چه کنی

۵۳ - کدام بیت نسبت به سایر ابیات مفهوم دورتری دارد؟

- (۱) برادران و بزرگان نصیحتم مکنید
 (۲) گر مراد خویش خواهی ترک وصل ما بگوی
 (۳) به اختیار گرو برد چشم پار از من
 (۴) رای رای توست خواهی جنگ و خواهی آتش
- که اختیار من از دست رفت و تیر از نست
 ور مرا خواهی رها کن اختیار خویش را
 که دور از او ببرد گریه اختیار از من
 ما قلم در سر کشیدیم اختیار خویش را

۵۴ - فلمرو فکری کدام گزینه با بیت زیر قرابت دارد؟

- «دل در جهان میند که کس را از این عروس
 جز آب دیده، خون جگر در کنار نیست»
- (۱) غرور جوانی چو از سر نشست
 (۲) مشو غره حسن گفتار خویش
 (۳) تو غره به آن مشو که می می نخوری
 (۴) غره مشو ز جاه مجازی به اعتبار
- ز گستاخ کاری فرو شوی دست
 نکو کن جو گفتار، کردار خویش
 صد لقمه خوری که می غلام است آن را
 کاین جاه را به نزد خدا اعتبار نیست

۵۵- همه ابیات زیر با هم قرابت معنایی دارند: به جز:

- | | |
|---------------------------------------|--|
| (۱) بیش مارسه شکستن نبود عهد وفارا | (۲) قیمت عشق نداند قدم صدق ندارد |
| (۳) به جای او ماند جای او به من | (۴) گر سرم می رود از عهد تو سر باز نیبجم |
| الله الله تو فراموش مکن صحبت ما را | |
| سنت عهدی که نحلل نکند بار جفا را | |
| وفا نمود جای او به جای او | |
| تا بگویند پس از من که به سر برد وفارا | |

علوم اجتماعی (۱)

۵۶- «کنش آگاهانه است» به چه معناست؟

- (۱) کنش انسان‌ها همیشه براساس آگاهی صحیح صورت می‌گیرد.
- (۲) کنش وابسته به آگاهی آدمی است و بدون آن انجام نمی‌شود.
- (۳) برشش «جرا حین کاری کردی؟» نشان‌دهنده آگاهانه بودن کنش انسان است.
- (۴) بودن این ویژگی برای انجام کنش کافی است.

۵۷- کدام گزینه در رابطه با پیامدهای کنش درست نیست؟

- (۱) در بسیاری از موارد، آدمیان کنش‌های خود را با توجه به پیامدهای ارادی و غیرارادی آن انجام می‌دهند.
- (۲) پیامدهایی که به اراده انسان‌ها وابسته است، احتمالی‌اند یعنی ممکن است انجام بشود یا نشود.
- (۳) پیامدهای غیرارادی کنش، قطعی است؛ یعنی حتماً انجام می‌شود.
- (۴) اغلب پیامدهای کنش، به اراده افراد انسانی؛ یعنی خود کنشگر یا افراد دیگر وابسته است.

۵۸- کدام گزینه در رابطه با «کنش اجتماعی» درست نیست و کدام جامعه‌شناس، حرکت جوامع بشری را به دو مقطع تقسیم می‌کند؟

- (۱) نوعی کنش است که با توجه به دیگران انجام می‌شود. - دورکیم
- (۲) آگاهی و اراده کنشگر، ناظر به دیگران، ویژگی‌ها و اعمال آن‌ها است. - آگوست کنت
- (۳) تنها در حضور فیزیکی دیگران صورت می‌گیرد. - دورکیم
- (۴) خردترین پدیده اجتماعی است. - آگوست کنت

۵۹- درست یا نادرست بودن عبارات زیر در کدام گزینه به درستی آمده است؟

- هنجارها از جنس هدف و مقصود و ارزش‌ها از جنس وسیله و روش رسیدن به هنجارها هستند.
- اگر کنش اجتماعی نباشد، هیچ هنجار اجتماعی شکل نمی‌گیرد و هیچ‌یک از ارزش‌های اجتماعی محقق نمی‌شوند.
- افراد با عمل کردن براساس ارزش‌ها و هنجارها، موجب تداوم و استمرار آن‌ها می‌شوند.
- ارزش اجتماعی، شیوه انجام کنش اجتماعی است که مورد قبول افراد جامعه قرار گرفته است. عملاً در هر جامعه‌ای احوالپرسی از دیگران، شیوه‌های معینی دارد.

- | | |
|-------------------|-------------------|
| (۱) د - د - ن - ن | (۲) ن - د - د - ن |
| (۳) ن - د - ن - د | (۴) ن - ن - د - ن |

۶۰- علت معنادار بودن پدیده‌های اجتماعی چیست؟

- (۱) پدیده‌های اجتماعی صرفاً در حضور فیزیکی افراد شکل می‌گیرد.
- (۲) پدیده‌های مطلوب و خواستنی هستند که افراد یک جامعه به آن‌ها تمایل و گرایش دارند.
- (۳) پدیده‌های اجتماعی را انسان‌ها در ارتباط با یکدیگر به وجود می‌آورند و افراد با آگاهی، اراده و هدف عمل می‌کنند.
- (۴) پدیده‌های اجتماعی به مرور از انسان‌هایی که آن‌ها را به وجود آوردند، مستقل می‌شوند و فرصت‌ها و محدودیت‌هایی را برای کنش‌ها و زندگی انسان‌ها ایجاد می‌کنند.

۶۱- به ترتیب کدام گزینه تأثیر «جهان اجتماعی بر جهان طبیعی» و تأثیر «جهان ماوراءطبیعی بر جهان اجتماعی» است؟

- (۱) آلودگی طبیعت و محیط‌زیست، نتیجه کارهای شتاب‌زده و نابخردانه انسان‌ها است - زلزله یا خشکسالی با اینکه پدیده‌های طبیعی‌اند، تأثیرات تعیین‌کننده‌ای در کنش‌های اجتماعی انسان‌ها دارند.
- (۲) سنت‌ها و قوانین الهی نیز با انسان‌های شاکر و ناسپاس و جوامع عادل و ظالم، یکسان عمل نمی‌کند و درهای آسمان را بر عدالت پیشگان می‌گشاید و ستم پیشگان را در قهر و انتقام الهی فرو می‌گذارد - موجودات طبیعی و ماوراء طبیعی به واسطه ارتباطی که با زندگی اجتماعی انسان پیدا می‌کنند، در گستره جهان اجتماعی قرار می‌گیرند.
- (۳) در مناطقی که آب‌وهوای خشک دارد، راه‌هایی برای رسیدن به ذخایر زیرزمینی آب ابداع می‌کنند و کشاورزی متناسب با همان آب‌وهوا بر می‌گزینند - سنت‌ها و قوانین الهی نیز با انسان‌های شاکر و ناسپاس و جوامع عادل و ظالم، یکسان عمل نمی‌کند و درهای آسمان را بر عدالت پیشگان می‌گشاید و ستم پیشگان را در قهر و انتقام الهی فرو می‌گذارد.
- (۴) آلودگی طبیعت و محیط‌زیست، نتیجه کارهای شتاب‌زده و نابخردانه انسان‌ها است - شناخت خداوند، فرشتگان، آرمان‌ها و ارزش‌های زندگی آدمیان را تغییر می‌دهد و کنش‌های اجتماعی آنان را دگرگون می‌سازد.

۶۲- کدام گزینه در رابطه با نمودار مقابل به درستی بیان شده است؟

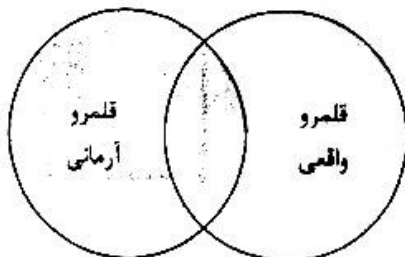
- (۱) جوامعی که به لحاظ تاریخی عقب مانده‌اند باید جوامع پیشرفته را الگوی حرکت خود قرار دهند.
- (۲) فرهنگ‌ها و تمدن‌ها نیز براساس آرمان‌ها و ارزش‌های خود، تحولاتی را دنبال می‌کنند و مسیرهای مختلفی را می‌پیمایند.
- (۳) عده‌ای از جامعه‌شناسان معتقدند، برخی از جهان‌های اجتماعی شبیه یکدیگرند و بر همین اساس باید مسیر یکسانی را نیز طی کنند.
- (۴) برخی فرهنگ‌ها و تمدن‌ها، زمانی طولانی دوام می‌آورند و بعضی دیگر پس از مدتی از بین می‌روند.

۶۳- هر یک از عبارات‌های زیر به کدام‌یک از فرصت‌ها و محدودیت‌های جهان متجدد از نگاه وبر اشاره دارد؟

- به تدریج انسان‌ها اسیر نظام اجتماعی پیچیده‌ای می‌شوند که همه ابعاد وجود آنان را احاطه می‌کند.
- رواج کنش‌های حسابگرانه، عرصه را بر سایر کنش‌های انسانی مانند کنش‌های عاطفی و اخلاقی تنگ می‌کند.
- با افول علوم عقلانی و وحیانی امکان ارزیابی ارزش‌ها و آرمان‌های بشری با علوم تجربی قابل مطالعه نیستند.
- علوم تجربی با روش تجربی و فناوری حاصل از آن، قدرت پیش‌بینی و پیشگیری از حوادث و مسائل طبیعی همانند بیماری، زلزله و ... توانایی مسلط شدن بر آن‌ها را به انسان می‌دهد.

- (۱) گسترش دانش و وسایل - زوال عقلانیت ذاتی - غلبه کنش‌های عقلانی معطوف به اهداف دنیوی - بسط و توسعه عقلانیت ابزاری
- (۲) قفس آهنین - غلبه کنش‌های عقلانی معطوف به اهداف دنیوی - زوال عقلانیت ذاتی - بسط و توسعه عقلانیت ابزاری
- (۳) قفس آهنین - زوال عقلانیت ذاتی - بسط و توسعه عقلانیت ابزاری - غلبه کنش‌های عقلانی معطوف به اهداف دنیوی
- (۴) گسترش عقلانیت ابزاری - قفس آهنین - زوال عقلانیت ذاتی - غلبه کنش‌های عقلانی که اهداف دنیوی را تعقیب می‌کنند.

۶۴- کدام گزینه در رابطه با شکل زیر درست است؟ کدام گزینه بیانگر شکل زیر است؟



- (۱) آرمان‌ها و قلمرو آرمانی همان نظام معیار جهان اجتماعی است که همواره به آن عمل می‌کنند.
- (۲) ارزش‌هایی که مردم یک جامعه از آن جانبداری می‌کنند و رعایت آن‌ها را لازم می‌دانند اما در عمل ممکن است برخی از آن‌ها را نادیده بگیرند، قلمرو واقعی جهان اجتماعی را شکل می‌دهد.
- (۳) ارزش‌هایی که مردم به آن عمل می‌کنند، قلمرو آرمانی جهان اجتماعی را می‌سازد.
- (۴) به هر اندازه که مردم مطابق ارزش‌ها عمل کنند، به همان اندازه آرمان‌ها وارد قلمرو واقعی جهان اجتماعی می‌شوند.

۶۵- کدام گزینه نادرست است؟

- (۱) حق و باطل بودن هر لایه از جهان اجتماعی، با علم متناسب با همان لایه شناخته می‌شود.
- (۲) علوم تجربی توان دآوری درباره فنون و روش‌های اجرایی را ندارند.
- (۳) حق و باطل بودن ارزش‌ها و عقاید کلان درباره انسان و جهان را با روش‌ها و علوم تجربی نمی‌توان شناخت.
- (۴) علوم مبتنی بر عقل و وحی، دو ابزار مهم برای شناخت عقاید و ارزش‌ها هستند.

۶۶- هر عبارت نشانگر کدام مفهوم است؟

- مجموعه‌ای از عقاید، ارزش‌ها، هنجارها و نمادهایی است که برای رفع نیازهای معینی از افراد و جهان اجتماعی اختصاص پیدا می‌کند.
- پدیده‌هایی که به واسطه ارتباطی که با زندگی انسان دارند به جهان اجتماعی راه می‌یابند.
- شیوه زندگی گروهی از انسان‌ها است که سالیان متمادی با یکدیگر زندگی می‌کنند.
- به کنش‌های اجتماعی و پیامدهای آن می‌گویند.

- (۱) ارزش اجتماعی - پدیده‌های تکوینی - فرهنگ عمومی - پدیده‌های اجتماعی
- (۲) نهاد اجتماعی - پدیده‌های تکوینی - فرهنگ عمومی - پدیده‌های اجتماعی
- (۳) نهاد اجتماعی - پدیده‌های اعتباری - خرده فرهنگ موافق - پدیده‌های انسانی
- (۴) هنجار اجتماعی - پدیده‌های اعتباری - فرهنگ عمومی - پدیده‌های انسانی

۶۷- کدام گزینه بیانگر ویژگی‌های لایه‌های سطحی جهان اجتماعی است؟

- (۱) بخش‌هایی از جهان اجتماعی که به سختی تغییر می‌کنند و تغییر آن‌ها، تحول مهمی در جهان اجتماعی پدید می‌آورد.
- (۲) اغلب آن‌ها می‌توانند حذف شوند، ولی با حذف آن‌ها جهان اجتماعی تداوم می‌یابد.
- (۳) بخش‌هایی که تأثیرات تعیین‌کننده‌ای بر جهان اجتماعی دارند.
- (۴) برحسب شرایط، در زمینه‌های مختلف قابل تغییراند و تغییر برخی از آن‌ها تا زمانی که به تغییر لایه‌های عمیق منجر نشود، موجب تحول و تغییر بنیادین جهان اجتماعی نمی‌شود.

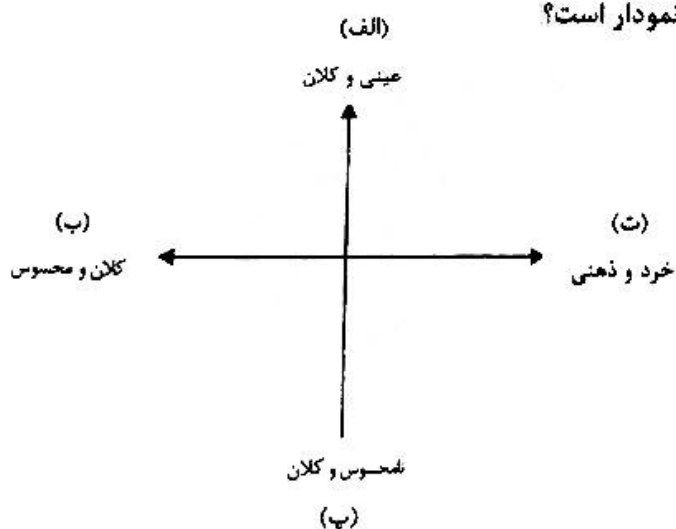
۶۸- به ترتیب مصداق‌های «وضوگرفتن، تخیل کردن، سلام کردن، ادراک» مربوط به کدام یک از انواع کنش هستند؟

- (۱) اجتماعی - فردی - بیرونی - درونی
- (۲) بیرونی - درونی - فردی - فردی
- (۳) فردی - درونی - اجتماعی - فردی
- (۴) فردی - فردی - بیرونی - اجتماعی

۶۹- علت تفاوت و تنوع جهان‌های اجتماعی انسان‌ها در کدام گزینه نیامده است؟

- (۱) رفتار انسان مانند سایر موجودات زنده، ناآگاهانه یا غریزی است.
- (۲) تنوع آگاهی و معرفت انسان‌ها و همچنین تنوع اراده و اختیار آن‌ها است.
- (۳) انسان در قبال فرهنگی که از طریق تربیت به او منتقل می‌شود، صرفاً موجودی منفعل و پذیرنده نیست.
- (۴) جهان‌های اجتماعی بر اساس عقاید و ارزش‌های کلان خود، متنوع‌اند.

۷۰- هر یک از عبارات زیر به ترتیب، مربوط به کدام قسمت نمودار است؟



- عدالت اجتماعی

- مراقبت از سالمندان

- تصور من از رتبه کنکور سراسری

- راهپیمایی روز قدس

(۱) پ - الف - ت - ب

(۲) الف - پ - ت - ب

(۳) پ - ت - پ - الف

(۴) پ - الف - ب - ت

تاریخ (۱)

۷۱- عبارت زیر بیانگر کدام یک از مراحل پژوهش در تاریخ است؟

«باید مسئله تازه‌ای بررسی شود و پژوهش دارای اثر و فایده باشد.»

- (۱) شناسایی منابع
- (۲) انتخاب موضوع
- (۳) تحلیل و تفسیر اطلاعات
- (۴) گردآوری و تنظیم اطلاعات

- ۷۲- در کدام یک از حکومت‌های ایران باستان از گاه‌شماری اوستایی استفاده می‌شده است و یکی از شباهت این گاه‌شماری با تقویم هجری خورشیدی چه بود؟
- (۱) مادها و هخامنشیان - افزودن یک ماه به سال
(۲) مادها و ساسانیان - داشتن ۵ روز اضافه در آخر سال
(۳) هخامنشیان و اشکانیان - افزودن یک روز به آخر هر ماه هر ۴ سال یکبار
(۴) اشکانی و ساسانی - نگذاری ماه‌ها بر سلسله‌های ایزدان و فرشتگان
- ۷۳- متن زیر، درباره‌ی کدام یک از بحث‌های باستان‌شناسی می‌باشد؟
«باستان‌شناسان از نوشته‌های مورخان برای شناسایی، کشف و مطالعه آثار باستانی بهره می‌برند - نتایج کاوش‌های باستان‌شناسان منبع ارزشمندی برای تحقیقات مورخان به‌شمار می‌رود.»
- (۱) تعریف باستان‌شناسی و علم تاریخ
(۲) شناسایی و کشف آثار باستانی
(۳) ارتباط باستان‌شناسی و علم تاریخ
(۴) کمک باستان‌شناسی به مطالعه دوره‌های تاریخی و کشف آن‌ها
- ۷۴- شیوه حکومتی حمورابی فرمانروای بابل قدیم، چگونه بود؟
- (۱) قدرت و ثروت کاهنان و فرمانروایان سیاسی را باهم برعهده داشت.
(۲) احترام گذاشتن به آداب و رسوم، اندیشه و آزادی مردمان و اقوام گوناگونی که در بابل گرد هم آمده بودند.
(۳) بر قدرت و اختیارات فراوان پادشاه و اطاعت کامل حاکمان ولایات از او مبتنی بود.
(۴) اشخاصی را با عنوان «کارگزار کل کشور» در حکومت با خود شریک کرده بود.
- ۷۵- ترتیب وقوع رویدادهای تاریخی زیر در هند باستان، چگونه است؟
- الف - مهاجرت آریایی‌ها به شمال غرب هند
ب - شورش چندراگوپتا بر ضد یونانیان
پ - تصرف قسمت‌های از شمال غرب هند توسط داریوش بزرگ
ت - تأسیس سلسله موریان
- (۱) الف - پ - ب - ت (۲) الف - ب - پ - ت (۳) ب - الف - پ - ت (۴) ت - ب - پ - الف
- ۷۶- تمدن مینوسی در کشف شد و تمدن میسنی را اقوام بیابانگردی که از آمده بودند، تشکیل دادند.
- (۱) شبه جزیره یونان - بیابان‌های اروپای مرکزی به شبه جزیره یونان
(۲) شبه جزیره کرت در شمال یونان کنونی - جنوب شبه جزیره بالکان
(۳) شبه جزیره بالکان در جنوب یونان - شبه جزیره ایتالیا
(۴) جزیره کرت در جنوب یونان - دشت‌های اروپای شرقی به شبه جزیره یونان
- ۷۷- در سنگ‌نوشته کعبه زرتشت در نقش رستم شرح چه رویدادهایی دیده می‌شود و چه گزارشی در پنج ستون از سنگ‌نوشته بیستون، آمده است؟
- (۱) جنگ‌های شاپور یکم با یونان - سال‌های آخر حکومت داریوش بزرگ
(۲) جنگ‌های شاپور یکم با رومیان - دوران آغازین فرمانروایی داریوش بزرگ
(۳) سال‌های آغازین حکومت داریوش بزرگ و سرکوب مخالفان - جنگ‌های یونان و روم
(۴) درگیری پادشاهان ساسانی با قیام مزدک - فتح جزیره‌های یونانی توسط داریوش بزرگ
- ۷۸- کدام اقدام به منزله ورود انسان از دوره شکار و گردآوری خوراک به دوره یک‌جانیشینی و تولید خوراک در فلات ایران است؟
- (۱) کشت گیاهانی مانند گندم و جو و توسعه صنایع مانند سفالگری، فلزکاری و بافندگی
(۲) اهلی کردن حیوانات و گسترش سکونتگاه‌ها از روستا به شهر
(۳) کشت گیاهانی مانند گندم و جو و اهلی کردن جانورانی مثل بز و گوسفند
(۴) ساخت ابزار شکار از چوب و سنگ و استخوان و اهلی کردن جانوران
- ۷۹- کدام مورد از بهترین نمونه‌های صنعت و هنر در فلزکاری ایران باستان است و مراکز تولید و صدور سنگ صابون به دور و نزدیک ایران در کدام منطقه بوده است؟
- (۱) ساخت زیورآلات مسی - تل‌ابلیس و دشت شهداد
(۲) فنون ذوب و قالب‌گیری مفرغ - تپه زاعه در قزوین و شهرستان بافت
(۳) چکش‌کاری بر روی رگه‌های طبیعی مس - شهداد، تپه یحیی در استان کرمان
(۴) مفرغ‌های لرستان - جیرفت و تپه یحیی در استان کرمان

۸۰- کدام گزینه درباره موقعیت اجتماعی زنان در جوامع باستانی فلات ایران، درست است؟

- (۱) کشف پیکره‌های گلی فراوانی که به «الهه» معروفاند، معرف قدرت و نفوذ زنان بود.
- (۲) زنان دارای قدرت و نفوذ فراوان بودند و در کارهای مهم جامعه نقش اساسی و تعیین کننده داشته‌اند.
- (۳) زنان ایرانی نسبت به زنان یونانی آزادتر بودند و نقش مؤثر در جامعه داشتند.
- (۴) زنان صبور و فرمان‌بر بودند و اطاعت بی‌چون و چرا می‌کردند.

جغرافیای ایران

۸۱- هریک از گزاره‌های زیر در کدام یک از قسمت‌های مراحل پژوهش در جغرافیا انجام می‌شود؟

- مطالعه سابقه - پیشینه مسئله - نتایج پژوهش دیگران
- (۱) گام دوم، تدوین فرضیه
 - (۲) گام اول، طرح سؤال و بیان مسئله
 - (۳) گام سوم، جمع‌آوری اطلاعات
 - (۴) گام پنجم، نتیجه‌گیری و ارائه پیشنهادات

۸۲- تنوع آب‌وهوایی ایران و انواع تولیدات کشاورزی و محیط زیست متنوع در کدام یک از موقعیت‌های کشورمان بررسی می‌شود؟

- (۱) موقعیت سیاسی
- (۲) موقعیت نسبی و مطلق
- (۳) موقعیت اقتصادی
- (۴) موقعیت ریاضی یا مطلق

۸۳- جغرافی‌دان یا هدف توسعه یک شهر کدام مسائل را طرح و مطالعه می‌کند؟

- (۱) بررسی جغرافیای آب‌ها - بررسی شکل‌گیری مناطق مسکونی و جلوگیری از فرسایش خاک
- (۲) بررسی امکان توسعه طبیعی شهر - مطالعه جمعیت جوان و کارآمد جلوگیری از گستردگی فیزیکی شهر
- (۳) تهیه نقشه شهر - مطالعه بافت جمعیت شهر - میزان منابع آبی شهر
- (۴) مطالعه شیب هر شهر برای جلوگیری از سیل - نقشه‌خوانی و مطالعه جمعیت منفی و مثبت شهر

۸۴- با توجه به علل پیدایش جلگه‌ها، کدام گزینه درست است؟

- (۱) ساختمان زمین، عمق آب، حرکات دریا، طغیان رودخانه‌ها
- (۲) تراکم آبرفت، عمق آب، مقاومت سنگ، ساختمان زمین
- (۳) مقاومت سنگ، تراکم آبرفت، انباشت مواد حاصل از فرسایش
- (۴) ارتفاع پایین‌تر از سطح آب‌ها، توان سدسازی بر روی رودهای منتهی به جلگه‌ها، ساختمان زمین

۸۵- با توجه به عبارت زیر، ویژگی‌های توده‌های هوا که به ایران وارد می‌شوند، کدام است؟

«در دوره گرم از اقیانوس هند به ایران نفوذ می‌کنند و موجب باران‌های سیلابی می‌شود. گاهی در دوره سرد سال رطوبت دریای سرخ را به کشور می‌آورد و باعث بارندگی می‌شود.»

- (۱) توده هوای مرطوب موسمی - توده هوای سودانی
- (۲) توده هوای سودانی - توده هوای مرطوب غربی
- (۳) توده هوای گرم و خشک - توده هوای سرد و خشک سибیری
- (۴) توده هوای مرطوب غربی - توده هوای مرطوب موسمی

۸۶- دو عبارت «درک توان‌ها و استفاده از منابع برای رفع نیازها و نگاه سودجویانه برای رسیدن به خواسته‌ها» مربوط به کدام گزینه‌های زیر است؟

- (۱) تعریف روابط متقابل انسان و محیط
- (۲) عملکرد انسان در ارتباط با محیط طبیعی
- (۳) کنی‌نگری یا دید ترکیبی در جغرافیا
- (۴) نقش مکان بر فعالیت‌های انسانی

۸۷- فرضیه‌های پژوهشگر به چه عواملی بستگی دارد و ابزارهای گردآوری اطلاعات میدانی کدام است؟

- (۱) تجزیه و تحلیل‌های منطقی و رد فرضیه‌های قبلی - سوابق پژوهشی و مراجعه به افراد و محیط زیست
- (۲) مورد بررسی قرار دادن پژوهش دیگران و رد آن‌ها - حدس اندیشمندانه و طرح سؤال‌های جدید
- (۳) سوابق پژوهشی، تجربیات و میزان دانش - مشاهده، مصاحبه و پرسش‌نامه
- (۴) پرسش‌نامه مصاحبه و مشاهده - میزان دانش، تجربیات و سوابق پژوهشی

۸۸- کدام گزینه درست است؟

- (۱) ایران با ۱۵ کشور مرز مشترک و سیاسی به صورت خشکی یا آبی دارد که طولانی‌ترین آن با عراق و کوتاه‌ترین مرزش با ارمنستان است.
- (۲) ایران با ۱۵ کشور مرز مشترک دارد که طولانی‌ترین آن با افغانستان و کوتاه‌ترین آن با عراق است.
- (۳) ایران به علت مجاورت با دریاچه‌ها و امکان دسترسی به خطوط دریایی با ۱۵ کشور ارتباط و مرز سیاسی مشترک دارد.
- (۴) ایران کشور وسیعی است که حدود ۱۹۵/۶۴۸/۱ کیلومتر مرز مشترک سیاسی با همسایگانش دارد.

۸۹- با توجه به پراکندگی ناهمواری‌های ایران، چه تقسیماتی را می‌توان برای آن در نظر گرفت؟

- (۱) الف) سرزمین‌های کوهستانی - ب) منطقه کوهستانی آذربایجان
- (۲) الف) سرزمین‌های پست و هموار - ب) منطقه کوهستانی البرز
- (۳) الف) دشت‌ها و جلگه‌ها - ب) سرزمین‌های کوهستانی
- (۴) الف) سرزمین‌های کوهستانی - ب) سرزمین‌های پست و هموار

۹۰- با توجه به علت‌های تنوع آب‌وهوایی در ایران کدام مورد درست نیست؟

- (۱) موقعیت جغرافیایی - ورود توده‌های هوا
- (۲) میزان ارتفاع و جهت کوهستان‌ها - موقعیت جغرافیایی
- (۳) عرض جغرافیایی - میزان ارتفاع و جهت کوهستان‌ها
- (۴) ورود توده‌های هوا - موقعیت جغرافیایی

منطق

۹۱- کدام عبارت، درباره دانش منطق درست است؟

- (۱) ذهن انسان به صورت ارادی بر اساس قواعدی می‌اندیشد.
- (۲) ذهن انسان در هر نوع تعریف و استدلالی دچار خطا می‌گردد.
- (۳) با بیان قواعد حاکم بر ذهن، روش‌های جلوگیری از مغالطات را بیان می‌کند.
- (۴) در محیط تحصیلی، منطق منحصرأ برای ارزیابی اندیشه‌های فلسفی به کار می‌رود.

۹۲- کدام گزینه درباره تصدیق نادرست است؟

- (۱) با معنا سروکار دارد و نیازمند استدلال است.
- (۲) در آن اوصافی را به چیزی نسبت داده یا سلب می‌نماییم.
- (۳) در آن می‌توان چند تصور داشته باشیم.
- (۴) در آن حکم و قضاوت وجود دارد.

۹۳- در کدام گزینه هر سه نوع دلالت در کلمات مشخص شده از نوع التزامی است؟

- (۱) به دانشگاه رفتم و از آموزش پرسیدم شروع آزمون‌های پایانی چه زمانی است؟
- (۲) شهر شلوغ شده بود و من در خیابان آدمی را دیدم که فریاد می‌زند شهر من آرام باش.
- (۳) به دوستم گفتم اگر چه دلت شکسته است ولی تو مراقب باش سنگی بر شیشه دل دیگران نباشی که زخمی‌شان کنی.
- (۴) از مدرسه بیرون آمدم و به مدیر مدرسه گفتم مدرسه حال خوبی ندارد.

۹۴- کدام یک از مغالطه‌های زیر مغالطه اشتراک لفظ است؟

- (۱) پرسیدم: امسال کلاس داری؟ گفتم: خیلی با کلاس.
- (۲) من از آن روز که دربند توام آزادم.
- (۳) نویسنده‌ای با بیش از پنجاه کتاب و مقاله.
- (۴) این هدیه قیمت ندارد.

۹۵- کدام دسته از مفاهیم زیر همگی کلی است؟

- (۱) فهرمان شهر، کتاب من
- (۲) کعبه، جنگل ابر
- (۳) جامعه بشری، اسب رستم
- (۴) جنگ چالدران، این میز کلاس

۹۶- کدام تعریف زیر درباره تعریف، جامع است اما مانع نیست؟

- (۱) روند پاسخ به چراها
- (۲) مرتب ساختن معلومات برای کشف مجهول
- (۳) تصدیق‌های معلوم کننده تصور مجهول
- (۴) آشکار ساختن تصور مجهول با مثال و نمونه

۹۷- رابطه بین دو مفهوم وجود و جسم از نسبت‌های چهارگانه مانند رابطه کدام یک از مفاهیم در گزینه‌های زیر است؟

- (۱) سفید و رنگ (۲) جسم - سه بعدی (۳) سنگ - سیاه (۴) مرغ - تخم مرغ

۹۸- کدام یک از موارد زیر تعریف به‌شمار می‌آید؟

- (۱) باران آمد در خانه ماندم.
 (۲) با دانستن منطق می‌توان سریع‌تر و دقیق‌تر اندیشید.
 (۳) بیماری مجید سبب غیبت او شده است.
 (۴) دانش تشریح طرز کار طبیعی ذهن.

۹۹- با توجه به نسبت‌های چهارگانه و متناسب با شکل زیر کدام گزینه «درست» است؟

- | | | |
|----------------|----------|----------------|
| (۱) الف: جسم | ب: توپ | پ: موجود |
| (۲) الف: حیوان | ب: انسان | پ: سفید |
| (۳) الف: اسان | ب: باهوش | پ: دانش‌آموز |
| (۴) الف: شکل | ب: مثلث | پ: دارای اضلاع |

۱۰۰- درباره استنتاج بهترین تبیین می‌توان گفت:

- (۱) مبنای اعتماد در علوم تجربی و تأییدکننده قوانین کلی علمی است.
 (۲) نوعی استدلال که از مقدمات کلی به نتیجه جزئی رسیده است.
 (۳) حکم در آن جزئی است زیرا از دو چیز مشابه، نتیجه گرفته است.
 (۴) در مسائل علمی برای بررسی فرضیه‌های علمی مورد استفاده است.

۱۰۱- کدام عبارت زیر یک قضیه است؟

- (۱) دست را به من بسیار تا تو را به سوی سعادت برم.
 (۲) اگرم در نگشایی ز ره بام در آیم.
 (۳) بود آیا که در میکده‌ها بگشایند.
 (۴) ای خوش آن روز که پرواز کنم تا بر دوست.

۱۰۲- از نظر سورا، کدام قضیه با بقیه قضیه‌ها متفاوت است؟

- (۱) هر گردی گردو نیست.
 (۲) ظلم خوشایند نیست.
 (۳) حتی یک نفر نیامد.
 (۴) مثلث شکل سه‌ضلعی است.

۱۰۳- کدام یک از قضیه‌های زیر شخصیه است؟

- (۱) حمید جان در را باز کن.
 (۲) لباسش را پوشید و فرار کرد.
 (۳) ترک این مرحله بی‌همراهی خضر مکن.
 (۴) شلوغ‌ترین شهر جهان زیبا بود.

۱۰۴- از نظر اجزا و ساختار قضیه حمله، کدام قضیه با بقیه متفاوت است؟

- (۱) نادان ناتوان است.
 (۲) دانا توانمند است.
 (۳) توانا است آنکه داناست.
 (۴) دشمن نادان ناتوان است.

۱۰۵- کدام عبارت درباره سورا در قضیه، نادرست است؟

- (۱) دانسته مصادیق موضوع و محمول را مشخص می‌کند.
 (۲) قضیه‌های شخصیه دارای سورا نیستند.
 (۳) سورا «هر و هیچ» برای قضیه‌های محصوره کلی استفاده می‌شود.
 (۴) سورا در قضیه بیانگر کیفیت قضیه است.



دانلود رایگان تمام آزمون‌های آزمایشی در کانال ما:

@Azmoonha_Azmayeshi

علوی

تمام پایه‌ها و رشته‌ها



آزمون‌ها آزماینتی
T.me/Azmoonha_Azmayeshi



شرکت تعاونی خدمات آموزشی کارکنان
سازمان سنجش آموزش کشور

گزینه دو



مؤسسه آموزشی فرهنگی

آزمون‌ها آزماینتی
T.me/Azmoonha_Azmayeshi



حلقه
سنج

